



Series **GEFH1/1**

**SET ~ 2**



रोल नं.

Roll No.

प्रश्न-पत्र कोड  
Q.P. Code

**55/1/2**



परीक्षार्थी प्रश्न-पत्र कोड को उत्तर-पुस्तिका के मुख-पृष्ठ पर अवश्य लिखें ।

Candidates must write the Q.P. Code on the title page of the answer-book. \*

## भौतिक विज्ञान (सैद्धान्तिक) PHYSICS (Theory)

निर्धारित समय : 3 घण्टे

अधिकतम अंक : 70

Time allowed : 3 hours

Maximum Marks : 70

### नोट / NOTE :

- (i) कृपया जाँच कर लें कि इस प्रश्न-पत्र में मुद्रित पृष्ठ 27 हैं ।  
Please check that this question paper contains 27 printed pages.
- (ii) प्रश्न-पत्र में दाहिने हाथ की ओर दिए गए प्रश्न-पत्र कोड को परीक्षार्थी उत्तर-पुस्तिका के मुख-पृष्ठ पर लिखें ।  
Q.P. Code given on the right hand side of the question paper should be written on the title page of the answer-book by the candidate.
- (iii) कृपया जाँच कर लें कि इस प्रश्न-पत्र में 35 प्रश्न हैं ।  
Please check that this question paper contains 35 questions.
- (iv) कृपया प्रश्न का उत्तर लिखना शुरू करने से पहले, उत्तर-पुस्तिका में प्रश्न का क्रमांक अवश्य लिखें ।  
Please write down the serial number of the question in the answer-book before attempting it.
- (v) इस प्रश्न-पत्र को पढ़ने के लिए 15 मिनट का समय दिया गया है । प्रश्न-पत्र का वितरण पूर्वाह्न में 10.15 बजे किया जाएगा । 10.15 बजे से 10.30 बजे तक छात्र केवल प्रश्न-पत्र को पढ़ेंगे और इस अवधि के दौरान वे उत्तर-पुस्तिका पर कोई उत्तर नहीं लिखेंगे ।  
15 minute time has been allotted to read this question paper. The question paper will be distributed at 10.15 a.m. From 10.15 a.m. to 10.30 a.m., the students will read the question paper only and will not write any answer on the answer-book during this period.



### सामान्य निर्देश:

निम्नलिखित निर्देशों को बहुत सावधानी से पढ़िए और उनका सख्ती से पालन कीजिए :

- (i) इस प्रश्न-पत्र में 35 प्रश्न हैं। सभी प्रश्न अनिवार्य हैं।
- (ii) यह प्रश्न-पत्र पाँच खण्डों में विभाजित है – क, ख, ग, घ एवं ङ।
- (iii) खण्ड क में प्रश्न संख्या 1 से 18 तक बहुविकल्पीय (MCQ) प्रकार के एक-एक अंक के प्रश्न हैं।
- (iv) खण्ड ख में प्रश्न संख्या 19 से 25 तक अति लघु-उत्तरीय (VSA) प्रकार के दो-दो अंकों के प्रश्न हैं।
- (v) खण्ड ग में प्रश्न संख्या 26 से 30 तक लघु-उत्तरीय (SA) प्रकार के तीन-तीन अंकों के प्रश्न हैं।
- (vi) खण्ड घ में प्रश्न संख्या 31 से 33 तक दीर्घ-उत्तरीय (LA) प्रकार के पाँच-पाँच अंकों के प्रश्न हैं।
- (vii) खण्ड ङ में प्रश्न संख्या 34 तथा 35 केस-आधारित चार-चार अंकों के प्रश्न हैं।
- (viii) प्रश्न-पत्र में समग्र विकल्प नहीं दिया गया है। यद्यपि, खण्ड ख के 2 प्रश्नों में, खण्ड ग के 2 प्रश्नों में, खण्ड घ के 3 प्रश्नों में तथा खण्ड ङ के 2 प्रश्नों में आंतरिक विकल्प का प्रावधान दिया गया है।
- (ix) कैल्कुलेटर का उपयोग वर्जित है।

भौतिक नियतांकों के निम्नलिखित मान, आवश्यकता अनुसार उपयोग करें:

$$c = 3 \times 10^8 \text{ m/s}$$

$$h = 6.63 \times 10^{-34} \text{ Js}$$

$$e = 1.6 \times 10^{-19} \text{ C}$$

$$\mu_0 = 4\pi \times 10^{-7} \text{ T m A}^{-1}$$

$$\epsilon_0 = 8.854 \times 10^{-12} \text{ C}^2 \text{ N}^{-1} \text{ m}^{-2}$$

$$\frac{1}{4\pi\epsilon_0} = 9 \times 10^9 \text{ N m}^2 \text{ C}^{-2}$$

$$\text{इलेक्ट्रॉन का द्रव्यमान (m}_e\text{)} = 9.1 \times 10^{-31} \text{ kg}$$

$$\text{न्यूट्रॉन का द्रव्यमान} = 1.675 \times 10^{-27} \text{ kg}$$

$$\text{प्रोटॉन का द्रव्यमान} = 1.673 \times 10^{-27} \text{ kg}$$

$$\text{आवोगाद्रो संख्या} = 6.023 \times 10^{23} \text{ प्रति ग्राम मोल (per gram mole)}$$

$$\text{बोल्ट्ज़मान नियतांक} = 1.38 \times 10^{-23} \text{ JK}^{-1}$$



### **General Instructions :**

Read the following instructions very carefully and strictly follow them :

- (i) This question paper contains **35** questions. **All** questions are **compulsory**.
- (ii) This question paper is divided into **five** Sections – **A, B, C, D** and **E**.
- (iii) In **Section A** – Questions no. **1** to **18** are Multiple Choice (MCQ) type questions, carrying **1** mark each.
- (iv) In **Section B** – Questions no. **19** to **25** are Very Short Answer (VSA) type questions, carrying **2** marks each.
- (v) In **Section C** – Questions no. **26** to **30** are Short Answer (SA) type questions, carrying **3** marks each.
- (vi) In **Section D** – Questions no. **31** to **33** are Long Answer (LA) type questions carrying **5** marks each.
- (vii) In **Section E** – Questions no. **34** and **35** are case-based questions carrying **4** marks each.
- (viii) There is no overall choice. However, an internal choice has been provided in 2 questions in Section B, 2 questions in Section C, 3 questions in Section D and 2 questions in Section E.
- (ix) Use of calculators is **not** allowed.

Use the following values of physical constants, if required :

$$c = 3 \times 10^8 \text{ m/s}$$

$$h = 6.63 \times 10^{-34} \text{ Js}$$

$$e = 1.6 \times 10^{-19} \text{ C}$$

$$\mu_0 = 4\pi \times 10^{-7} \text{ T m A}^{-1}$$

$$\epsilon_0 = 8.854 \times 10^{-12} \text{ C}^2 \text{ N}^{-1} \text{ m}^{-2}$$

$$\frac{1}{4\pi\epsilon_0} = 9 \times 10^9 \text{ N m}^2 \text{ C}^{-2}$$

$$\text{Mass of electron (} m_e \text{)} = 9.1 \times 10^{-31} \text{ kg}$$

$$\text{Mass of neutron} = 1.675 \times 10^{-27} \text{ kg}$$

$$\text{Mass of proton} = 1.673 \times 10^{-27} \text{ kg}$$

$$\text{Avogadro's number} = 6.023 \times 10^{23} \text{ per gram mole}$$

$$\text{Boltzmann constant} = 1.38 \times 10^{-23} \text{ JK}^{-1}$$



## खण्ड क

1. ऊर्ध्वाधर तल में एक-दूसरे के समाक्ष एवं समान्तर व्यवस्थित दो सर्वसम वृत्ताकार कुण्डलियों A और B में समान दिशा में धाराएँ प्रवाहित हो रही हैं। यदि इन कुण्डलियों के बीच की दूरी नियत दर से कम की जाए, तो :
- (a) A में धारा बढ़ेगी और B में धारा घटेगी।  
(b) दोनों कुण्डलियों A और B में धारा घटेगी।  
(c) दोनों कुण्डलियों A और B में धारा बढ़ेगी।  
(d) दोनों कुण्डलियों A और B में धारा समान रहेगी।
2. किसी संधारित्र को आवेशित करने की प्रक्रिया में, संधारित्र की पट्टिकाओं के बीच उत्पन्न विद्युत धारा होती है :
- (a)  $\mu_0 \frac{d\phi_E}{dt}$  (b)  $\frac{1}{\mu_0} \frac{d\phi_E}{dt}$   
(c)  $\epsilon_0 \frac{d\phi_E}{dt}$  (d)  $\frac{1}{\epsilon_0} \frac{d\phi_E}{dt}$
- यहाँ प्रतीकों के सामान्य अर्थ हैं।
3. किसी बिम्ब और फोकस दूरी  $f$  के किसी उत्तल लेंस द्वारा बने उसके वास्तविक प्रतिबिम्ब के बीच की कम-से-कम दूरी है :
- (a)  $f$  (b)  $2f$   
(c)  $3f$  (d)  $4f$
4.  $7 \text{ eV}$  ऊर्जा का कोई फोटॉन  $3.75 \text{ eV}$  कार्य फलन के किसी धातु के पृष्ठ पर आपतन करता है। निरोधी विभव है :
- (a)  $1.75 \text{ eV}$  (b)  $2.45 \text{ eV}$   
(c)  $3.25 \text{ eV}$  (d)  $3.75 \text{ eV}$
5. हाइड्रोजन परमाणु अपनी आरम्भिक निम्नतम अवस्था में किसी फोटॉन को अवशोषित करता है जो उसे  $n = 5$  स्तर तक उत्तेजित कर देता है। इस फोटॉन की तरंगदैर्घ्य है :
- (a)  $975 \text{ nm}$  (b)  $740 \text{ nm}$   
(c)  $523 \text{ nm}$  (d)  $95 \text{ nm}$



## SECTION A

1. Two identical circular coaxial coils A and B, arranged in vertical planes parallel to each other, carry currents in the same direction. If the distance between the coils is decreased at a constant rate, the current :
- (a) increases in A and decreases in B.
  - (b) decreases in both A and B.
  - (c) increases in both A and B.
  - (d) remains same in both A and B.

2. In the process of charging of a capacitor, the current produced between the plates of the capacitor is :

(a)  $\mu_0 \frac{d\phi_E}{dt}$                       (b)  $\frac{1}{\mu_0} \frac{d\phi_E}{dt}$

(c)  $\varepsilon_0 \frac{d\phi_E}{dt}$                       (d)  $\frac{1}{\varepsilon_0} \frac{d\phi_E}{dt}$

where symbols have their usual meanings.

3. The minimum distance between an object and its real image formed by a convex lens of focal length  $f$  is :

(a)  $f$                                       (b)  $2f$

(c)  $3f$                                       (d)  $4f$

4. A photon of energy 7 eV is incident on a metal surface having the work function of 3.75 eV. The stopping potential is :

(a) 1.75 eV                                (b) 2.45 eV

(c) 3.25 eV                                (d) 3.75 eV


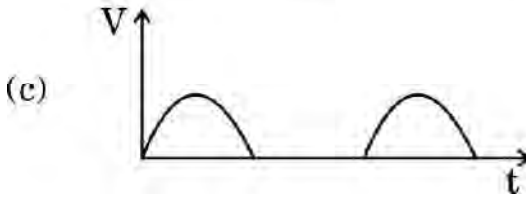
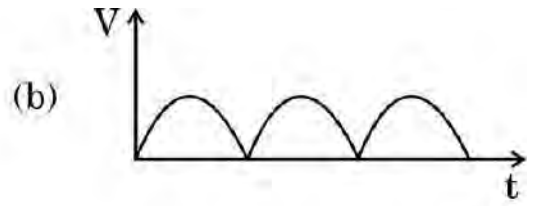
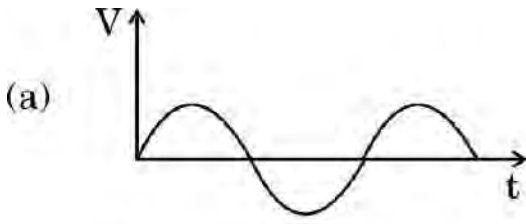
5. Hydrogen atom initially in the ground state, absorbs a photon which excites it to  $n = 5$  level. The wavelength of the photon is :

(a) 975 nm                                (b) 740 nm

(c) 523 nm                                (d) 95 nm




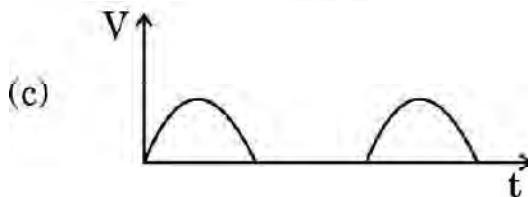
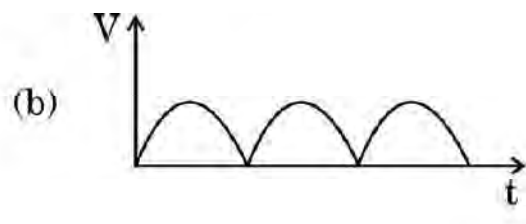
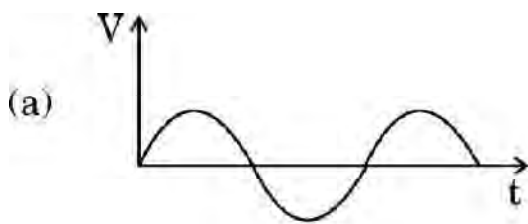
6. किसी परमाणु की परमाणु संख्या क्या निरूपित करती है ?
- (a) नाभिक में न्यूट्रॉनों की संख्या  
(b) परमाणु में प्रोटॉनों और इलेक्ट्रॉनों की कुल संख्या  
(c) नाभिक में प्रोटॉनों की संख्या  
(d) नाभिक में प्रोटॉनों और न्यूट्रॉनों की कुल संख्या
7. वोल्टेज का कोई ac स्रोत श्रेणी में किसी p-n संधि डायोड और लोड प्रतिरोधक से संयोजित है । लोड प्रतिरोध के सिरो पर निर्गत वोल्टता के लिए सही विकल्प होगा :



8. किसी प्रतिचुम्बकीय पदार्थ को किसी छड़ चुम्बक के उत्तर अथवा दक्षिण ध्रुव के निकट लाया गया है । यह पदार्थ :
- (a) दोनों ध्रुवों द्वारा प्रतिकर्षित किया जाएगा ।  
(b) दोनों ध्रुवों द्वारा आकर्षित किया जाएगा ।  
(c) उत्तर ध्रुव द्वारा प्रतिकर्षित तथा दक्षिण ध्रुव द्वारा आकर्षित किया जाएगा ।  
(d) उत्तर ध्रुव द्वारा आकर्षित तथा दक्षिण ध्रुव द्वारा प्रतिकर्षित किया जाएगा ।
9. कोई वृत्ताकार कुण्डली जिसकी त्रिज्या 8.0 cm है तथा जिसमें 40 फेरे हैं, अपने ऊर्ध्वाधर व्यास के परितः  $\frac{25}{\pi}$  रेडियन प्रति सेकण्ड की कोणीय चाल से  $3.0 \times 10^{-2}$  T परिमाण के किसी एकसमान क्षैतिज चुम्बकीय क्षेत्र में घूर्णन कर रही है । इस कुण्डली में प्रेरित अधिकतम वि.वा. बल (emf) है :
- (a) 0.12 V (b) 0.15 V  
(c) 0.19 V (d) 0.22 V



6. The atomic number of an atom represents :
- (a) number of neutrons in nucleus.
  - (b) total number of protons and electrons in the atom.
  - (c) number of protons in nucleus.
  - (d) total number of protons and neutrons in nucleus.
7. An ac source of voltage is connected in series with a p-n junction diode and a load resistor. The correct option for output voltage across load resistance will be :



8. A diamagnetic substance is brought near the north or south pole of a bar magnet. It will be :
- (a) repelled by both the poles.
  - (b) attracted by both the poles.
  - (c) repelled by the north pole and attracted by the south pole.
  - (d) attracted by the north pole and repelled by the south pole.
9. A circular coil of radius 8.0 cm and 40 turns is rotated about its vertical diameter with an angular speed of  $\frac{25}{\pi}$  rad s<sup>-1</sup> in a uniform horizontal magnetic field of magnitude  $3.0 \times 10^{-2}$  T. The maximum emf induced in the coil is :
- (a) 0.12 V
  - (b) 0.15 V
  - (c) 0.19 V
  - (d) 0.22 V



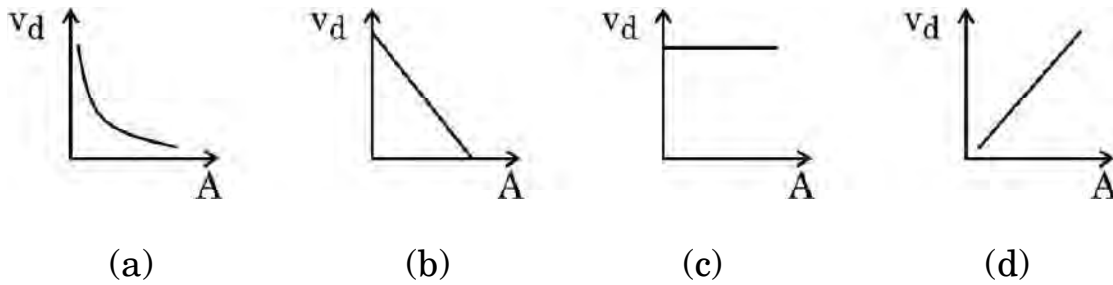
10. जब किसी नैज अर्धचालक को किसी त्रिसंयोजी अशुद्धि की अल्प मात्रा से मादित किया जाता है, तो :

- (a) उसका प्रतिरोध बढ़ जाता है ।
- (b) यह p-प्रकार अर्धचालक बन जाता है ।
- (c) उस अर्धचालक में मुक्त इलेक्ट्रॉन विवरों (होल) से अधिक होते हैं ।
- (d) मादक (अपमिश्रक) परमाणु दाता परमाणु बन जाते हैं ।

11. n-प्रकार के Si के ऊर्जा-बैण्ड आरेख में, चालन बैण्ड की तली  $E_C$  और दाता ऊर्जा स्तर  $E_D$  के बीच अन्तराल की कोटि होती है :

- (a) 10 eV
- (b) 1 eV
- (c) 0.1 eV
- (d) 0.01 eV

12. किसी धातु के तार, जिसकी अनुप्रस्थ-काट का क्षेत्रफल (A) एक सिरे से दूसरे सिरे तक निरन्तर बढ़ रहा है, से कोई स्थायी धारा प्रवाहित हो रही है । 'A' के फलन के रूप में मुक्त इलेक्ट्रॉनों के अपवाह वेग ( $v_d$ ) के परिमाण को दर्शाया जा सकता है :



13. कॉपर के दो बेलनाकार तारों के द्रव्यमानों का अनुपात 1 : 3 तथा उनकी लम्बाइयों का अनुपात 5 : 3 है । इन तारों के प्रतिरोधों का अनुपात होगा :

- (a) 1 : 3
- (b) 2 : 5
- (c) 2 : 3
- (d) 3 : 5





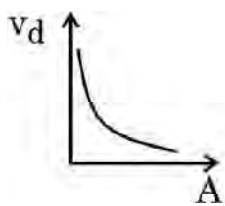
10. When an intrinsic semiconductor is doped with a small amount of trivalent impurity, then :

- (a) its resistance increases.
- (b) it becomes a p-type semiconductor.
- (c) there will be more free electrons than holes in the semiconductor.
- (d) dopant atoms become donor atoms.

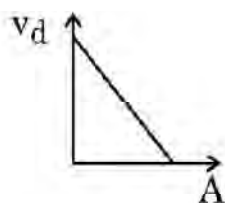
11. In the energy-band diagram of n-type Si, the gap between the bottom of the conduction band  $E_C$  and the donor energy level  $E_D$  is of the order of :

- (a) 10 eV
- (b) 1 eV
- (c) 0.1 eV
- (d) 0.01 eV

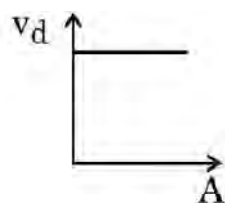
12. A steady current flows through a metallic wire whose area of cross-section ( $A$ ) increases continuously from one end of the wire to the other. The magnitude of drift velocity ( $v_d$ ) of the free electrons as a function of ' $A$ ' can be shown by :



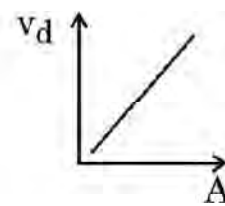
(a)



(b)



(c)



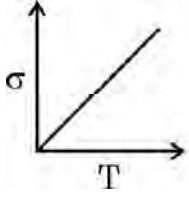
(d)

13. The masses of two cylindrical wires of copper are in the ratio of 1 : 3 and their lengths are in the ratio of 5 : 3. The ratio of their resistances will be :

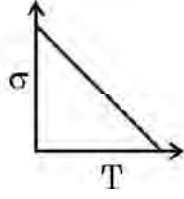
- (a) 1 : 3
- (b) 2 : 5
- (c) 2 : 3
- (d) 3 : 5



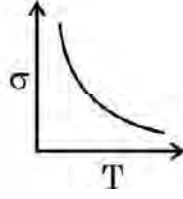
14. निम्नलिखित में से कौन-सा किसी चालक की चालकता के ताप के साथ विचरण को सही निरूपित करता है ?



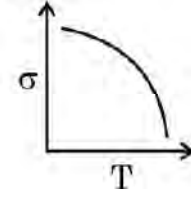
(a)



(b)



(c)



(d)

15. किसी लघु विद्युत द्विध्रुव के अक्ष पर उससे 'r' दूरी पर स्थित कोई बिन्दु आवेश  $\vec{F}$  बल का अनुभव करता है। यदि आवेश की दूरी '2r' है, तो आवेश द्वारा अनुभव किया जाने वाला बल होगा :

(a)  $\frac{\vec{F}}{16}$

(b)  $\frac{\vec{F}}{8}$

(c)  $\frac{\vec{F}}{4}$

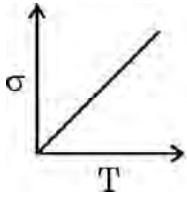
(d)  $\frac{\vec{F}}{2}$

प्रश्न संख्या 16 से 18 अभिकथन (A) और कारण (R) प्रकार के प्रश्न हैं। दो कथन दिए गए हैं — जिनमें एक को अभिकथन (A) तथा दूसरे को कारण (R) द्वारा अंकित किया गया है। सही उत्तर नीचे दिए गए कोडों (a), (b), (c) और (d) में से चुनकर दीजिए।

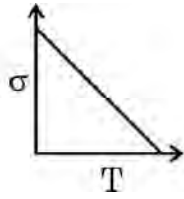
- (a) अभिकथन (A) और कारण (R) दोनों सही हैं और कारण (R), अभिकथन (A) की सही व्याख्या करता है।
- (b) अभिकथन (A) और कारण (R) दोनों सही हैं, परन्तु कारण (R), अभिकथन (A) की सही व्याख्या नहीं करता है।
- (c) अभिकथन (A) सही है, परन्तु कारण (R) ग़लत है।
- (d) अभिकथन (A) ग़लत है तथा कारण (R) भी ग़लत है।
16. अभिकथन (A) : किसी तरंगाग्र के किन्हीं दो बिन्दुओं के बीच कलान्तर शून्य होता है।  
कारण (R) : किसी तरंगाग्र के सभी बिन्दु स्रोत से समान दूरी पर होते हैं और इस प्रकार समान कला में दोलन करते हैं।



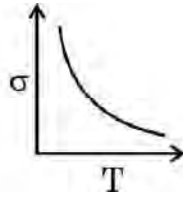
14. Which one of the following is the correct representation of variation of conductivity of a conductor with temperature ?



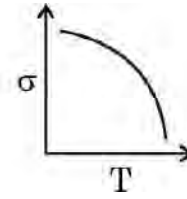
(a)



(b)



(c)



(d)

15. A point charge situated at a distance 'r' from a short electric dipole on its axis, experiences a force  $\vec{F}$ . If the distance of the charge is '2r', the force on the charge will be :

(a)  $\frac{\vec{F}}{16}$

(b)  $\frac{\vec{F}}{8}$

(c)  $\frac{\vec{F}}{4}$

(d)  $\frac{\vec{F}}{2}$

Questions number 16 to 18 are Assertion (A) and Reason (R) type questions. Two statements are given — one labelled Assertion (A) and the other labelled Reason (R). Select the correct answer from the codes (a), (b), (c) and (d) as given below.

- (a) Both Assertion (A) and Reason (R) are true and Reason (R) is the correct explanation of the Assertion (A).
- (b) Both Assertion (A) and Reason (R) are true, but Reason (R) is **not** the correct explanation of the Assertion (A).
- (c) Assertion (A) is true, but Reason (R) is false.
- (d) Assertion (A) is false and Reason (R) is also false.

16. *Assertion (A)* : The phase difference between any two points on a wavefront is zero.

*Reason (R)* : All points on a wavefront are at the same distance from the source and thus oscillate in the same phase.



17. अभिकथन (A) : प्रकाश-विद्युत प्रभाव प्रकाश की कणात्मक प्रकृति को निदर्शित करता है ।

कारण (R) : देहली आवृत्ति से अधिक आवृत्तियों के लिए प्रकाश-विद्युत धारा आपतित विकिरणों की तीव्रता के समानुपाती होती है ।

18. अभिकथन (A) : जब किसी कॉपर की छड़ को किसी बाहरी चुम्बकीय क्षेत्र में रखा जाता है, तो क्षेत्र रेखाएँ उस छड़ के भीतर सांद्रित हो जाती हैं ।

कारण (R) : कॉपर एक अनुचुम्बकीय पदार्थ है ।

### खण्ड ख

19. संक्षेप में व्याख्या कीजिए कि किसी p-n संधि डायोड में विसरण और अपवाह धाराएँ किस प्रकार रोधिका विभव के निर्माण में योगदान करती हैं । 2

20. (क) नैज और अपद्रव्यी अर्धचालकों के बीच विभेदन कीजिए । 2

### अथवा

(ख) अग्रदिशिक बायस और पश्चदिशिक बायस में किसी p-n संधि डायोड के V-I अभिलाक्षणिकों का अध्ययन करने के लिए परिपथ व्यवस्था खींचिए । सिलिकॉन डायोड के V – I अभिलाक्षणिक का आलेख प्रदर्शित कीजिए । 2

21. किसी ऐल्फा कण को वेग  $\vec{v} = (3.0 \times 10^5 \text{ m/s}) \hat{i}$  से उस क्षेत्र में प्रक्षेपित किया गया है जिसमें कोई चुम्बकीय क्षेत्र  $\vec{B} = [(0.4 \text{ T}) \hat{i} + (0.3 \text{ T}) \hat{j}]$  विद्यमान है । इस क्षेत्र में कण का त्वरण परिकलित कीजिए ।  $\hat{i}$ ,  $\hat{j}$  और  $\hat{k}$  क्रमशः x, y और z अक्ष के अनुदिश एकांक सदिश हैं तथा ऐल्फा कण के लिए आवेश और द्रव्यमान अनुपात  $4.8 \times 10^7 \text{ C/kg}$  है । 2

22. कोई समतल विद्युत-चुम्बकीय तरंग x-अक्ष के अनुदिश निर्वात में संचरण कर रही है ।

(क) विद्युत क्षेत्र सदिश और चुम्बकीय क्षेत्र सदिश की दिशाओं का उल्लेख कीजिए ।

(ख) किसी समतल विद्युत-चुम्बकीय तरंग के विद्युत और चुम्बकीय क्षेत्रों के परिमाण क्रमशः  $E_0$  और  $B_0$  हैं । विद्युत क्षेत्र और चुम्बकीय क्षेत्र के ऊर्जा घनत्वों का अनुपात ज्ञात कीजिए । 2



17. *Assertion (A)* : Photoelectric effect demonstrates the particle nature of light.

*Reason (R)* : Photoelectric current is proportional to intensity of incident radiation for frequencies more than the threshold frequency.

18. *Assertion (A)* : When a bar of copper is placed in an external magnetic field, the field lines get concentrated inside the bar.

*Reason (R)* : Copper is a paramagnetic substance.

### SECTION B

19. Briefly explain how the diffusion and drift currents contribute to the formation of potential barrier in a p-n junction diode. 2

20. (a) Differentiate between intrinsic and extrinsic semiconductors. 2

**OR**

(b) Draw the circuit arrangement for studying the  $V - I$  characteristics of a p-n junction diode in forward bias and reverse bias. Show the plot of  $V - I$  characteristic of a silicon diode. 2

21. An alpha particle is projected with velocity  $\vec{v} = (3.0 \times 10^5 \text{ m/s}) \hat{i}$  into a region in which magnetic field  $\vec{B} = [(0.4 \text{ T}) \hat{i} + (0.3 \text{ T}) \hat{j}]$  exists. Calculate the acceleration of the particle in the region.  $\hat{i}$ ,  $\hat{j}$  and  $\hat{k}$  are unit vectors along x, y and z axis respectively and charge to mass ratio for alpha particle is  $4.8 \times 10^7 \text{ C/kg}$ . 2

22. A plane electromagnetic wave propagates in vacuum along x-axis.

(a) Give the direction of electric field and magnetic field vectors.

(b)  $E_0$  and  $B_0$  are the magnitudes of electric and magnetic fields respectively in a plane electromagnetic wave. Find the ratio of energy densities of electric field and magnetic field. 2



23. (क) हाइगेंस सिद्धान्त का उपयोग करके किसी समतल तरंग का किसी दो माध्यमों को पृथक करने वाले समतल पृष्ठ पर अपवर्तन दर्शाने वाला किरण आरेख खींचिए । अपवर्तन के स्नेल के नियम का सत्यापन भी कीजिए । 2

### अथवा

- (ख) अपवर्ती दूरदर्शक की तुलना में परावर्ती दूरदर्शक को प्राथमिकता क्यों दी जाती है ? दो कारण देते हुए अपने उत्तर की पुष्टि कीजिए । 2
24. अपवर्तनांक 1.5 के काँच के 4 D क्षमता के किसी उभयोत्तल लेंस का निर्माण किया गया है । यदि इस लेंस के दोनों फलकों की वक्रता त्रिज्या समान है, तो प्रत्येक फलक की वक्रता त्रिज्या क्या है ? 2
25. हाइड्रोजन परमाणु के स्पेक्ट्रम में लाइमन श्रेणी की दूसरी लाइन का तरंगदैर्घ्य परिकलित कीजिए । (रिडबर्ग नियतांक,  $R = 1.1 \times 10^7 \text{ m}^{-1}$  लीजिए) । 2

### खण्ड ग

26. (क) हाइड्रोजन परमाणु के लिए ऊर्जा स्तर आरेख खींचिए । पराबैंगनी क्षेत्र, दृश्य क्षेत्र और अवरक्त क्षेत्र की श्रेणियों के तदनुरूप संक्रमणों को अंकित कीजिए । 3

### अथवा

- (ख) विभिन्न नाभिकों के लिए द्रव्यमान संख्या के साथ बंधन ऊर्जा प्रति न्यूक्लिऑन के विचरण को दर्शाने के लिए आरेख खींचिए और इसकी दो विशेषताओं का उल्लेख कीजिए । हल्के नाभिकों में प्रायः नाभिकीय संलयन क्यों होता है ? 3
27. किसी धातु के लिए देहली तरंगदैर्घ्य  $3315 \text{ \AA}$  है । धातु के पृष्ठ पर आपतित प्रकाश का तरंगदैर्घ्य कितना होना चाहिए जिससे कि उत्सर्जित प्रकाश-इलेक्ट्रॉनों की अधिकतम गतिज ऊर्जा  $1.25 \text{ eV}$  हो ? 3



23. (a) Using Huygens' principle, draw a ray diagram showing the propagation of a plane wave refracting at a plane surface separating two media. Also verify Snell's law of refraction. 2

**OR**

- (b) Why is a reflecting telescope preferred over a refracting telescope? Justify your answer giving two reasons. 2
24. A double-convex lens of power 4 D is manufactured from a glass of refractive index 1.5. What is the radius of curvature of each face of this lens if both faces have the same radius of curvature? 2
25. Calculate the wavelength of the second line of Lyman series in a spectrum of hydrogen atom. (Take Rydberg constant,  $R = 1.1 \times 10^7 \text{ m}^{-1}$ ) 2

### SECTION C

26. (a) Draw the energy level diagram for hydrogen atom. Mark the transitions corresponding to the series lying in the ultraviolet region, visible region and infrared region. 3

**OR**

- (b) Draw a diagram to show the variation of binding energy per nucleon with mass number for different nuclei and mention its two features. Why do lighter nuclei usually undergo nuclear fusion? 3
27. The threshold wavelength for a metal is 3315 Å. What should be the wavelength of light incident on the metal surface so that the maximum kinetic energy of the emitted photoelectrons be 1.25 eV? 3



28. किसी आदर्श अपचायी ट्रान्सफॉर्मर की प्राथमिक और द्वितीयक कुण्डलियों में फेरों की संख्या क्रमशः 650 और 25 है। जब इस ट्रान्सफॉर्मर की प्राथमिक कुण्डली को 240 V मेंस से संयोजित किया जाता है, तो प्राथमिक कुण्डली में धारा 1.5 A होती है। परिकलित कीजिए : 3

(क) द्वितीयक कुण्डली के सिरों पर वोल्टता

(ख) द्वितीयक कुण्डली में धारा

(ग) निर्गत परिपथ को दी गई औसत शक्ति

29. (क) प्रतिरोध किस प्रकार प्रतिबाधा से भिन्न है ? उपयुक्त फेज़र आरेख की सहायता से किसी श्रेणी LCR परिपथ, जो किसी स्रोत  $v = v_m \sin \omega t$  से संयोजित है, की प्रतिबाधा के लिए व्यंजक प्राप्त कीजिए। 3

#### अथवा

(ख) स्रोत  $v = v_m \sin \omega t$ , जिसमें  $\omega$  को परिवर्तित किया जा सकता है, से संयोजित किसी श्रेणी LCR परिपथ के अनुनाद के लिए शर्त ज्ञात कीजिए। उन कारकों का उल्लेख कीजिए जिन पर किसी श्रेणी LCR परिपथ की अनुनाद आवृत्ति निर्भर करती है। किसी श्रेणी LCR परिपथ में आवृत्ति के साथ विद्युत धारा के विचरण को दर्शाने के लिए ग्राफ खींचिए। 3

30.  $100 \mu\text{F}$  धारिता के किसी संधारित्र को 12 V की किसी बैटरी द्वारा आवेशित किया गया है।

(क) इस संधारित्र में कितनी स्थिर-वैद्युत ऊर्जा संचित होगी ?

(ख) इस संधारित्र को बैटरी से वियोजित कर दिया जाता है और पार्श्व में  $100 \mu\text{F}$  के किसी अन्य अनावेशित संधारित्र से संयोजित कर दिया जाता है। इस निकाय द्वारा संचित स्थिर-वैद्युत ऊर्जा कितनी है ? 3





- 28.** The primary and the secondary coils of an ideal step-down transformer consist of 650 and 25 turns respectively. When the primary coil of this transformer is connected to 240 V mains, the current in the primary coil is 1.5 A. Calculate :
- 3
- (a) the voltage across the secondary coil
  - (b) the current in the secondary coil
  - (c) the average power delivered to the output circuit

- 29.** (a) How does the resistance differ from impedance ? With the help of a suitable phasor diagram, obtain an expression for impedance of a series LCR circuit, connected to a source  $v = v_m \sin \omega t$ .
- 3

**OR**

- (b) Find the condition for resonance in a series LCR circuit connected to a source  $v = v_m \sin \omega t$ , where  $\omega$  can be varied. Give the factors on which the resonant frequency of a series LCR circuit depends. Plot a graph showing the variation of electric current with frequency in a series LCR circuit.
- 3

- 30.** A 100  $\mu\text{F}$  capacitor is charged by a 12 V battery.
- (a) How much electrostatic energy is stored by the capacitor ?
  - (b) The capacitor is disconnected from the battery and connected in parallel to another uncharged 100  $\mu\text{F}$  capacitor. What is the electrostatic energy stored by the system ?
- 3



### खण्ड घ

31. (क) (i) किसी धारावाही अवयव के कारण चुम्बकीय क्षेत्र के लिए बायो-सावर्ट नियम लिखिए । इस नियम का उपयोग करके त्रिज्या 'a' के किसी वृत्ताकार पाश, जिससे धारा 'I' प्रवाहित हो रही है, के केन्द्र पर चुम्बकीय क्षेत्र के लिए कोई व्यंजक प्राप्त कीजिए । किसी धारा पाश के लिए चुम्बकीय क्षेत्र की दिशा को इंगित करते हुए चुम्बकीय क्षेत्र रेखाएँ खींचिए ।
- (ii) कोई इलेक्ट्रॉन किसी नाभिक की वृत्ताकार कक्षा में  $10^7 \text{ m s}^{-1}$  की चाल से परिक्रमा कर रहा है । यदि कक्षा की त्रिज्या  $10^{-10} \text{ m}$  है, तो कक्षा में परिक्रमा करने वाले इलेक्ट्रॉन द्वारा उत्पन्न धारा ज्ञात कीजिए ।

5

### अथवा

- (ख) (i) चुम्बकीय क्षेत्र में स्थित किसी धारावाही सीधे चालक पर कार्यरत बल के लिए व्यंजक व्युत्पन्न कीजिए । उस नियम का उल्लेख कीजिए जो इस बल की दिशा को निर्धारित करने के लिए उपयोग किया जाता है । वह शर्त दीजिए जिसके अंतर्गत यह बल (1) अधिकतम, और (2) निम्नतम होता है ।
- (ii) दो लम्बे सीधे समान्तर तार A और B वायु में एक-दूसरे से 2.5 cm दूरी पर हैं । इन तारों से विपरीत दिशाओं में क्रमशः 5.0 A और 2.5 A धाराएँ प्रवाहित हो रही हैं । तार B की 10 cm लम्बाई पर तार A द्वारा आरोपित बल का परिमाण परिकलित कीजिए ।

5

32. (क) (i) (1) व्यतिकरण पैटर्न और विवर्तन पैटर्न के बीच दो अन्तर लिखिए ।
- (2) यंग के द्विझिरी प्रयोग में किन्हीं दो कारकों के नाम लिखिए जिन पर फ्रिंज चौड़ाई निर्भर करती है ।



## SECTION D

31. (a) (i) State Biot-Savart's law for the magnetic field due to a current carrying element. Use this law to obtain an expression for the magnetic field at the centre of a circular loop of radius 'a' and carrying a current 'I'. Draw the magnetic field lines for a current loop indicating the direction of magnetic field.
- (ii) An electron is revolving around the nucleus in a circular orbit with a speed of  $10^7 \text{ m s}^{-1}$ . If the radius of the orbit is  $10^{-10} \text{ m}$ , find the current constituted by the revolving electron in the orbit.

5

**OR**

- (b) (i) Derive an expression for the force acting on a current carrying straight conductor kept in a magnetic field. State the rule which is used to find the direction of this force. Give the condition under which this force is (1) maximum, and (2) minimum.
- (ii) Two long parallel straight wires A and B are 2.5 cm apart in air. They carry 5.0 A and 2.5 A currents respectively in opposite directions. Calculate the magnitude of the force exerted by wire A on a 10 cm length of wire B.

5

32. (a) (i) (1) Write two points of difference between an interference pattern and a diffraction pattern.
- (2) Name any two factors on which the fringe width in a Young's double-slit experiment depends.



(ii) यंग के किसी द्विझिरी प्रयोग में दो झिरियों के बीच पृथकन झिरियों से गुज़रने वाले प्रकाश की तरंगदैर्घ्य का 100 गुना है ।

(1) केन्द्रीय उच्चिष्ठ और निकटवर्ती उच्चिष्ठ के बीच कोणीय पृथकन का रेडियनों में परिकलन कीजिए ।

(2) झिरियों से 50 cm दूरी पर स्थित पर्दे पर इन दोनों उच्चिष्ठों के मध्य दूरी परिकलित कीजिए ।

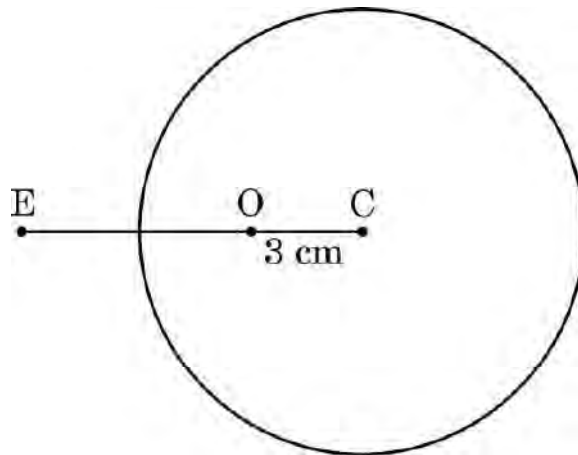
5

### अथवा

(ख) (i) वक्रता त्रिज्या R का कोई गोलीय पृष्ठ  $n_1$  और  $n_2$  अपवर्तनांकों के दो माध्यमों को एक-दूसरे से पृथक करता है ।  $n_1$  अपवर्तनांक के माध्यम में कोई बिन्दुकित बिम्ब इस पृष्ठ से दूरी u पर रखा है और पृष्ठ द्वारा इसका प्रतिबिम्ब  $n_2$  अपवर्तनांक के माध्यम में पृष्ठ से v दूरी पर बन रहा है । u और v के बीच संबंध व्युत्पन्न कीजिए ।

(ii) आरेख में दर्शाए अनुसार 6.0 cm त्रिज्या के किसी ठोस काँच के गोले में गोले के केन्द्र C से 3.0 cm दूरी पर कोई छोटा वायु का बुलबुला फंसा हुआ है । गोले के पदार्थ का अपवर्तनांक 1.5 है । वायु में किसी बाहरी बिन्दु E से गोले की सतह में से देखने पर इस बुलबुले की आभासी स्थिति ज्ञात कीजिए ।

5





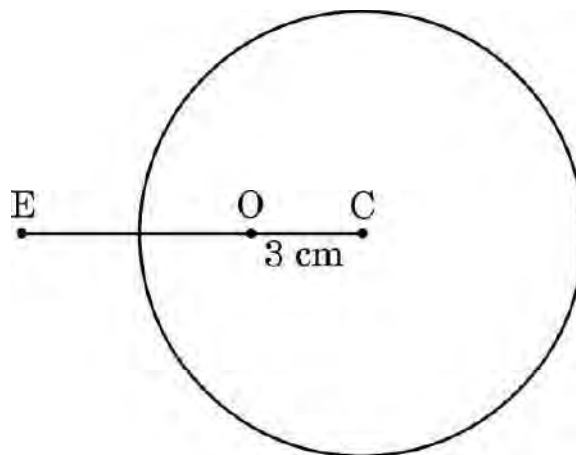
- (ii) In Young's double-slit experiment, the two slits are separated by a distance equal to 100 times the wavelength of light that passes through the slits. Calculate :
- (1) the angular separation in radians between the central maximum and the adjacent maximum.
  - (2) the distance between these two maxima on a screen 50 cm from the slits.

5

**OR**

- (b) (i) A spherical surface of radius of curvature  $R$  separates two media of refractive indices  $n_1$  and  $n_2$ . A point object is placed in front of the surface at distance  $u$  in medium of refractive index  $n_1$  and its image is formed by the surface at distance  $v$ , in the medium of refractive index  $n_2$ . Derive a relation between  $u$  and  $v$ .
- (ii) A solid glass sphere of radius 6.0 cm has a small air bubble trapped at a distance 3.0 cm from its centre  $C$  as shown in the figure. The refractive index of the material of the sphere is 1.5. Find the apparent position of this bubble when seen through the surface of the sphere from an outside point  $E$  in air.

5





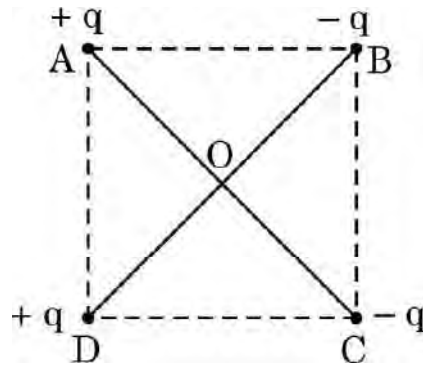
33. (क) (i) स्थिर-वैद्युतिकी में कूलॉम नियम का उल्लेख कीजिए और इसे दो आवेशों के लिए सदिश रूप में लिखिए ।
- (ii) 'गाउस नियम कूलॉम नियम में सम्मिलित दूरी के वर्ग के व्युत्क्रमानुपात पर आधारित है ।' व्याख्या कीजिए ।
- (iii) दो आवेश A (आवेश  $q$ ) तथा B (आवेश  $2q$ ) क्रमशः बिन्दुओं  $(0, 0)$  और  $(a, a)$  पर स्थित हैं । मान लीजिए  $x$ -अक्ष और  $y$ -अक्ष के अनुदिश एकांक सदिश क्रमशः  $\hat{i}$  और  $\hat{j}$  हैं ।  $\hat{i}$  और  $\hat{j}$  के पदों में A का B पर आरोपित बल ज्ञात कीजिए ।

5

अथवा

- (ख) (i)  $2a$  दूरी के पृथकन वाले दो आवेशों  $q$  और  $-q$  के बने किसी विद्युत द्विध्रुव के निरक्षीय समतल के किसी बिन्दु पर विद्युत क्षेत्र के लिए व्यंजक व्युत्पन्न कीजिए ।
- (ii) किसी विद्युत द्विध्रुव के निरक्षीय समतल पर स्थित किसी दूरस्थ बिन्दु की दूरी आधी कर दी गई है । इस द्विध्रुव के लिए विद्युत क्षेत्र किस प्रकार प्रभावित होगा ?
- (iii) आरेख में दर्शाए अनुसार किसी  $\sqrt{2}$  m भुजा के वर्ग ABCD के विकर्णों के अनुदिश दो सर्वसम विद्युत द्विध्रुव रखे हैं । इस वर्ग के केन्द्र (O) पर नेट विद्युत क्षेत्र का परिमाण और दिशा प्राप्त कीजिए ।

5





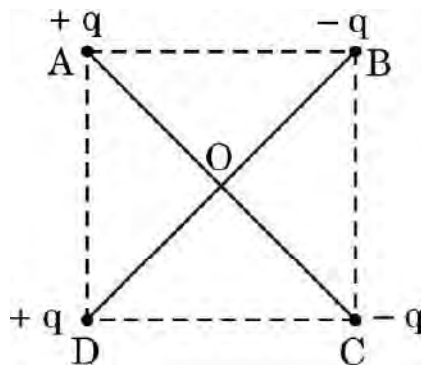
33. (a) (i) State Coulomb's law in electrostatics and write it in vector form, for two charges.
- (ii) 'Gauss's law is based on the inverse-square dependence on distance contained in the Coulomb's law.' Explain.
- (iii) Two charges A (charge  $q$ ) and B (charge  $2q$ ) are located at points  $(0, 0)$  and  $(a, a)$  respectively. Let  $\hat{i}$  and  $\hat{j}$  be the unit vectors along x-axis and y-axis respectively. Find the force exerted by A on B, in terms of  $\hat{i}$  and  $\hat{j}$ .

5

**OR**

- (b) (i) Derive an expression for the electric field at a point on the equatorial plane of an electric dipole consisting of charges  $q$  and  $-q$  separated by a distance  $2a$ .
- (ii) The distance of a far off point on the equatorial plane of an electric dipole is halved. How will the electric field be affected for the dipole ?
- (iii) Two identical electric dipoles are placed along the diagonals of a square ABCD of side  $\sqrt{2}$  m as shown in the figure. Obtain the magnitude and direction of the net electric field at the centre (O) of the square.

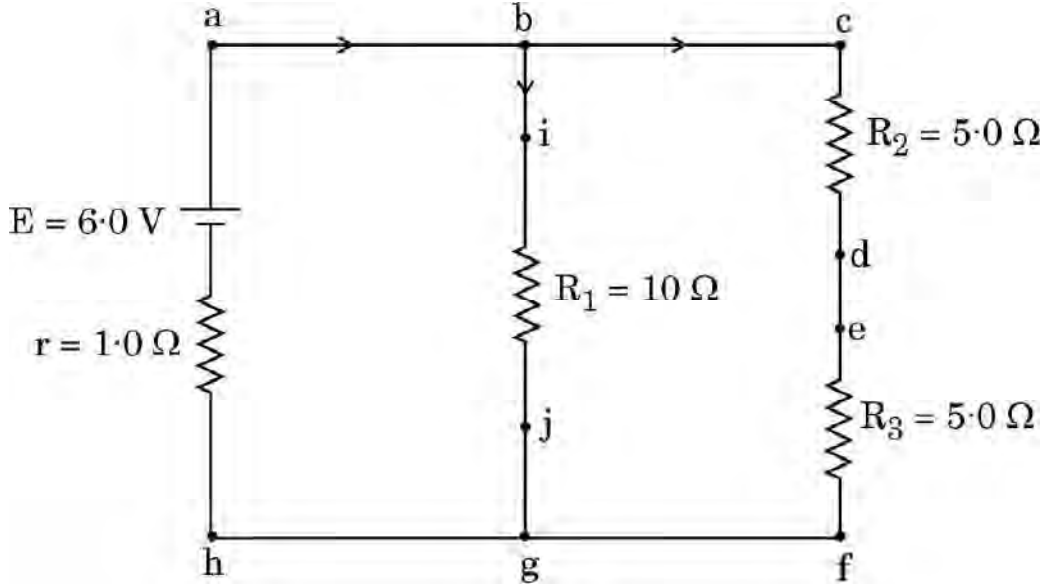
5





### खण्ड ड

34. निम्नलिखित चित्र एक विद्युत परिपथ आरेख को दर्शाता है। हम किरखोफ नियमों का उपयोग करके विभिन्न प्रतिरोधकों में धारा और उनके सिरों पर विभवान्तर ज्ञात कर सकते हैं।



उपर्युक्त के आधार पर निम्नलिखित प्रश्नों के उत्तर दीजिए :

- (क) इस परिपथ में कौन-से बिन्दु समान विभव पर हैं ? 1
- (ख) भुजा bg में धारा कितनी है ? 1
- (ग) प्रतिरोध  $R_3$  के सिरों पर कितना विभवान्तर है ? 2

अथवा

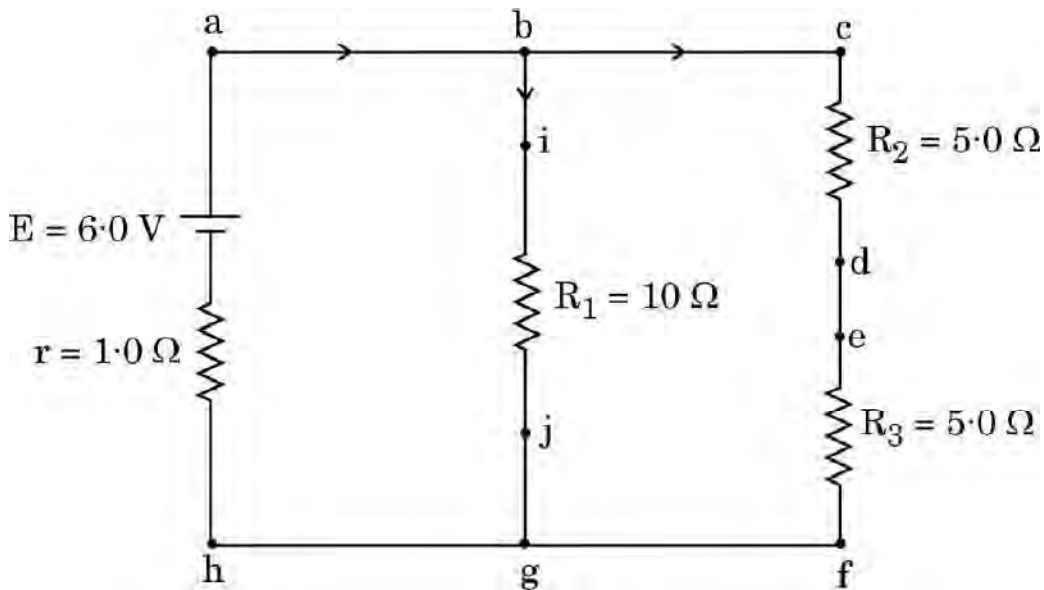
- (ग) प्रतिरोध  $R_2$  में शक्ति क्षय कितना है ? 2





## SECTION E

34. The following figure shows a circuit diagram. We can find the currents through and potential differences across different resistors using Kirchhoff's rules.



Answer the following questions based on the above :

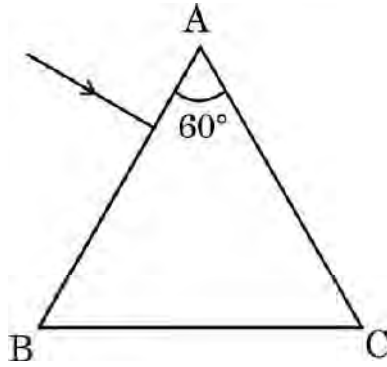
- (a) Which points are at the same potential in the circuit? 1
- (b) What is the current through arm  $bg$ ? 1
- (c) Find the potential difference across resistance  $R_3$ . 2

**OR**

- (c) What is the power dissipated in resistance  $R_2$ ? 2



35. स्ट्रॉन्शियम टाइटेनेट एक दुर्लभ ऑक्साइड है जो साइबेरिया में पाया जाने वाला प्राकृतिक खनिज है। इसका उपयोग हीरे के विकल्प के रूप में किया जाता है क्योंकि इसका अपवर्तनांक और क्रांतिक कोण क्रमशः 2.41 और  $24.5^\circ$  हैं जो कि हीरे के अपवर्तनांक और क्रांतिक कोण के लगभग बराबर हैं। इसमें हीरे के सभी गुण होते हैं। यहाँ तक कि कोई प्रवीण जौहरी भी हीरे और स्ट्रॉन्शियम टाइटेनेट के बीच विभेदन नहीं कर पाता है। स्ट्रॉन्शियम टाइटेनेट से बने किसी समबाहु त्रिभुजाकर प्रिज़्म ABC के एक फलक पर कोई प्रकाश किरण अभिलम्बवत आपतन कर रही है।



उपर्युक्त के आधार पर निम्नलिखित प्रश्नों के उत्तर दीजिए :

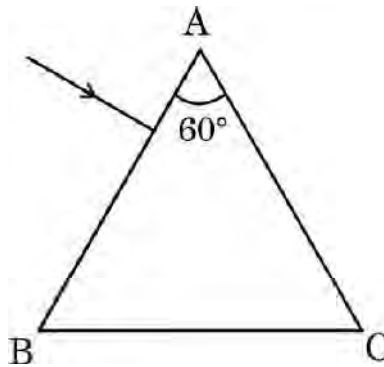
- (क) इस प्रकाश किरण का इस प्रिज़्म से गुजरते हुए पथ आरेखित कीजिए। 1
- (ख) प्रिज़्म में प्रकाश का वेग ज्ञात कीजिए। 1
- (ग) पूर्ण आन्तरिक परावर्तन के दो अनुप्रयोगों की संक्षेप में व्याख्या कीजिए। 2

**अथवा**

- (ग) प्रकाश के पूर्ण आन्तरिक परावर्तन की परिभाषा लिखिए। इसके होने के लिए दो शर्तें बताइए। 2



- 35.** Strontium titanate is a rare oxide — a natural mineral found in Siberia. It is used as a substitute for diamond because its refractive index and critical angle are  $2.41$  and  $24.5^\circ$ , respectively, which are approximately equal to the refractive index and critical angle of diamond. It has all the properties of diamond. Even an expert jeweller is unable to differentiate between diamond and strontium titanate. A ray of light is incident normally on one face of an equilateral triangular prism ABC made of strontium titanate.



Answer the following questions based on the above :

- (a) Trace the path of the ray showing its passage through the prism. 1
- (b) Find the velocity of light through the prism. 1
- (c) Briefly explain two applications of total internal reflection. 2

**OR**

- (c) Define total internal reflection of light. Give two conditions for it. 2