

सामान्य निर्देश:

1. इस प्रश्न पत्र में 30 प्रश्न हैं। सभी प्रश्न अनिवार्य हैं।
2. यह प्रश्न पत्र पांच खंडों में विभाजित है। खंड -ए, बी, सी, डी और ई।
3. खंड ए - प्रश्न संख्या 1 से 17 तक बहुविकल्पीय प्रकार के हैं, प्रत्येक प्रश्न 1 अंक का है।
4. खंड बी- प्रश्न संख्या 18 और 19 स्रोत आधारित हैं, प्रत्येक 3 अंक का है।
5. खंड सी- प्रश्न संख्या 20 से 23 लघु उत्तरीय हैं, प्रत्येक 3 अंक का है। इनका उत्तर 80 से 100 शब्दों में लिखना होगा।
6. खंड डी- प्रश्न संख्या 24 से 28 दीर्घ उत्तरीय हैं, प्रत्येक 5 अंक का है। इनका उत्तर 120 से 150 शब्दों में लिखना होगा।
7. खंड ई-प्रश्न संख्या 29 और 30 मानचित्र आधारित हैं | इन प्रश्नों को हल करने के बाद इन्हें अपनी उत्तरपुस्तिका से बांध दें |

General Instructions:

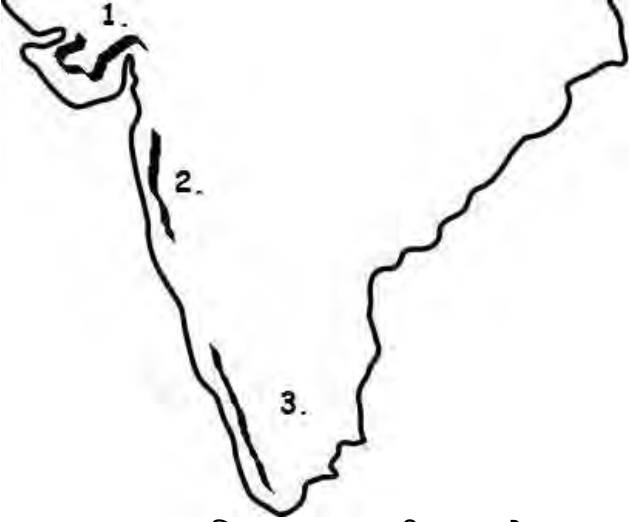
1. This question paper contains 30 questions. All questions are compulsory.
2. This question paper is divided into five sections. Sections-A, B, C, D and E.
3. Section A - Question number 1 to 17 are Multiple Choice type questions carrying 1 mark each.
4. Section B- Question number 18 and 19 are Source based questions carrying 3 marks each.
5. Section C- Question number 20 to 23 are Short Answer type questions carrying 3 marks each. Answer to these questions shall be written in 80 to 100 words.
6. Section D Question number 24 to 28 are Long Answer type questions carrying 5 marks each. Answer to these questions shall be written in 120 to 150 words.
7. Section E Question number 29 and 30 are Map based questions. Attach the maps with your answer book after solving it.

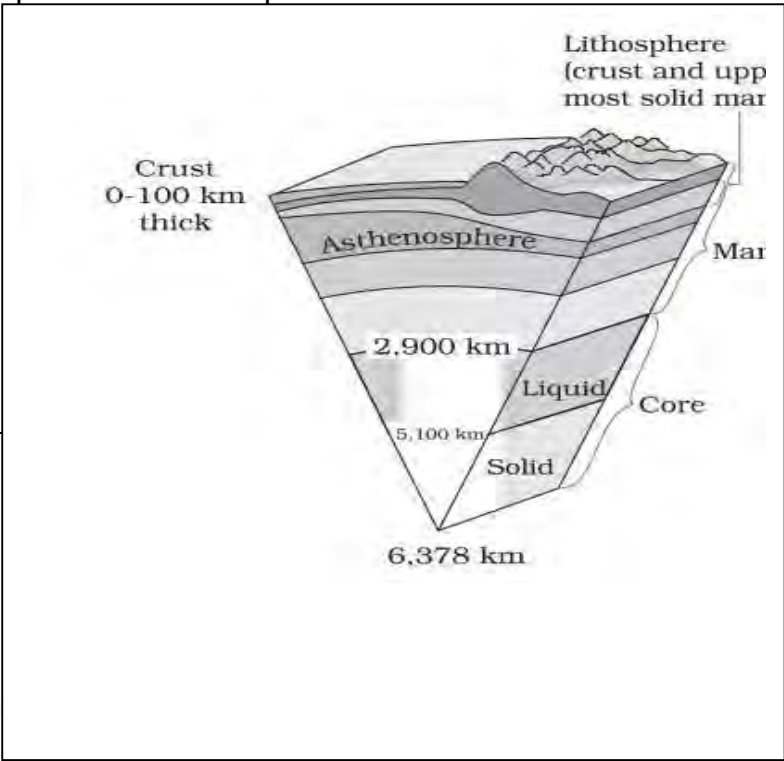
खंड- अ /SECTION- A		
Q	Questions	M
1	<p>निम्नलिखित में से कौन-सा अक्षांशीय विस्तार भारत के सीमा विस्तारके लिए प्रासंगिक है </p> <p>(a) 8°41'N - 35°7'N (b) 8°4'N - 37°6'N</p> <p>(c) 8°4'N - 35°6'N (d) 10°6'N - 37°6'N</p> <p>Which one of the following latitudinal extent is relevant for the extent of India's area?</p>	1

	(a) 8°41'N - 35°7'N (c) 8°4'N - 35°6'N	(b) 8°4'N - 37°6'N (d) 10°6'N - 37°6'N																																				
2	<p>निम्नलिखित में से कौन सी गैस वायुमंडल का प्रमुख भाग बनाती है?</p> <p>(ए) ऑक्सीजन (सी) आर्गन</p> <p>(बी) नाइट्रोजन (डी) कार्बन डाइऑक्साइड</p> <p>Which one of the following gases constitutes the major portion of the atmosphere?</p> <p>(a) Oxygen (c) Argon</p> <p>(b) Nitrogen (d) Carbon dioxide</p>		1																																			
3	<p>बाढ़ व डेल्टाई मैदानों पर लूप जैसा चैनल जिसे विसर्प कहा जाता है, किस भू-आकृतिक कारक द्वारा बनता है?</p> <p>a) लहरें c) प्रवाहित जल</p> <p>b) भूमिगत जल d) हिमानी</p> <p>In Flood plain and Delta region, Loop like Channel which is termed as MEANDER is formed by which geomorphic agents</p> <p>a) Waves c) Running water</p> <p>b) Underground water d) Glaciers</p>		1																																			
4	<p>निम्नलिखित पर विचार करें और दिए गए कोड की सहायता से सही उत्तर चुनें-</p> <p>Consider the following and choose the correct answer with the help of given codes-</p> <table border="1"> <thead> <tr> <th>Theory/सिद्धांत</th> <th>Propounded by/सिद्धांत के प्रवर्तक</th> </tr> </thead> <tbody> <tr> <td>i. संवहन धारा सिद्धांत Conventional Current Theory</td> <td>1. हैरी हेस Harry Hess</td> </tr> <tr> <td>ii महाद्वीपीय प्रवाह सिद्धांत Continental drift Theory</td> <td>2. आर्थर होम्स Arthur Holmes</td> </tr> <tr> <td>iii. प्लेट विवर्तनिकी Plate tectonics</td> <td>3 .अल्फ्रेड वैगनर Alfred Wagner</td> </tr> <tr> <td>iv. समुद्र तल का प्रसार Sea floor Spreading</td> <td>4. मैकेन्ज़ी, मॉर्गन, पार्कर Mackenzie ,Morgan, Parker</td> </tr> </tbody> </table> <p>Options:</p> <table> <tr> <td></td> <td>I</td> <td>II</td> <td>III</td> <td>IV</td> </tr> <tr> <td>A.</td> <td>1</td> <td>2</td> <td>3</td> <td>4</td> </tr> <tr> <td>B.</td> <td>2</td> <td>3</td> <td>4</td> <td>1</td> </tr> <tr> <td>C.</td> <td>4</td> <td>3</td> <td>2</td> <td>1</td> </tr> <tr> <td>D.</td> <td>2</td> <td>1</td> <td>3</td> <td>4</td> </tr> </table>		Theory/सिद्धांत	Propounded by/सिद्धांत के प्रवर्तक	i. संवहन धारा सिद्धांत Conventional Current Theory	1. हैरी हेस Harry Hess	ii महाद्वीपीय प्रवाह सिद्धांत Continental drift Theory	2. आर्थर होम्स Arthur Holmes	iii. प्लेट विवर्तनिकी Plate tectonics	3 .अल्फ्रेड वैगनर Alfred Wagner	iv. समुद्र तल का प्रसार Sea floor Spreading	4. मैकेन्ज़ी, मॉर्गन, पार्कर Mackenzie ,Morgan, Parker		I	II	III	IV	A.	1	2	3	4	B.	2	3	4	1	C.	4	3	2	1	D.	2	1	3	4	1
Theory/सिद्धांत	Propounded by/सिद्धांत के प्रवर्तक																																					
i. संवहन धारा सिद्धांत Conventional Current Theory	1. हैरी हेस Harry Hess																																					
ii महाद्वीपीय प्रवाह सिद्धांत Continental drift Theory	2. आर्थर होम्स Arthur Holmes																																					
iii. प्लेट विवर्तनिकी Plate tectonics	3 .अल्फ्रेड वैगनर Alfred Wagner																																					
iv. समुद्र तल का प्रसार Sea floor Spreading	4. मैकेन्ज़ी, मॉर्गन, पार्कर Mackenzie ,Morgan, Parker																																					
	I	II	III	IV																																		
A.	1	2	3	4																																		
B.	2	3	4	1																																		
C.	4	3	2	1																																		
D.	2	1	3	4																																		

5	<p>यहां दो कथनों को अभिकथन (ए) और कारण (आर) के रूप में चिह्नित किया गया है। नीचे दिए गए कोड के अनुसार अपना उत्तर चिह्नित करें।</p> <p>अभिकथन: भूगोलवेत्ता तथ्यों की व्याख्या केवल कारण-और-प्रभाव संबंधों के ढांचे में करता है।</p> <p>कारण: कारण-और-प्रभाव संबंध न केवल तथ्यों की व्याख्या करते हैं बल्कि तथ्यों की भविष्यवाणी करने और उन्हें भविष्य में देखने की क्षमता भी रखते हैं।</p> <p>विकल्प:</p> <p>A. (ए) और (आर) दोनों सत्य हैं लेकिन (आर) (ए) का सही स्पष्टीकरण नहीं है</p> <p>B. (ए) और (आर) दोनों सत्य हैं और (आर) (ए) का सही स्पष्टीकरण है</p> <p>C. (ए) और (आर) दोनों गलत हैं।</p> <p>D. (ए) सही है लेकिन (आर) गलत है।</p> <p>There are two statements marked as Assertion (A) and Reason(R).Mark your answer as per the codes provided below.</p> <p>Assertion: The geographer interprets the facts only in the framework of cause-and-effect relationships.</p> <p>Reason: Cause-and-effect relationships not only explain the facts but also have the ability to predict the facts and see them in the future.</p> <p>Options:</p> <p>A. Both (A) and (R) are true but (R) is not the correct explanation of(A)</p> <p>B. Both (A) and (R) are true and (R) is the correct explanation of (A)</p> <p>C. Both (A) and (R) are incorrect.</p> <p>D. (A) is correct but (R) is incorrect.</p>	1
6	<p>Which one of the following is not related to the formation or modification of the present atmosphere?</p> <p>(a) Solar winds (b) Differentiation</p> <p>(c) Degassing (d) Photosynthesis</p> <p>निम्नलिखित में से कौन सा वर्तमान वातावरण के निर्माण या संशोधन से संबंधित नहीं है?</p> <p>(ए) सौर हवाएं (बी) विभेदन</p> <p>(सी) डीगैसिंग (डी) प्रकाश संश्लेषण</p>	1
7	<p>निम्नलिखित में से कौन सा देश भारत के साथ सबसे लंबा स्थल-सीमा साझा करता है?</p> <p>(a)बांग्लादेश (B)पाकिस्तान</p> <p>(C)चीन (D)म्यांमार</p> <p>Which one of the following countries shares the longest land frontier with India?</p> <p>(a)Bangladesh (B)Pakistan</p>	1


	(C)China	(D)Myanmar	
8	<p>निम्नलिखित में से किस पहाड़ी श्रृंखला पर 'डोडाबेटा' चोटी स्थित है?</p> <p>(ए) नीलगिरि पहाड़ियाँ (बी) इलायची पहाड़ियाँ (सी) अनाइमलाई पहाड़ियाँ (डी) नल्लामाला पहाड़ियाँ</p> <p>On which of the following hill range is the 'Dodabeta' peak situated?</p> <p>(a) Nilgiri hills (b) Cardamom hills (c) Anaimalai hills (d) Nallamala hills</p>		1
9	<p>स्थलरूप विकास की किस अवस्था में अधोमुखी कटाव का प्रभावी होता है?</p> <p>a) तरुणा अवस्था b) प्रथम प्रौढावस्था c) अंतिम प्रौढावस्था d) वृद्धावस्था</p> <p>In which of the following stages of landforms development downward cutting is dominated?</p> <p>a) Youth Stage b) Early Mature Stage c) Late Mature Stage d) Old Stage</p>		1
10	<p>यहां दो कथनों को अभिकथन (ए) और कारण (आर) के रूप में चिह्नित किया गया है। नीचे दिए गए कोड के अनुसार अपना उत्तर चिह्नित करें।</p> <p>अभिकथन: पृथ्वी की संरचना परतदार है कारण: वायुमंडल के बाहरी छोर से पृथ्वी के क्रोड तक जो पदार्थ हैं वह एक समान नहीं है</p> <p>विकल्प:</p> <p>A. (ए) और (आर) दोनों सत्य हैं लेकिन (आर) (ए) का सही स्पष्टीकरण नहीं है B. (ए) और (आर) दोनों सत्य हैं और (आर) (ए) का सही स्पष्टीकरण है C. (ए) और (आर) दोनों गलत हैं। D. (ए) सही है लेकिन (आर) गलत है।</p> <p>There are two statements marked as Assertion (A) and Reason(R).Mark your answer as per the codes provided below. Assertion: The structure of the Earth is layered. Reason: The substance from the outer edge of the atmosphere to the Earth's core is not uniform. Options: A. Both (A) and (R) are true but (R) is not the correct explanation of(A) B. Both (A) and (R) are true and (R) is the correct explanation of (A) C. Both (A) and (R) are incorrect. D. (A) is correct but (R) is incorrect.</p>		1
11	<p>मनुष्य के लिए महत्वपूर्ण वायुमंडलीय परत है:</p> <p>(ए) समतापमंडल (बी) मध्यमंडल</p>		1

	(सी) क्षोभमंडल Atmospheric layer important for human beings is: (a) Stratosphere (c) Troposphere	(डी) आयनमंडल (b) Mesosphere (d) Ionosphere	
12	निम्नलिखित भौतिक विभाग/उप विभाग को उत्तर से दक्षिण दिशा में व्यवस्थित करें: Arrange the following physiographical division/sub division in north to south direction : 		1
	a). 1. काठियावाड प्रायद्वीप 2. कोंकण 3. मालाबार b). 1. मालाबार 2. काठियावाड प्रायद्वीप 3. कोंकण c). 1. कोंकण 2. मालाबार 3. काठियावाड प्रायद्वीप d). 1. कोंकण 2. काठियावाड प्रायद्वीप 3. मालाबार		
	a). 1. Kathiawar Peninsula 2. Konkar 3. Malabar b). 1. Malabar 2. Kathiawar Peninsula 3. Konkar c). 1. Konkar 2. Malabar 3. Kathiawar Peninsula d). 1. Konakar 2. Kathiawar Peninsula 3. Malabar		
13	निम्नलिखित में से कौन सी नदी भ्रंश घाटी में बहती है? (ए) सोन (बी) नर्मदा (सी) यमुना (डी) लूनी Which one of the following rivers flows in a rift valley? (a) The Son (b) The Narmada (c) The Yamuna (d) The Luni		1

14	<p>निम्नलिखित में से कौन सा अलकनंदा और भागीरथी का संगम स्थल है?</p> <p>(ए) विष्णु प्रयाग (बी) रुद्र प्रयाग (सी) करण प्रयाग (डी) देव प्रयाग</p> <p>Which one of the following is the place of confluence of the Alaknanda and the Bhagirathi?</p> <p>(a) Vishnu Prayag (b) Rudra Prayag (c) Karan Prayag (d) Deva Prayag</p>	1
	<p>निम्न आरेख को पढ़कर निम्नलिखित प्रश्नों(प्र.सं. 15, 16 एवं 17) के उत्तर दें Read the following graph and answer question no 15 to 17.</p>	
	 <p>The diagram shows a cross-section of the Earth's interior. The layers from the surface to the center are: Lithosphere (crust and uppermost solid part), Crust (0-100 km thick), Asthenosphere, Liquid, and Solid. The total radius is 6,378 km. The boundary between the liquid and solid core is at 5,100 km, and the boundary between the asthenosphere and liquid core is at 2,900 km.</p> <p>क्रस्ट 0 से 100 किमी मोटाई</p> <p>दुर्बलता मंडल</p> <p>द्वय</p> <p>ठोस</p> <p>6,378 km</p> <p>2,900 km</p> <p>5,100 km</p> <p>Liquid</p> <p>Solid</p> <p>मेटल</p> <p>क्रोड</p>	
15	<p>पृथ्वी की त्रिज्या है-</p> <p>ए) 2900 किमी बी) 6387 किमी सी) 6378 किमी डी) 5100</p>	1

	<p>किमी</p> <p>The radius of earth is-</p> <p>a) 2900 Km b) 6387 Km c) 6378 Km d) 5100 Km</p>	
16	<p>स्थलमंडल किससे मिलकर बना है -</p> <p>a) ऊपरी मेंटल और कोर/क्रोड़ b) निचला मेंटल और कोर/क्रोड़</p> <p>c) कोर/क्रोड़ और क्रस्ट d) ऊपरी मेंटल और क्रस्ट</p> <p>Lithosphere is consists of -</p> <p>a) Upper most mantle and Core b) Lower mantle and Core</p> <p>c) Core and Crust d) Upper most mantle and Crust</p>	1
17	<p>एस्थेनोस्फीयर स्थित है-</p> <p>a) उपरी मेंटल b) उपरी क्रस्ट c) निचला मेंटल d) इनमें से कोई नहीं</p> <p>Asthenosphere lies in-</p> <p>a) Upper Mantle b) Upper Crust c) Lower Mantle d) None of these</p>	1
<p>प्रश्न संख्या 15,16 और 17 के स्थान पर निम्नलिखित प्रश्न केवल दृष्टिबाधित उम्मीदवारों के लिए हैं।</p> <p>The following questions are for Visually Impaired Candidates only in lieu of Q. No. 15,16 &17.</p> <p>15. पृथ्वी की त्रिज्या है-</p> <p>ए) 2900 किमी बी) 6387 किमी सी) 6378 किमी डी) 5100 किमी</p> <p>What is radius of earth</p> <p>a) 2900 Km b) 6387 Km c) 6378 Km d) 5100 Km</p> <p>16. स्थलमंडल किससे मिलकर बनता है -</p> <p>a) ऊपरी ठोस मेंटल और कोर b) निचला मेंटल और कोर</p> <p>c) कोर और क्रस्ट d) ऊपरी मेंटल और क्रस्ट</p> <p>Lithosphere is consists of -</p> <p>a) Upper most mantle and Core b) Lower mantle and Core c) Core and Crust</p> <p>d) Upper most mantle and Crust</p> <p>17. एस्थेनोस्फीयर स्थित है-</p> <p>a) उपरी मेंटल b) उपरी क्रस्ट c) निचला मेंटल d) इनमें से कोई नहीं</p>		

	Asthenosphere lies in a) Upper Mantle b) Upper Crust c) Lower Mantle d) None of these	
	खंड-ब स्रोत आधारित /Section- B Source Based Question	
18	<p>दिए गए गद्यांश को ध्यानपूर्वक पढ़ें और उसके बाद आने वाले प्रश्नों के उत्तर दें:-</p> <p>कार्बन डाइऑक्साइड मौसम संबंधी दृष्टि से एक बहुत ही महत्वपूर्ण गैस है क्योंकि यह आने वाले सौर विकिरण के लिए पारदर्शी है लेकिन बाहर जाने वाले पार्थिव विकिरण के लिए अपारदर्शी है। यह पार्थिव विकिरण को अवशोषित करता है और उसके कुछ भाग को वापस पृथ्वी की सतह की ओर परावर्तित कर देता है। यह ग्रीन हाउस प्रभाव के लिए काफी हद तक जिम्मेदार है। अन्य गैसों की मात्रा स्थिर है लेकिन कार्बन डाइऑक्साइड की मात्रा पिछले कुछ दशकों में मुख्य रूप से जीवाश्म ईंधन के जलने के कारण बढ़ रही है। इससे हवा का तापमान भी बढ़ गया है। ओजोन वायुमंडल का एक अन्य महत्वपूर्ण घटक है, जो पृथ्वी की सतह से 10 से 50 किमी ऊपर पाया जाता है और एक फिल्टर के रूप में कार्य करता है और सूर्य से निकलने वाली पराबैंगनी किरणों को अवशोषित करता है और उन्हें पृथ्वी की सतह तक पहुंचने से रोकता है।</p> <p>18.1 कौन सी गैस सूर्य से निकलने वाली पराबैंगनी किरणों को अवशोषित करने के लिए उत्तरदायी है?</p> <p>18.2 कार्बन डाइऑक्साइड मौसम विज्ञान की दृष्टि से एक अत्यंत महत्वपूर्ण गैस क्यों है?</p> <p>18.3 ग्रीन हाउस प्रभाव क्या है?</p> <p>Read the given passage carefully and answer the questions that follow:- Carbon dioxide is meteorologically a very important gas as it is transparent to the incoming solar radiation but opaque to the outgoing terrestrial radiation. It absorbs a part of terrestrial radiation and reflects back some part of it towards the earth's surface. It is largely responsible for the green house effect. The volume of other gases is constant but the volume of carbon dioxide has been rising in the past few decades mainly because of the burning of fossil fuels. This has also increased the temperature of the air. Ozone is another important component of the atmosphere found between 10 and 50 km above the earth's surface and acts as a filter and absorbs the ultra-violet rays radiating from the sun and prevents them from reaching the surface of the earth.</p> <p>18.1 Which gas is responsible to absorb ultra-violet rays radiating from the sun?</p> <p>18.2 Why is Carbon dioxide meteorologically a very important gas?</p> <p>18.3 What is Green house Effect?</p>	3

19	<p>दी गई छवि का अवलोकन करें और निम्नलिखित प्रश्नों के उत्तर दें</p> <p>Observe the given image and answer the following questions</p> <div data-bbox="511 172 1263 674" style="text-align: center;">  </div> <p>19.1 चित्र में दिए गए</p> <p>19.2 छवि में दिखाए गए रेत के टीलों के प्रकार को पहचानें।</p> <p>19.3 छवि में दिए गए भौतिक विभाग की कोई एक भौगोलिक विशेषता बताइए।</p> <p>19.1 Identify the physiographic division which is given in picture.</p> <p>19.2 Identify the type of sand dunes shown in the image.</p> <p>19.3 State any one geographical features of given physiographic division in image.</p> <p>प्रश्न संख्या 19.1, 19.2 और 19.3 के स्थान पर निम्नलिखित प्रश्न केवल दृष्टिबाधित उम्मीदवारों के लिए हैं।</p> <p>19.1 भारत के उस प्राकृतिक विभाग का नाम लिखें जहाँ वनस्पतियाँ विरल या नगण्य पाई जाती हैं।</p> <p>19.2 रेत के टीलों के उस प्रकार को बताएं जो देखने में अर्ध चन्द्र जैसे दिखते हैं।</p> <p>19.3 उपर्युक्त प्रश्नों से सम्बंधित भारत के भौतिक विभाग की कोई एक भौगोलिक विशेषता बताइए।</p> <p>The following questions are for Visually Impaired Candidates only in lieu of Q. No. 19.1, 19.2 & 19.3.</p> <p>19.1 Name the physiographic division which has very sparse vegetation.</p> <p>19.2 Name the type of sand dunes which is similar to crescent in shape.</p> <p>19.3 State any one geographical features of appropriate physiographic division asked in the above questions.</p>	3
खंड-स (लघु उत्तरीय) / Section C (Short Answer Types)		
20	<p>एक अनुशासन के रूप में भूगोल प्रश्नों के तीन समूहों से संबंधित है। उन प्रश्नों पर संक्षेप में चर्चा करें।</p> <p style="text-align: center;">अथवा</p>	3

	<p>भौतिक भूगोल की विभिन्न शाखाओं (कोई तीन शाखाएँ) की संक्षेप में चर्चा करें। Geography as a discipline is concerned with three sets of questions. Discuss those questions in brief.</p> <p style="text-align: center;">Or</p> <p>Discuss the different branches of physical geography in brief.(any three branch)</p>	
21	<p>अपक्षय शब्द को परिभाषित करें। अपक्षय का क्या महत्व है? Define the term weathering. What are significances of weathering?</p>	1+2
22	<p>पश्चिमी और पूर्वी तटीय मैदान के बीच अंतर बताइये।(कोई तीन) Differentiate between the Western and eastern coastal plain(any three)</p>	3
23	<p>नदी प्रदूषण के कोई तीन प्रमुख कारण संक्षेप में लिखिए। अथवा अपवाह प्रतिरूप को परिभाषित करें। किन्हीं दो अपवाह प्रतिरूप का विस्तार से वर्णन करें। Write any three major causes of river pollution in brief. or Define the drainage pattern. Elaborate any two drainage pattern.</p>	3
खंड-द (दीर्घ उत्तरीय) / Section-D (Long Answer Types)		
24	<p>महाद्वीपीय प्रवाह सिद्धांत के समर्थन में क्या साक्ष्य हैं?(कोई पांच) अथवा प्लेटे क्या है? प्लेट सीमाएँ कितने प्रकार की होती हैं? विस्तार से बताएं। What are the evidences in support of continental drift theory?(any five) Or What is plate? What are the different types of plate boundaries? Elaborate in brief.</p>	5
25	<p>प्रवाहित जल से बनने वाले किन्हीं पांच अपरदनात्मक या निक्षेपणात्मक भूस्वरूप पर चर्चा करें। Discuss any major five erosion or depositional land forms, formed by the running water.</p>	5
26	<p>क्या आपको सोचते हैं आज के आधुनिक युग में भौतिक बाधा/दूरी हमारे पड़ोसी देशों से अन्तः क्रिया करने में बाधक है? उन उदाहरणों को बताइए, जिनके द्वारा हमने किस प्रकार वर्तमान युग में भारत के विशेष सन्दर्भ में भौतिक बाधाओं पर विजय प्राप्त की है। Do you think that physical barrier is a hindrance in interaction with our neighbouring countries in modern times? Give some examples how we have overcome these difficulties in the present day in special reference to India.</p>	5

27	<p>भारत के सभी भौतिक विभागों की सूची बनाएं और भारत के किसी एक भौतिक विभाग से जुड़ी महत्वपूर्ण भौगोलिक विशेषताओं की विस्तृत जानकारी दें।</p> <p>List all the physiographic divisions of India and elaborate important geographical features are associated with anyone of the physical region of the India.</p>	5
28	<p>मान लीजिए आप हिमालय की तलहटी में हरिद्वार से सिलीगुड़ी तक यात्रा कर रहे हैं। आपके सामने आने वाली महत्वपूर्ण नदियों के नाम बताइए। उनमें से किसी एक नदी की विशेषताएँ बताइये।</p> <p>Suppose you are travelling from Haridwar to Siliguri along the foothills of the Himalayas. Name the important rivers you will come across. Describe the characteristics of any one of them.</p>	5
<p>खंड-य (मानचित्र आधारित) / Section – E (Map based Questions)</p>		
29	<p>विश्व के मानचित्र पर प्रदर्शित लक्षणों को पहचाने एवं उनका नाम लिखें (किन्हीं पांच)</p> <p>A) एक महाद्वीप B) एक प्रमुख टेक्टोनिक प्लेट C) विश्व का सबसे बड़ा महासागर D) एक महासागरीय कटक E) उत्तरी गोलार्ध में एक महासागर F) एक छोटी टेक्टोनिक प्लेट G) दक्षिणी गोलार्ध में एक महासागर</p> <p>Identify the already shown features over the World Map and Name it.(any five)</p> <p>a) A Continent b) A Major Tectonic Plate c) Largest Ocean of world d) An Oceanic Ridge e) An Ocean in Northern Hemisphere f) A Minor Tectonic Plate g) An ocean in Southern Hemisphere</p> <p>प्रश्न संख्या 29 के स्थान पर निम्नलिखित प्रश्न केवल दृष्टिबाधित अभ्यर्थियों के लिए हैं। निम्नलिखित में से किन्हीं पाँच प्रश्नों के उत्तर दीजिए:</p> <p>क) उत्तरी गोलार्ध में एक महाद्वीप, सबसे बड़ा बी) उत्तरी गोलार्ध में एक प्रमुख टेक्टोनिक प्लेट c) विश्व का सबसे बड़ा महासागर</p>	5

	<p>d) एक महासागरीय कटक, सबसे लंबा ई) उत्तरी गोलार्ध में एक महासागर च) दक्षिण अमेरिका के पास एक छोटी टेक्टोनिक प्लेट छ) सुदूर दक्षिण में दक्षिणी गोलार्ध में एक महासागर</p> <p>The following questions are for Visually Impaired Candidates only in lieu of Q. No. 29.</p> <p>Answer any five questions out of the following :</p> <p>a) A Continent in Northern Hemisphere, largest one b) A Major Tectonic Plate in Northern Hemisphere c) Largest Ocean of world d) An Oceanic Ridge, the longest one e) An Ocean in Northern Hemisphere f) A Minor Tectonic Plate near South America g) An ocean in Southern Hemisphere in Far South</p>	
30	<p>निम्न को भारत के रेखामानचित्र पर दर्शाइये (किन्ही पांच)</p> <p>a) नामचा बरवा पर्वत चोटी b) अरावली रेंज c) कोरोमंडल तट d) मालाबार तट e) अंडमान एवं निकोबार द्वीप समूह g) देक्कन का पठार h) भारत की मुख्य भूमि का दक्षिणतम बिन्दु</p> <p>Show the following items on out lined map of India.(Any Five)</p> <p>a) Namcha Barwa Peak b) Arawali Range c) Coromandal Coast d) Malabar Coast e) Andman & Nicobar Islands f) Deccan Plateau g) Southern Most Point of main Land of India</p> <p>प्रश्न संख्या 30 के स्थान पर निम्नलिखित प्रश्न केवल दृष्टिबाधित अभ्यर्थियों के लिए हैं। निम्न लिखित प्रश्नों के उत्तर दें (कोई पांच):</p> <p>a) हिमालय पर्वत की सबसे पूर्वी चोटी b) भारत की सबसे पुरानी वलित पर्वत श्रृंखला ग) सुदूर दक्षिण में पूर्वी घाट के साथ तटीय मैदान</p>	5

घ) सुदूर दक्षिण में पश्चिमी घाट के साथ तटीय मैदान

e) बंगाल की खाड़ी में एक द्वीप समूह

च) एक पठार महाराष्ट्र और तेलंगाना में स्थित है

छ) भारत की मुख्य भूमि के सबसे दक्षिणी बिंदु का नाम बताइए

The following questions are for Visually Impaired Candidates only in lieu of Q. No. 30. Give answer to any five question asked below:

a) Eastern Most Peak of Himalaya Mountain

b) The oldest folded Mountain range in India

c) Coastal Plain along with Eastern Ghat in Far South

d) Coastal Plain along with Western Ghat in Far South

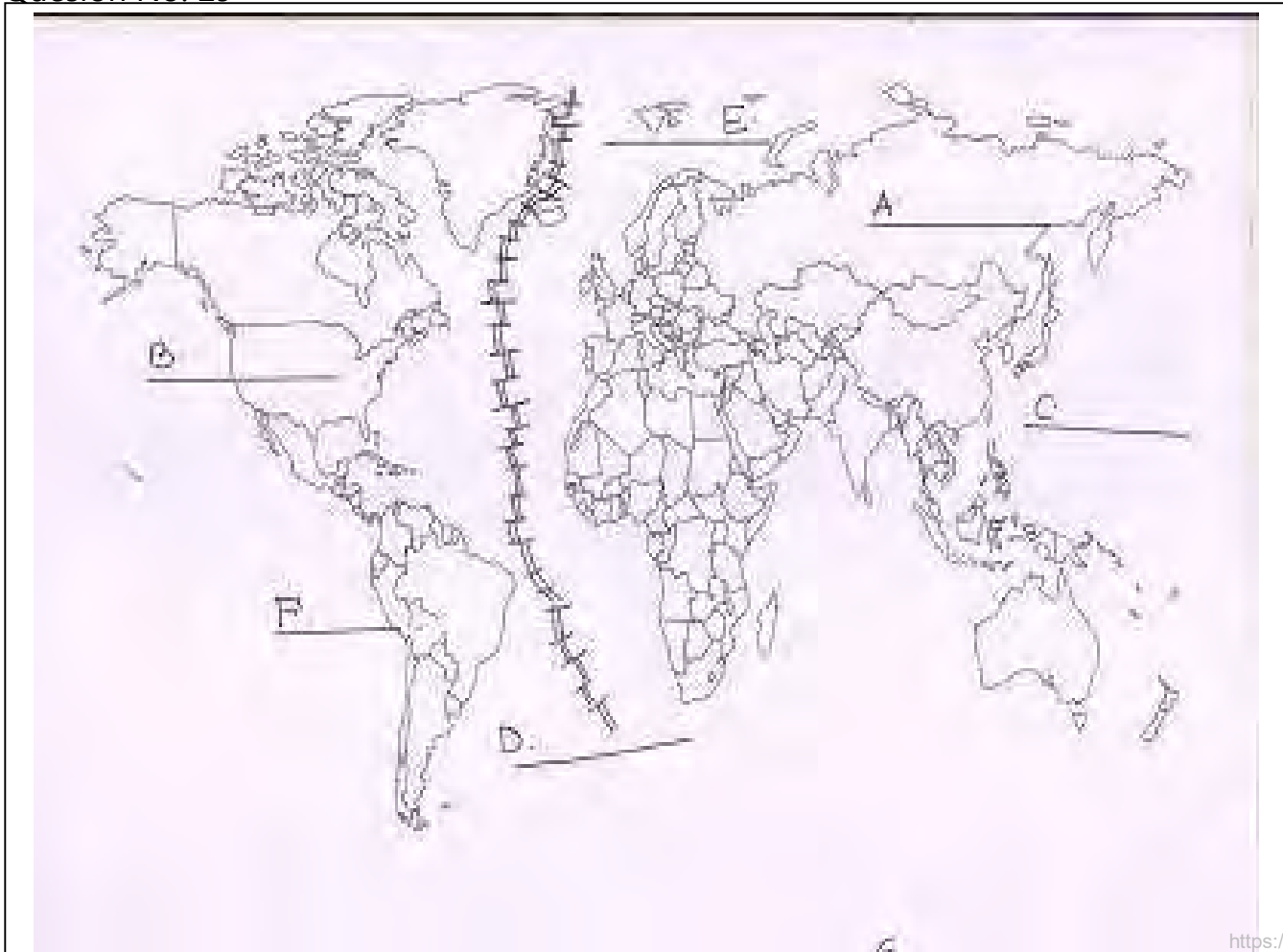
e) An Island Group in Bay Of Bengal

f) A plateau lies in Maharashtra and Telangana

g) Name the Southern Most Point of main Land of India

Name.....Roll No.....Class& Sec.

Question No. 29



प्रश्न सं. 30 के लिए

For question no. 30

भारत का रेखा-मानचित्र (राजनीतिक)
Outline Map of India (Political)

