

## अध्याय - 12

## विद्युत

- आवेश - आवेश परमाणु का एक मूल कण होता है। यह धनात्मक भी हो सकता है और ऋणात्मक भी।
- समान आवेश एक-दूसरे को प्रतिकर्षित करते हैं।
- असमान आवेश एक-दूसरे को आकर्षित करते हैं।

कूलॉम (c) आवेश का SI मात्रक है।

1 कूलॉम आवेश =  $6 \times 10^{18}$  इलेक्ट्रॉनों पर उपस्थित आवेश

1 इलेक्ट्रॉन पर आवेश =  $1.6 \times 10^{-19}C$  (ऋणात्मक आवेश)

$$Q = ne$$

$Q$  = कुल आवेश

$n$  = इलेक्ट्रॉनों की संख्या

$e$  = एक इलेक्ट्रॉन पर आवेश

विद्युत धारा  $I$ . आवेश के प्रवाहित होने की दर को विद्युत धारा कहते हैं।

$$\text{विद्युत धारा} = \frac{\text{आवेश}}{\text{समय}}$$

$$I = \frac{Q}{t}$$

धारा का SI मात्रक = ऐम्पियर (A)

$$1A = \frac{1C}{1S} = \frac{1 \text{ कूलाम}}{1 \text{ सेकंड}}$$

$1mA = 1$  मिलि ऐम्पियर =  $10^{-3}A$

$1\mu A = 1$  माइक्रो ऐम्पियर =  $10^{-6}A$

## विद्युत धारा को ऐमीटर द्वारा मापा जाता है।

प्रतीक :

- ऐमीटर का प्रतिरोध कम होता है तथा हमेशा श्रेणी क्रम में जुड़ता है।
- विद्युत धारा की दिशा इलेक्ट्रॉन के प्रवाहित होने की दिशा के विपरीत मानी जाती है। क्योंकि जिस समय विद्युत की परिघटना का सर्वप्रथम प्रेक्षण किया था इलेक्ट्रानों के बारे में कोई जानकारी नहीं थी अतः विद्युत धारा को धनावेशों का प्रवाह माना गया।
- **विभवांतर (V) :** एकांक आवेश को एक बिंदु से दूसरे बिंदु तक लाने में किया गया कार्य।

$$V = \frac{W}{q} \text{ SI मात्रक} = \text{वोल्ट (V)}$$

- 1 वोल्ट : जब 1 कूलॉम आवेश को लाने के लिए 1 जूल का कार्य होता है तो विभवांतर 1 वोल्ट कहलाता है।
- **वोल्ट मीटर :** विभवांतर को मापने की युक्ति इसका प्रतिरोध ज्यादा होता है तथा हमेशा पार्श्वक्रम में जुड़ता है।

वोल्ट मीटर का प्रतीक :

- **सेल :** यह एक सरल युक्ति है जो विभवांतर को बनाए रखती है।
- विद्युत धारा हमेशा उच्च विभवांतर से निम्न विभवांतर की तरफ प्रवाहित होती है।
- विद्युत परिपथ में सामान्यतः उपयोग होने वाले कुछ अवयवों के प्रतीक :

क्र. सं.	अवयव	प्रतीक
1.	विद्युत सेल	
2.	बैटरी अथवा सेलों का संयोजन	
3.	(खुली) प्लग कुंजी अथवा स्विच	
4.	(बंद) प्लग कुंजी अथवा स्विच	
5.	तार संधि	
6.	(बिना संधि के) तार क्रॉसिंग	
7.	विद्युत बल्ब	
8.	प्रतिरोधक	

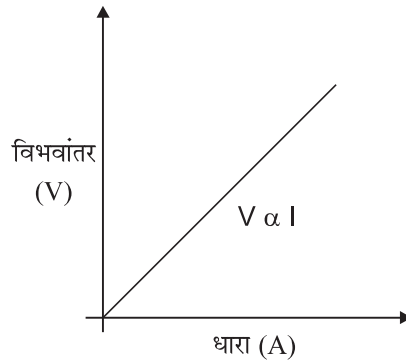
9.	परिवर्ती प्रतिरोधक अथवा धारा नियंत्रक	
10.	ऐमीटर	
11.	वोल्टमीटर	

**ओम का नियम :** किसी विद्युत परिपथ में धातु के तार के दो सिरों के बीच विभवांतर उसमें प्रवाहित होने वाली विद्युत धारा के समानुपाती होता है परन्तु तार का तापमान समान रहना चाहिए।

$$V \propto R$$

$$V = IR$$

R एक नियतांक है जिसे तार का प्रतिरोध कहते हैं।



- **प्रतिरोध :** यह चालक का वह गुण है जिसके कारण वह प्रवाहित होने वाली धारा का विरोध करता है।

SI मात्रक - ओम ( $\Omega$ ) है।

$$1 \text{ ओम} = \frac{1 \text{ वोल्ट}}{1 \text{ ऐम्पियर}}$$

- जब परिपथ में से 1 ऐम्पियर की धारा प्रवाहित हो रही हो तथा विभवांतर एक वोल्ट का हो तो प्रतिरोध 1 ओम कहलाता है।
- **धारा नियंत्रक :** परिपथ में प्रतिरोध को परिवर्तित करने के लिए जिस युक्ति का उपयोग किया जाता है उसे धारा नियंत्रक कहते हैं।

**वे कारक जिन पर एक चालक का प्रतिरोध निर्भर करता है :**

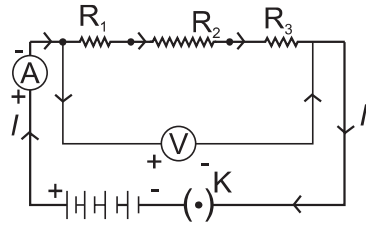
- चालक की लम्बाई के समानुपाती होता है।
- अनुप्रस्थ काट के क्षेत्रफल के व्युत्क्रमानुपाती होता है।
- तापमान के समानुपाती होता है।
- पदार्थ की पृकृति पर भी निर्भर करता है।

- **विद्युत प्रतिरोधकता** : 1 मीटर भुजा वाले घन के विपरीत फलकों में से धारा गुजरने पर जो प्रतिरोध उत्पन्न होता है वह प्रतिरोधता कहलाता है।

### SI मात्रक $\Omega\text{m}$ (ओम मीटर) :

- प्रतिरोधकता चालक की लम्बाई व अनुप्रस्थ काट के क्षेत्रफल के साथ नहीं बदलती परन्तु तापमान के साथ परिवर्तित होती है।
- धातुओं व मिश्रधातुओं का प्रतिरोधकता परिसर -  $10^{-8} - 10^{-6}\Omega\text{m}$
- मिश्र धातुओं की प्रतिरोधकता उनकी अवयवी धातुओं से अपेक्षाकृत: अधिक होती है।
- मिश्र धातुओं का उच्च तापमान पर शीघ्र ही उपचयन (दहन) नहीं होता अतः इनका उपयोग तापन युक्तियों में होता है।
- तांबा व ऐलूमिनियम का उपयोग विद्युत संरचरण के लिए किया जाता है क्योंकि उनकी प्रतिरोधकता कम होती है।

### प्रतिरोधकों का श्रेणी क्रम संयोजन :



जब दो या तीन प्रतिरोधकों को एक सिरे से दूसरा सिरा मिलाकर जोड़ा जाता है तो संयोजन श्रेणीक्रम संयोजन कहलाता है।

श्रेणीक्रम में कुल प्रभावित प्रतिरोध :

$$R_S = R_1 + R_2 + R_3$$

प्रत्येक प्रतिरोधक में से एक समान धारा प्रवाहित होती है।

तथा कुल विभवांतर = व्यष्टिगत प्रतिरोधकों के विभवांतर का योग।

$$V = V_1 + V_2 + V_3$$

$$V_1 = IR_1 \quad V_2 = IR_2 \quad V_3 = IR_3$$

$$V_1 + V_2 + V_3 = IR_1 + IR_2 + IR_3$$

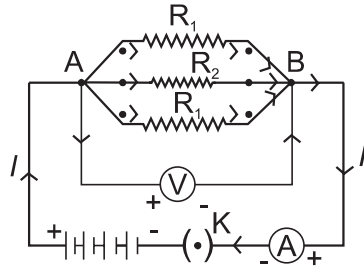
$$V = I(R_1 + R_2 + R_3) \quad (V_1 + V_2 + V_3 = V)$$

$$IR = I(R_1 + R_2 + R_3)$$

$$R = R_1 + R_2 + R_3$$

अतः एकल तुल्य प्रतिरोध सबसे बड़े व्यक्तिगत प्रतिरोध से बड़ा है।

### पार्श्वक्रम में संयोजित प्रतिरोधक :



पार्श्वक्रम में प्रत्येक प्रतिरोधक के सिरो पर विभवांतर उपयोग किए गए विभवांतर के बराबर होता है। तथा कुल धारा प्रत्येक व्यष्टिगत प्रतिरोधक में से गुजरने वाली धाराओं के योग के बराबर होती है।

$$I = I_1 + I_2 + I_3$$

$$\frac{V}{R} = \frac{V}{R_1} + \frac{V}{R_2} + \frac{V}{R_3}$$

$$\frac{1}{R} = \frac{1}{R_1} + \frac{1}{R_2} + \frac{1}{R_3}$$

एकल तुल्य प्रतिरोध का व्युत्क्रम प्रथक।

प्रतिरोधों के व्युत्क्रमों के योग के बराबर होता है।

### श्रेणीक्रम संयोजन की तुलना में पार्श्वक्रम संयोजन के लाभ :

- (1) श्रेणीक्रम संयोजन में जब एक अवयव खराब हो जात है तो परिपथ टूट जाता है तथा कोई भी अवयव काम नहीं करता।
- (2) अलग-अलग अवयवों में अलग-अलग धारा की जरूरत होती है, यह गुण श्रेणीक्रम में उपयुक्त नहीं होता है क्योंकि श्रेणीक्रम में धारा एक जैसी रहती है।
- (3) पार्श्वक्रम संयोजन में प्रतिरोध कम होता है।

### विद्युत धारा का तापीय प्रभाव :

यदि एक विद्युत् परिपथ विशुद्ध रूप से प्रतिरोधक है तो स्रोत की ऊर्जा पूर्ण रूप से ऊष्मा के रूप में क्षयित होती है, इसे विद्युत् धारा का तापीय प्रभाव कहते हैं।

$$\text{ऊर्जा} = \text{शक्ति} \times \text{समय}$$

$$H = P \times t$$

$$H = VI t$$

$$H = I^2 R t$$

$$P = VI$$

$$V = IR$$

$$H = \text{ऊष्मा ऊर्जा}$$

अतः उत्पन्न ऊर्जा (ऊष्मा) =  $I^2Rt$

जूल का विद्युत् धारा का तापन नियम :

इस नियम के अनुसार :

- (1) किसी प्रतिरोध में तत्पन्न उष्मा विद्युत् धारा के वर्ग के समानुपाती होती है।
  - (2) प्रतिरोध के समानुपाती होती है।
  - (3) विद्युत् धारा के प्रवाहित होने वाले समय के समानुपाती होती है।
- तापन प्रभाव हीटर, प्रेस आदि में वाँछनीय होता है परन्तु कम्प्यूटर, मोबाइल आदि में अवाँछनीय होता है।
  - विद्युत् बल्ब में अधिकांश शक्ति ऊष्मा के रूप प्रकट होती है तथा कुछ भाग प्रकाश के रूप में उत्सर्जित होता है।
  - विद्युत् बल्ब का तंतु टंगस्टन का बना होता है क्योंकि—
    - (1) यह उच्च तापमान पर उपचयित नहीं होता है।
    - (2) इसका गलनांक उच्च ( $3380^\circ\text{C}$ ) है।
    - (3) बल्बों में रासायनिक दृष्टि से अक्रिय नाइट्रोजन तथा आर्गन गैस भरी जाती है जिससे तंतु की आयु में वृद्धि हो जाती है।

विद्युत् शक्ति : ऊर्जा के उपभुक्त होने की दर को शक्ति कहते हैं।

प्रतीक = P  $P = VI$

$$P = I^2R = \frac{V^2}{R}$$

शक्ति का SI मात्रक = वाट है।

1 वाट 1 वोल्ट  $\times$  1 ऐम्पियर

ऊर्जा का व्यावहारिक मात्रक = किलोवाट घंटा  
= Kwh

1 kwh =  $3.6 \times 10^6\text{J}$

1 kwh = विद्युत् ऊर्जा की एक यूनिट

## प्रश्नावली

अतिलघु उत्तरीय प्रश्न (1 Mark)

1. निम्न के SI मात्रक लिखो।
  - (a) विद्युत् धारा
  - (b) विभवांतर
  - (c) प्रतिरोध
  - (d) उपभुक्त विद्युत् ऊर्जा

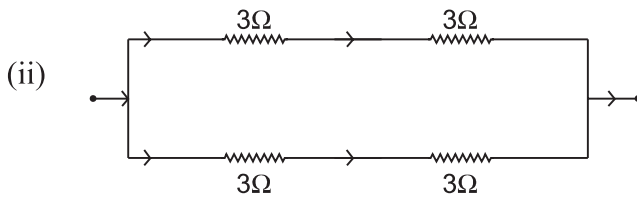
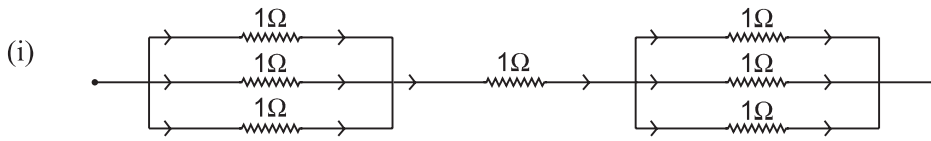
2. प्रतिरोधकता को परिभाषित करें।
3. धारा को मापने वाला यंत्र है।
4. बल्व के फिलामेंट (तंतु) के तत्व का नाम बताओ।
5. प्रतिरोधों के संयोजन के प्रकार बताओ।

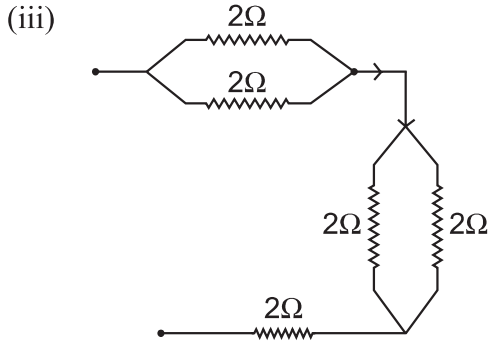
### लघुउत्तरीय प्रश्न (2 Mark)

1. वोल्टमीटर व ऐमीटर परिपथ में कैसे जोड़े जाते हैं ?
2. बल्व का तंतु उच्च गलनांक वाला क्यों होता है ?
3. फ्यूज की तार विद्युत उपकरणों को कैसे बचाती है ?
4. 1 kwh में कितने जूल होते हैं ?
5. P, I तथा V में सम्बंध बताओ।
6. किसी चालक के प्रतिरोध को प्रभावित करने वाले कारक बताओ।

### लघुउत्तरीय प्रश्न (3 Marks)

1. ओम का नियम बताओ। V, I तथा R के बीच में सम्बन्ध व्युत्पन्न करो। V तथा I के बीच में ग्राफ खींचो।
2. जूल का विद्युत धारा का तापन नियम क्या है? इसके लिए व्यंजक व्युत्पन्न करो।
3. यदि किसी चालक की लम्बाई को दुगना तथा मोटाई को आधा कर दिया जाए तो नया प्रतिरोध क्या होगा ?
4. A तथा B के बीच में प्रभावित प्रतिरोध निकालो :

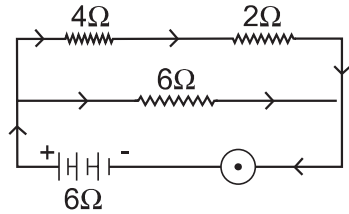




5. प्रकाशीय तथा दूसरे उपकरणों को घरेलू परिपथ में किस प्रकार जोड़ना चाहिए और क्यों ?

### दीर्घ उत्तरीय प्रश्न (5 Marks)

1. जूल के तापन नियम का वर्णन करो। किसी चालक में उत्पन्न ऊष्मा किन-किन कारकों पर निर्भर करती है ?
2. नीचे दिए गए परिपथ में बताओ।



- (a) कुल प्रभावित प्रतिरोध (b)  $4\Omega$ ,  $2\Omega$  के सिरों पर विभवांतर
3. किसी परिपथ में तीन प्रतिरोधक  $2\Omega$ ,  $3\Omega$ ,  $5\Omega$  जुड़े हुए हैं, तो बताओ
    - (a) अधिकतम प्रभावित प्रतिरोध।
    - (b) निम्नतम प्रभावित प्रतिरोध।
  4. किसी चालक का प्रतिरोध किन-किन कारकों पर निर्भर करता है, गणितीय व्यंजक लिखो। प्रतिरोधकता का SI मात्रक बताओ।

### दीर्घ उत्तरीय प्रश्नों के हल

1. **जूल के तापन का नियम** : किसी प्रतिरोध में उत्पन्न ऊष्मा विद्युत धारा के वर्ग के समानुपाती होती है।  
कारक : (1) विद्युत धारा  
(2) समय



2. (a) कुल प्रभावित प्रतिरोध  $4 \Omega + 2 \Omega = 6\Omega$

$$\frac{1}{R} = \frac{1}{6} + \frac{1}{6} = \frac{2}{6}\Omega = \frac{1}{3}\Omega$$

$$R = 3\Omega$$

(b) V (across  $4 \Omega$ ) = IR

$$= I \times 4 = 4V$$

V (across  $2 \Omega$ ) = IR

$$= 1 \times 2 = 2V$$

3. (a)  $R = 10\Omega$

$$(b) R = \frac{30}{3T}\Omega$$

### मूल्य पूरक प्रश्न

उस रात विनय अपने विज्ञान की परीक्षा की तैयारी कर रहा था, अचानक उसके कमरे की बिजली चली गई उसके चचेरे भाई वासु ने जल्दी से मोबाइल फोन की टॉर्च से पता किया कि फ्यूज का तार जल गया है। उसने चेक किया तथा एक फ्यूज की तार जगा दी। जीवन में दोबारा से बिजली आ गई। विनय ने वासु का धन्यवाद किया तथा अपनी तैयारी जारी रखी।

1. वासु तथा विनय ने कौन-कौन से मूल्य दिखाए हैं ?
2. विद्युत फ्यूज क्या होता है ?
3. एक फ्यूज की तार में आप क्या-क्या गुण चाहेंगे ?