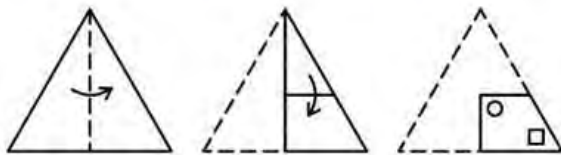


Constable GD in Central Armed Police Forces CAPFs SSF Rifleman GD in Assam Rifles Examination 2024

Roll Number	
Candidate Name	
Venue Name	
Exam Date	29/02/2024
Exam Time	2:30 PM - 3:30 PM
Subject	Constable GD Examination 2024

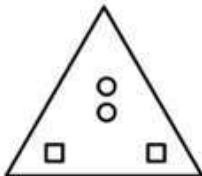
Section : Part-A-General Intelligence and Reasoning

Q.1 A paper is folded and cut as shown below. How will it appear when unfolded?

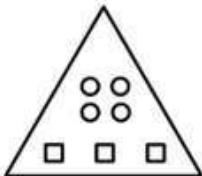


Ans

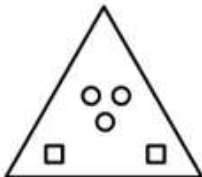
1.



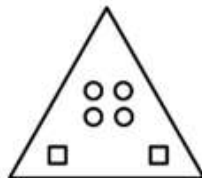
2.



3.



4.



Question ID : 264330192207

Option 1 ID : 264330752183

Option 2 ID : 264330752182

Option 3 ID : 264330752184

Option 4 ID : 264330752185

Status : Answered

Chosen Option : 4

Q.2 Which two numbers should be interchanged to make the given equation correct?

$$9 \div 3 + 1 \times 7 - 4 = 0$$

- Ans
- 1. 9 and 7
 - 2. 4 and 7
 - 3. 1 and 0
 - 4. 3 and 4

Question ID : 264330192162

Option 1 ID : 264330752003

Option 2 ID : 264330752005

Option 3 ID : 264330752004

Option 4 ID : 264330752002

Status : Answered

Chosen Option : 2

Q.3 Five friends Pooja, Bhawna, Charu, Geeta and Hema are sitting around a circular table facing towards the centre. Charu is not the neighbour of Bhawna. Bhawna is second to the left of Hema. Geeta is the neighbour of Bhawna and Hema. Who is sitting to the immediate left of Pooja?

- Ans
- 1. Charu
 - 2. Bhawna
 - 3. Geeta
 - 4. Hema

Question ID : 264330190175

Option 1 ID : 264330744285

Option 2 ID : 264330744282

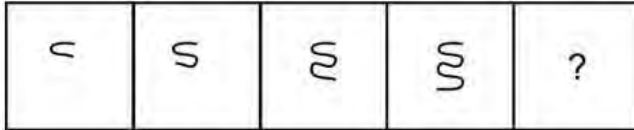
Option 3 ID : 264330744283

Option 4 ID : 264330744284

Status : Answered

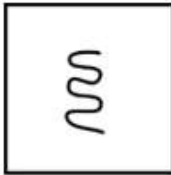
Chosen Option : 1

Q.4 Select the figure that will replace the question mark (?) in the following figure series.



Ans


✓ 1.



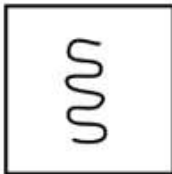
✗ 2.



✗ 3.



✗ 4.



Question ID : 264330192123

Option 1 ID : 264330751846

Option 2 ID : 264330751847

Option 3 ID : 264330751848

Option 4 ID : 264330751849

Status : Answered

Chosen Option : 1

Q.5 In the following question, select the related letters from the given alternatives.

DQMZ : FSOB :: AGHL : ?

Ans

✓ 1. CIJN

✗ 2. PUSX

✗ 3. NSMT

✗ 4. ZOPB

Question ID : 264330187102

Option 1 ID : 264330732337

Option 2 ID : 264330732338

Option 3 ID : 264330732336

Option 4 ID : 264330732339

Status : Answered

Chosen Option : 1

Q.6 In a certain code language, if MOUSE is coded as M1521S5, ELEPHANT is coded as 5L5PH1NT, then what will TIGER be coded as?

- Ans
- 1. T9G5R
 - 2. TGG5R
 - 3. TI9518
 - 4. T995R

Question ID : 264330191113
Option 1 ID : 264330747808
Option 2 ID : 264330747809
Option 3 ID : 264330747806
Option 4 ID : 264330747807
Status : Answered
Chosen Option : 1

Q.7 Which of the following groups of letters when sequentially placed from left to right will complete the given series?
xx_yyyyzzzzzxxxyyy_zzzzzx_yyyyzzzz_

- Ans
- 1. xxyy
 - 2. yzzy
 - 3. xyxz
 - 4. xyzy

Question ID : 264330190108
Option 1 ID : 264330744014
Option 2 ID : 264330744017
Option 3 ID : 264330744015
Option 4 ID : 264330744016
Status : Answered
Chosen Option : 3

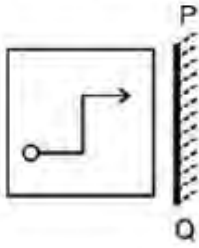
Q.8 In the following question, select the missing number from the given series.

5, 48, 7, 44, 13, ?

- Ans
- 1. 36
 - 2. 48
 - 3. 44
 - 4. 41

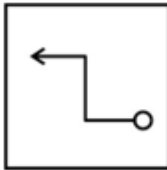
Question ID : 264330190279
Option 1 ID : 264330744699
Option 2 ID : 264330744701
Option 3 ID : 264330744700
Option 4 ID : 264330744698
Status : Answered
Chosen Option : 1

Q.9 Select the correct mirror image of the given figure when the mirror PQ is placed to the right side of the figure.

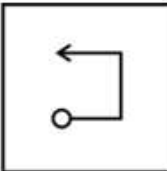


Ans

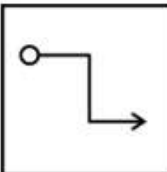
✓ 1.



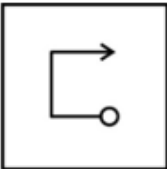
✗ 2.



✗ 3.



✗ 4.



Question ID : 264330192246

Option 1 ID : 264330752339

Option 2 ID : 264330752338

Option 3 ID : 264330752341

Option 4 ID : 264330752340

Status : Answered

Chosen Option : 1

Q.10 In a certain code language, 'LAPTOP' is coded as 'MZQSPQ'. What is the code for 'KILLED' in that code language?

Ans ✓ 1. LHMKFC

✗ 2. LHNKFC

✗ 3. LHMLFC

✗ 4. LHMKFD

Question ID : 264330190192

Option 1 ID : 264330744350

Option 2 ID : 264330744352

Option 3 ID : 264330744353

Option 4 ID : 264330744351

Status : Answered

Chosen Option : 1

Q.11 Three Statements are given followed by two conclusions numbered I and II. Assuming the statements to be true, even if they seem to be at variance with commonly known facts, decide which of the conclusions logically follow(s) from the statements.

Statement I: All mathematicians are logical thinkers.

Statement II: Some logical thinkers are scientists.

Statement III: Some scientists are fool.

Conclusion I: Some scientists are not fool.

Conclusion II: Some logical thinkers are not scientists.

- Ans 1. Neither conclusion I nor II follows
 2. Both conclusions I and II follow
 3. Only conclusion I follows
 4. Only conclusion II follows

Question ID : 264330191598
Option 1 ID : 264330749749
Option 2 ID : 264330749748
Option 3 ID : 264330749746
Option 4 ID : 264330749747
Status : Answered
Chosen Option : 2

Q.12 Select the option that is related to the fifth word in the same way as the fourth word is related to the third word and the second word is related to the first word.

INDIA : NEW DELHI :: BANGLADESH : DHAKA :: FRANCE : ?

- Ans 1. PARIS
 2. BUDAPEST
 3. NEWYORK
 4. UNITED KINGDOM

Question ID : 264330192212
Option 1 ID : 264330752204
Option 2 ID : 264330752205
Option 3 ID : 264330752202
Option 4 ID : 264330752203
Status : Answered
Chosen Option : 1

Q.13 If $A + B$ means A is the wife of B, $A \times B$ means A is the father of B, $A - B$ means A is the mother of B, $A \div B$ means A is the brother of B and $A - B$ means A is the sister of B.

If $P + D \div B + H \times T - M$, then how is H related to D?

- Ans 1. Sister
 2. Brother
 3. Sister's husband
 4. Father

Question ID : 264330191555
Option 1 ID : 264330749576
Option 2 ID : 264330749575
Option 3 ID : 264330749577
Option 4 ID : 264330749574
Status : Answered
Chosen Option : 3

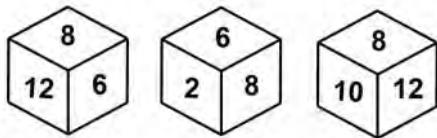
Q.14 In the following question, select the missing number from the given series.

750, 715, 680, 645, 610, ?

- Ans
- 1. 574
 - 2. 570
 - 3. 573
 - 4. 575

Question ID : 264330190178
Option 1 ID : 264330744295
Option 2 ID : 264330744294
Option 3 ID : 264330744296
Option 4 ID : 264330744297
Status : Answered
Chosen Option : 4

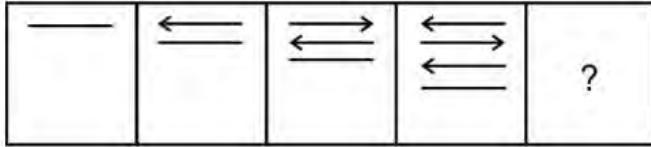
Q.15 Three different positions of the same dice are given below. Find the number opposite of 2.



- Ans
- 1. 12
 - 2. 6
 - 3. 10
 - 4. 8

Question ID : 264330192105
Option 1 ID : 264330751775
Option 2 ID : 264330751776
Option 3 ID : 264330751777
Option 4 ID : 264330751774
Status : Answered
Chosen Option : 1

Q.16 Select the figure that will replace the question mark (?) in the following figure series.



Ans

- 1.
- 2.
- 3.
- 4.

Question ID : 264330192224

Option 1 ID : 264330752253

Option 2 ID : 264330752252

Option 3 ID : 264330752251

Option 4 ID : 264330752250

Status : Answered

Chosen Option : 2

Q.17 A series is given with one term missing. Select the correct alternative from the given ones that will complete the series.

NRT, OSU, PTV, QUW, ?

- 1. PQR
- 2. RVX
- 3. MHD
- 4. RXM

Question ID : 264330192048

Option 1 ID : 264330751546

Option 2 ID : 264330751547

Option 3 ID : 264330751548

Option 4 ID : 264330751549

Status : Answered

Chosen Option : 2

Q.18 Eight teachers Jatin, Abhi, Gopal, Heena, Isha, Rohit, Kajal and Leela are sitting around a circular table facing opposite to the centre (not necessarily in the same order). Abhi is second to the left of Heena, Rohit is third to the right of Heena. Gopal is second to the right of Jatin. Rohit is second to the left of Jatin. Kajal is third to the left of Isha. Who is sitting to the immediate left of Gopal?

- Ans**
- 1. Heena
 - 2. Abhi
 - 3. Kajal
 - 4. Rohit

Question ID : 264330187108
Option 1 ID : 264330732360
Option 2 ID : 264330732363
Option 3 ID : 264330732361
Option 4 ID : 264330732362
Status : Answered
Chosen Option : 2

Q.19 Arrange the given words in the sequence in which they occur in the dictionary.

1. Liberal
2. Libra
3. Library
4. Libel
5. Liability

- Ans**
- 1. 4, 5, 2, 1, 3
 - 2. 5, 4, 1, 2, 3
 - 3. 4, 5, 1, 2, 3
 - 4. 5, 4, 1, 3, 2

Question ID : 264330190209
Option 1 ID : 264330744421
Option 2 ID : 264330744419
Option 3 ID : 264330744418
Option 4 ID : 264330744420
Status : Answered
Chosen Option : 2

Q.20 Which two signs should be interchanged to make the given equation correct?

$$10 - 2 \div 4 + 6 \times 3 = 19$$

- Ans**
- 1. - and +
 - 2. = and ×
 - 3. + and -
 - 4. × and ÷

Question ID : 264330192121
Option 1 ID : 264330751840
Option 2 ID : 264330751838
Option 3 ID : 264330751839
Option 4 ID : 264330751841
Status : Answered
Chosen Option : 1

Q.1 What is the term used to describe the ability of the Constitution to adapt and grow over time to meet the changing needs of society?

- Ans
- 1. Quasi-federal
 - 2. Immutable
 - 3. Rigid
 - 4. Flexible

Question ID : 264330190979
Option 1 ID : 264330747270
Option 2 ID : 264330747273
Option 3 ID : 264330747272
Option 4 ID : 264330747271
Status : Answered
Chosen Option : 4

Q.2 How many vertical columns are present in the modern periodic table?

- Ans
- 1. 16
 - 2. 20
 - 3. 14
 - 4. 18

Question ID : 264330190832
Option 1 ID : 264330746683
Option 2 ID : 264330746685
Option 3 ID : 264330746682
Option 4 ID : 264330746684
Status : Answered
Chosen Option : 4

Q.3 _____ permits non-government entities (NGEs) to offer national and international space-based communication services.

- Ans
- 1. Indian Telecommunication Bill 2023
 - 2. The Indian Space Policy-2023
 - 3. The Internet Governance and Regulation Act, 2019
 - 4. The Information Technology Act, 2000

Question ID : 264330190947
Option 1 ID : 264330747145
Option 2 ID : 264330747143
Option 3 ID : 264330747144
Option 4 ID : 264330747142
Status : Answered
Chosen Option : 2

Q.4 _____ is a famous Indian folk dance, which is conducted during the Bihu festival in Assam.

Ans 1. Bihu Dance

2. Bhortal Dance

3. Bagurumba Dance

4. Bardo Chham

Question ID : 264330191731

Option 1 ID : 264330750279

Option 2 ID : 264330750278

Option 3 ID : 264330750280

Option 4 ID : 264330750281

Status : Answered

Chosen Option : 1

Q.5 A handball match lasts for a total of _____ minutes.

Ans 1. 60

2. 40

3. 70

4. 50

Question ID : 264330190823

Option 1 ID : 264330746648

Option 2 ID : 264330746646

Option 3 ID : 264330746649

Option 4 ID : 264330746647

Status : Answered

Chosen Option : 1

Q.6 What is the literacy rate among females in India according to the Literacy Rate 2011 census?

Ans 1. 82.8%

2. 65.46%

3. 74.04%

4. 39.3%

Question ID : 264330188918

Option 1 ID : 264330739477

Option 2 ID : 264330739475

Option 3 ID : 264330739476

Option 4 ID : 264330739474

Status : Answered

Chosen Option : 2

Q.7 Akham Lakshmi Devi receives the Sangeet Natak Akademi Award for her contribution to _____ Dance.

- Ans
- 1. Kathak
 - 2. Sattriya
 - 3. Odissi
 - 4. Manipuri

Question ID : 264330191459
Option 1 ID : 264330749190
Option 2 ID : 264330749193
Option 3 ID : 264330749192
Option 4 ID : 264330749191
Status : Answered
Chosen Option : 3

Q.8 Amrit diwan cup is associated with _____.

- Ans
- 1. Badminton
 - 2. Hockey
 - 3. Basketball
 - 4. Boat Race

Question ID : 264330190921
Option 1 ID : 264330747040
Option 2 ID : 264330747041
Option 3 ID : 264330747039
Option 4 ID : 264330747038
Status : Answered
Chosen Option : 2

Q.9 _____ has announced his new political party 'Democratic Azad Party' and also released his party flag. (September 2022)

- Ans
- 1. Rahul Gandhi
 - 2. Ghulam Nabi Azad
 - 3. Mallikarjun Kharge
 - 4. Adhir Ranjan Chowdhury

Question ID : 264330190889
Option 1 ID : 264330746913
Option 2 ID : 264330746910
Option 3 ID : 264330746912
Option 4 ID : 264330746911
Status : Answered
Chosen Option : 2

Q.10 In the First seven five-year plan, in India trade was characterized by what is commonly called an _____ strategy.

Ans 1. inward looking trade

2. locking trade

3. inward looking and outward trade

4. outward looking trade

Question ID : 264330191447

Option 1 ID : 264330749144

Option 2 ID : 264330749145

Option 3 ID : 264330749143

Option 4 ID : 264330749142

Status : Answered

Chosen Option : 1

Q.11 _____ unveiled a 12 feet high statue of the father of the nation Mahatma Gandhi and a 'Gandhi Vatika' at Gandhi Darshan in New Delhi in September 2023.

Ans 1. Prime Minister of India

2. President of India

3. Home Minister of India

4. Defense Minister of India

Question ID : 264330190888

Option 1 ID : 264330746907

Option 2 ID : 264330746906

Option 3 ID : 264330746908

Option 4 ID : 264330746909

Status : Answered

Chosen Option : 1

Q.12 In which year was the Arms Act passed in India?

Ans 1. 1862

2. 1872

3. 1868

4. 1878

Question ID : 264330191016

Option 1 ID : 264330747418

Option 2 ID : 264330747420

Option 3 ID : 264330747419

Option 4 ID : 264330747421

Status : Answered

Chosen Option : 1

Q.13 In June 2023, The Ministry of _____ recently announced that the Gandhi Peace Prize for 2021 will be conferred upon Gita Press, Gorakhpur.

- Ans
- 1. Finance
 - 2. Tourism
 - 3. Education
 - 4. Culture

Question ID : 264330191865
Option 1 ID : 264330750816
Option 2 ID : 264330750817
Option 3 ID : 264330750814
Option 4 ID : 264330750815
Status : Answered
Chosen Option : 4

Q.14 Around which of the following year did the Green Revolution begin in India?

- Ans
- 1. 1978
 - 2. 1955
 - 3. 1966
 - 4. 1948

Question ID : 264330192046
Option 1 ID : 264330751541
Option 2 ID : 264330751539
Option 3 ID : 264330751540
Option 4 ID : 264330751538
Status : Answered
Chosen Option : 3

Q.15 Which of the following is correctly matched with respected to the persons and related to their musical instruments?

- I. U Srinivas – Mandolin
- II. Bismillah Khan – Shehnai

- Ans
- 1. Only II
 - 2. Only I
 - 3. Neither I nor II
 - 4. Both I and II

Question ID : 264330191097
Option 1 ID : 264330747743
Option 2 ID : 264330747742
Option 3 ID : 264330747745
Option 4 ID : 264330747744
Status : Answered
Chosen Option : 4

Q.16 In India within the legislative branch are the _____ houses of parliament.

- Ans
- 1. Five
 - 2. Three
 - 3. One
 - 4. Two

Question ID : 264330191881
Option 1 ID : 264330750878
Option 2 ID : 264330750879
Option 3 ID : 264330750881
Option 4 ID : 264330750880
Status : Answered
Chosen Option : 4

Q.17 Crossover Dribble is mainly associated with _____.

- Ans
- 1. Hockey
 - 2. Football
 - 3. Badminton
 - 4. Basketball

Question ID : 264330191896
Option 1 ID : 264330750941
Option 2 ID : 264330750940
Option 3 ID : 264330750939
Option 4 ID : 264330750938
Status : Answered
Chosen Option : 1

Q.18 Till 1993-94, the poverty line in India was based on URP data. What does 'URP' stand for?

- Ans
- 1. Uniform Research Period
 - 2. Usual Reference Period
 - 3. Uniform Reference Period
 - 4. Usual Research Period

Question ID : 264330191094
Option 1 ID : 264330747732
Option 2 ID : 264330747733
Option 3 ID : 264330747730
Option 4 ID : 264330747731
Status : Answered
Chosen Option : 4

Q.19 Which country hosts the Sultan Azlan Shah Cup?

- Ans 1. Malaysia
 2. Singapore
 3. Thailand
 4. Myanmar

Question ID : 264330191062
Option 1 ID : 264330747602
Option 2 ID : 264330747603
Option 3 ID : 264330747604
Option 4 ID : 264330747605
Status : Answered
Chosen Option : 2

Q.20 Which of following festivals is associated with Gujarat?

- Ans 1. Madai
 2. Bastar Dussehera
 3. Modhera Dance Festival
 4. Mando festival

Question ID : 264330188656
Option 1 ID : 264330738427
Option 2 ID : 264330738428
Option 3 ID : 264330738429
Option 4 ID : 264330738426
Status : Answered
Chosen Option : 3

Section : Part-C-Elementary Mathematics

Q.1 When 32 percent of a number is added to 476, then the result is that number only. What is the value of the number?

- Ans 1. 500
 2. 700
 3. 800
 4. 750

Question ID : 264330187165
Option 1 ID : 264330732588
Option 2 ID : 264330732589
Option 3 ID : 264330732591
Option 4 ID : 264330732590
Status : Answered
Chosen Option : 2

Q.2 The difference between the compound interest (compounding half yearly) for 1 year and the simple interest for 1 year on a certain sum lent out at the annual rate of 10 percent is Rs. 305. What is the sum?

- Ans 1. Rs. 122000
 2. Rs. 12000
 3. Rs. 12500
 4. Rs. 14700

Question ID : 264330187894
Option 1 ID : 264330735505
Option 2 ID : 264330735507
Option 3 ID : 264330735506
Option 4 ID : 264330735504
Status : Answered
Chosen Option : 3

Q.3 Average weight of 17 students is 53 kg. After including a new student in that group the average weight rises by 2 kg. What is the weight of the new student?

- Ans 1. 90 kg
 2. 92 kg
 3. 93 kg
 4. 89 kg

Question ID : 264330190351
Option 1 ID : 264330744988
Option 2 ID : 264330744986
Option 3 ID : 264330744987
Option 4 ID : 264330744989
Status : Answered
Chosen Option : 4

Q.4 The ratio of three numbers is 5 : 6 : 7. If the sum of the three numbers is 540, then what is the smallest number among the three numbers?

- Ans 1. 540
 2. 180
 3. 210
 4. 150

Question ID : 264330191140
Option 1 ID : 264330747917
Option 2 ID : 264330747914
Option 3 ID : 264330747916
Option 4 ID : 264330747915
Status : Answered
Chosen Option : 4

Q.5 If a trader marks the price of an article 50 percent more than the cost price and allows a discount of 30 percent, then what is his profit percentage?

- Ans
- 1. 15 percent
 - 2. 5 percent
 - 3. 10 percent
 - 4. 8 percent

Question ID : 264330187870
Option 1 ID : 264330735408
Option 2 ID : 264330735411
Option 3 ID : 264330735410
Option 4 ID : 264330735409
Status : Answered
Chosen Option : 2

Q.6 A alone can complete a work in $20\frac{2}{3}$ days. A and B together can complete it in 5 days. How long will B alone take to complete the work?

- Ans
- 1. 15 days
 - 2. 18 days
 - 3. 22 days
 - 4. 20 days

Question ID : 264330191665
Option 1 ID : 264330750015
Option 2 ID : 264330750016
Option 3 ID : 264330750017
Option 4 ID : 264330750014
Status : Answered
Chosen Option : 4

Q.7 If $D:E = 3:2$ and $D - E = 9$, find the value of $D + E$.

- Ans
- 1. 44
 - 2. 40
 - 3. 47
 - 4. 45

Question ID : 264330191199
Option 1 ID : 264330748151
Option 2 ID : 264330748153
Option 3 ID : 264330748152
Option 4 ID : 264330748150
Status : Answered
Chosen Option : 4

Q.8 14 pumps working 8 hours a day can empty a completely filled reservoir in 18 days. How many such pumps working 12 hours a day will empty the same reservoir in 4 days ?

- Ans 1. 24
 2. 42
 3. 38
 4. 35

Question ID : 264330192486
Option 1 ID : 264330753298
Option 2 ID : 264330753301
Option 3 ID : 264330753300
Option 4 ID : 264330753299
Status : Answered
Chosen Option : 2

Q.9 Average runs of a player in 6 matches is 37. How much runs he must score in the next match to make his average 40?

- Ans 1. 58
 2. 69
 3. 54
 4. 55

Question ID : 264330187564
Option 1 ID : 264330734186
Option 2 ID : 264330734187
Option 3 ID : 264330734184
Option 4 ID : 264330734185
Status : Answered
Chosen Option : 1

Q.10 A person lent certain sum of money at the annual rate of 15 percent on simple interest and the interest received in 6 years is Rs. 800 less than the sum lent. What is the sum lent?

- Ans 1. Rs. 7200
 2. Rs. 4800
 3. Rs. 6000
 4. Rs. 8000

Question ID : 264330190381
Option 1 ID : 264330745108
Option 2 ID : 264330745107
Option 3 ID : 264330745106
Option 4 ID : 264330745109
Status : Answered
Chosen Option : 4

Q.11 What is the value of $48 - 12 \div 6 \times 3 + 26$?

Ans 1. 68

2. 60

3. 64

4. 52

Question ID : 264330187719

Option 1 ID : 264330734806

Option 2 ID : 264330734805

Option 3 ID : 264330734807

Option 4 ID : 264330734804

Status : Answered

Chosen Option : 1

Q.12 If the diameter of a hemisphere is 63 cm, then what is the volume of hemisphere?

Ans 1. 61324.5 cm^3

2. 65488.5 cm^3

3. 72654.5 cm^3

4. 69246.5 cm^3

Question ID : 264330187538

Option 1 ID : 264330734081

Option 2 ID : 264330734082

Option 3 ID : 264330734080

Option 4 ID : 264330734083

Status : Answered

Chosen Option : 4

Q.13 What is the value of $4200 \div 5 - 210 \times 7 + 21 \times 5$?

Ans 1. -635

2. -525

3. -1281

4. -645

Question ID : 264330191127

Option 1 ID : 264330747864

Option 2 ID : 264330747863

Option 3 ID : 264330747862

Option 4 ID : 264330747865

Status : Answered

Chosen Option : 2

Q.14 A chair is bought for Rs. 1500 and is sold at 25 percent loss. What is the selling price of the chair?

- Ans
- 1. Rs. 1225
 - 2. Rs. 1250
 - 3. Rs. 1175
 - 4. Rs. 1125

Question ID : 264330190355

Option 1 ID : 264330745002

Option 2 ID : 264330745005

Option 3 ID : 264330745003

Option 4 ID : 264330745004

Status : Answered

Chosen Option : 4

Q.15 The numerator of a fraction is increased by 88% and the denominator is increased by 55%. The value of the fraction becomes $\frac{1504}{775}$. What is the original fraction?

- Ans
- 1. $\frac{8}{5}$
 - 2. $\frac{2}{7}$
 - 3. $\frac{7}{2}$
 - 4. $\frac{5}{8}$

Question ID : 264330191154

Option 1 ID : 264330747971

Option 2 ID : 264330747972

Option 3 ID : 264330747973

Option 4 ID : 264330747970

Status : Answered

Chosen Option : 1

Q.16 A shopkeeper allows a discount of 18% on the marked price of an article such that the selling price is ₹ 574. Find the marked price of the article.

- Ans
- 1. ₹ 850
 - 2. ₹ 780
 - 3. ₹ 840
 - 4. ₹ 700

Question ID : 264330191678

Option 1 ID : 264330750068

Option 2 ID : 264330750069

Option 3 ID : 264330750066

Option 4 ID : 264330750067

Status : Answered

Chosen Option : 4

Q.17 What is the smallest number that is a multiple of 13, 15, 4, 21 and 2?

- Ans
- 1. 2378
 - 2. 3340
 - 3. 1580
 - 4. 5460

Question ID : 264330187742
Option 1 ID : 264330734896
Option 2 ID : 264330734898
Option 3 ID : 264330734897
Option 4 ID : 264330734899
Status : Answered
Chosen Option : 4

Q.18 Aman walks at the speed of 5 km/hr and reaches his school 28 minutes late. If he walks at 8 km/hr, then he reaches 35 minutes before the scheduled time. What is the distance of his school from his house?

- Ans
- 1. 14 km
 - 2. 12 km
 - 3. 10 km
 - 4. 16 km

Question ID : 264330187775
Option 1 ID : 264330735028
Option 2 ID : 264330735029
Option 3 ID : 264330735030
Option 4 ID : 264330735031
Status : Answered
Chosen Option : 1

Q.19 P sells a laptop to Q at a profit of 50 percent and Q sells it to R at a profit of 60 percent. What is the ratio of cost prices of P and R?

- Ans
- 1. 12 : 13
 - 2. 12 : 17
 - 3. 5 : 12
 - 4. 13 : 5

Question ID : 264330187808
Option 1 ID : 264330735161
Option 2 ID : 264330735163
Option 3 ID : 264330735162
Option 4 ID : 264330735160
Status : Answered
Chosen Option : 3

Q.20 Find the value of $256 \div 16 - 34 + 124 \div (6 + 12 \div 3 - 6)$

Ans 1. 13

2. 17

3. 11

4. 19

Question ID : 264330188080

Option 1 ID : 264330736249

Option 2 ID : 264330736250

Option 3 ID : 264330736248

Option 4 ID : 264330736251

Status : Answered

Chosen Option : 1

Section : Part-D-English

Q.1 Choose the word that means the same as the given word.

Preference

Ans 1. Tendency

2. Polar

3. Aversion

4. Gentle

Question ID : 264330186015

Option 1 ID : 264330728350

Option 2 ID : 264330728351

Option 3 ID : 264330728349

Option 4 ID : 264330728348

Status : Not Answered

Chosen Option : --

Q.2 Select the most appropriate antonym of the given word.

Novelty

Ans 1. Vintage

2. Stagnation

3. Creation

4. Pursue

Question ID : 264330186941

Option 1 ID : 264330731878

Option 2 ID : 264330731877

Option 3 ID : 264330731879

Option 4 ID : 264330731876

Status : Not Answered

Chosen Option : --

Q.3 In the following question, out of the given four alternatives, select the alternative which best expresses the meaning of the Idiom/Phrase.

The old Adam

- Ans**
- 1. The evil or reckless side of human nature
 - 2. An old strategy in action
 - 3. Beginning of a new journey
 - 4. A person with orthodox thinking

Question ID : 264330186754
Option 1 ID : 264330731165
Option 2 ID : 264330731166
Option 3 ID : 264330731164
Option 4 ID : 264330731167
Status : Not Answered
Chosen Option : --

Q.4 Identify the segment that contains a grammatical error. If there is no error, select 'No error'.

Because you / always look nicest / than anyone.

- Ans**
- 1. No error
 - 2. always look nicest
 - 3. Because you
 - 4. than anyone.

Question ID : 264330186529
Option 1 ID : 264330730311
Option 2 ID : 264330730309
Option 3 ID : 264330730308
Option 4 ID : 264330730310
Status : Not Answered
Chosen Option : --

Q.5 Improve the underlined part of the sentence. Choose 'No improvement' as an answer if the sentence is grammatically correct.

Exercise must be combine with a proper diet.

- Ans**
- 1. combined with
 - 2. combined by
 - 3. was combined with
 - 4. No improvement

Question ID : 264330185628
Option 1 ID : 264330726878
Option 2 ID : 264330726877
Option 3 ID : 264330726876
Option 4 ID : 264330726879
Status : Not Answered
Chosen Option : --

Q.6 Select the most appropriate antonym of the given word.

Naïve

- Ans
- 1. Confiding
 - 2. Besotted
 - 3. Expert
 - 4. Rookie

Question ID : 264330186543
Option 1 ID : 264330730362
Option 2 ID : 264330730361
Option 3 ID : 264330730363
Option 4 ID : 264330730360
Status : Not Answered
Chosen Option : --

Q.7 Select the word segment that substitutes (replaces) the bracketed word segment correctly and completes the sentence meaningfully. Select the option 'no correction required' if the sentence is correct as given.

As she woke up, the day seemed different to Rosemary (than the day before).

- Ans
- 1. No correction required
 - 2. from the day before
 - 3. from the day earlier
 - 4. then the day previous

Question ID : 264330186930
Option 1 ID : 264330731839
Option 2 ID : 264330731836
Option 3 ID : 264330731837
Option 4 ID : 264330731838
Status : Not Answered
Chosen Option : --

Q.8 Find the part of the given sentence that has an error in it. If there is no error, choose 'No error'.
You will certain pay for what you have done to your mother.

- Ans
- 1. done to your mother.
 - 2. No error
 - 3. pay for what you have
 - 4. You will certain

Question ID : 264330186149
Option 1 ID : 264330728862
Option 2 ID : 264330728863
Option 3 ID : 264330728861
Option 4 ID : 264330728860
Status : Not Answered
Chosen Option : --

Q.9 Select the most appropriate option for the given blank.

We should _____ their directions if we want to reach there.

- Ans
- 1. obey
 - 2. run
 - 3. mind
 - 4. follow

Question ID : 264330186653
Option 1 ID : 264330730781
Option 2 ID : 264330730782
Option 3 ID : 264330730783
Option 4 ID : 264330730780
Status : Not Answered
Chosen Option : --

Q.10 Improve the underlined part of the sentence. Choose 'No improvement' as an answer if the sentence is grammatically correct.

A male deer is calling a buck.

- Ans
- 1. are calls
 - 2. No improvement
 - 3. is called
 - 4. is call

Question ID : 264330186300
Option 1 ID : 264330729438
Option 2 ID : 264330729439
Option 3 ID : 264330729436
Option 4 ID : 264330729437
Status : Not Answered
Chosen Option : --

Q.11 Improve the underlined part of the sentence. Choose 'No improvement' as an answer if the sentence is grammatically correct.

The squirrels bury the peanuts beneath the snowy.

- Ans
- 1. No improvement
 - 2. under the snow
 - 3. under the snowiest
 - 4. under the snowier

Question ID : 264330186637
Option 1 ID : 264330730723
Option 2 ID : 264330730720
Option 3 ID : 264330730721
Option 4 ID : 264330730722
Status : Not Answered
Chosen Option : --

Q.12 Select the incorrectly spelt word from the given sentence.

Her thought of him was vage, nebulous, and taking many forms.

- Ans
- 1. nebulous
 - 2. forms
 - 3. thought
 - 4. vage

Question ID : 264330185831
Option 1 ID : 264330727650
Option 2 ID : 264330727651
Option 3 ID : 264330727648
Option 4 ID : 264330727649
Status : Not Answered
Chosen Option : --

Q.13 Choose the idiom/phrase that can substitute the highlighted group of words meaningfully.

I had to wake up in the middle of the night to **go to the toilet**.

- Ans
- 1. Spill the beans
 - 2. Answer the call of nature
 - 3. Lost cause
 - 4. Break a leg

Question ID : 264330186124
Option 1 ID : 264330728766
Option 2 ID : 264330728767
Option 3 ID : 264330728764
Option 4 ID : 264330728765
Status : Not Answered
Chosen Option : --

Q.14 Find the part of the given sentence that has an error in it. If there is no error, choose 'No error'.

Have a high fever early in pregnancy may increase the risk of certain birth defects.

- Ans
- 1. No error
 - 2. risk of certain birth defects.
 - 3. in pregnancy may increase the
 - 4. Have a high fever early

Question ID : 264330186151
Option 1 ID : 264330728871
Option 2 ID : 264330728870
Option 3 ID : 264330728869
Option 4 ID : 264330728868
Status : Not Answered
Chosen Option : --

Q.15 Select the sentence with no spelling errors.

- Ans 1. Its emotional and relational benefits are clear.
 2. Its emosional and relational benefits are clear.
 3. Its emotional and relationel benefits are clear.
 4. Its emotional and relationel benifits are clear.

Question ID : 264330186673
Option 1 ID : 264330730857
Option 2 ID : 264330730856
Option 3 ID : 264330730858
Option 4 ID : 264330730859
Status : Not Answered
Chosen Option : --

Comprehension:

Read the passage carefully and select the correct answer for the given blanks out of the four alternatives.

We are seeing other worrying trends. (1) _____ the 1970s, the rate of plastic production has grown (2) _____ than that of any other material. If historic growth trends continue, global (3) _____ of primary plastic is forecasted to reach 1,100 million tonnes by 2050. We have also seen a (4) _____ shift towards single-use plastic products, items that are meant to be thrown (5) _____ after a single short use.

SubQuestion No : 16

Q.16 Select the most appropriate option for blank (1)

- Ans 1. To
 2. Since
 3. By
 4. For

Question ID : 264330186052
Option 1 ID : 264330728488
Option 2 ID : 264330728489
Option 3 ID : 264330728491
Option 4 ID : 264330728490
Status : Not Answered
Chosen Option : --

Comprehension:

Read the passage carefully and select the correct answer for the given blanks out of the four alternatives.

We are seeing other worrying trends. (1) _____ the 1970s, the rate of plastic production has grown (2) _____ than that of any other material. If historic growth trends continue, global (3) _____ of primary plastic is forecasted to reach 1,100 million tonnes by 2050. We have also seen a (4) _____ shift towards single-use plastic products, items that are meant to be thrown (5) _____ after a single short use.

SubQuestion No : 17

Q.17 Select the most appropriate option for blank (2)

- Ans
- 1. fasten
 - 2. fast
 - 3. fastly
 - 4. faster

Question ID : 264330186053
Option 1 ID : 264330728495
Option 2 ID : 264330728493
Option 3 ID : 264330728492
Option 4 ID : 264330728494
Status : Not Answered
Chosen Option : --

Comprehension:

Read the passage carefully and select the correct answer for the given blanks out of the four alternatives.

We are seeing other worrying trends. (1) _____ the 1970s, the rate of plastic production has grown (2) _____ than that of any other material. If historic growth trends continue, global (3) _____ of primary plastic is forecasted to reach 1,100 million tonnes by 2050. We have also seen a (4) _____ shift towards single-use plastic products, items that are meant to be thrown (5) _____ after a single short use.

SubQuestion No : 18

Q.18 Select the most appropriate option for blank (3)

- Ans
- 1. production
 - 2. accommodation
 - 3. substance
 - 4. energy

Question ID : 264330186054
Option 1 ID : 264330728499
Option 2 ID : 264330728498
Option 3 ID : 264330728496
Option 4 ID : 264330728497
Status : Not Answered
Chosen Option : --

Comprehension:

Read the passage carefully and select the correct answer for the given blanks out of the four alternatives.

We are seeing other worrying trends. (1) _____ the 1970s, the rate of plastic production has grown (2) _____ than that of any other material. If historic growth trends continue, global (3) _____ of primary plastic is forecasted to reach 1,100 million tonnes by 2050. We have also seen a (4) _____ shift towards single-use plastic products, items that are meant to be thrown (5) _____ after a single short use.

SubQuestion No : 19

Q.19 Select the most appropriate option for blank (4)

- Ans
- 1. precious
 - 2. worrying
 - 3. earthy
 - 4. gloomy

Question ID : 264330186055
Option 1 ID : 264330728503
Option 2 ID : 264330728501
Option 3 ID : 264330728502
Option 4 ID : 264330728500
Status : Not Answered
Chosen Option : --

Comprehension:

Read the passage carefully and select the correct answer for the given blanks out of the four alternatives.

We are seeing other worrying trends. (1) _____ the 1970s, the rate of plastic production has grown (2) _____ than that of any other material. If historic growth trends continue, global (3) _____ of primary plastic is forecasted to reach 1,100 million tonnes by 2050. We have also seen a (4) _____ shift towards single-use plastic products, items that are meant to be thrown (5) _____ after a single short use.

SubQuestion No : 20

Q.20 Select the most appropriate option for blank (5)

- Ans
- 1. around
 - 2. away
 - 3. across
 - 4. of

Question ID : 264330186056
Option 1 ID : 264330728506
Option 2 ID : 264330728504
Option 3 ID : 264330728507
Option 4 ID : 264330728505
Status : Not Answered
Chosen Option : --

Section : Part-D-Hindi

Q.1 निम्नलिखित प्रश्न में, दिए गए चार विकल्पों में से, उस विकल्प का चयन करें जो दिए गए मुहावरे के अर्थ को सर्वश्रेष्ठ रूप से व्यक्त करता है।

डॉँवाडोल होना

- Ans
- 1. कमजोर हो जाना
 - 2. बात खुलना
 - 3. अस्थिर होना
 - 4. बुरी तरह हारना

Question ID : 264330189053

Option 1 ID : 264330739992

Option 2 ID : 264330739993

Option 3 ID : 264330739991

Option 4 ID : 264330739990

Status : Answered

Chosen Option : 1

Q.2 दिए गए वाक्य में रेखांकित शब्दों के लिए सही शब्दों वाले विकल्प का चयन करें।

बालक और बालिका एक साथ खेल रही हैं।

- Ans
- 1. बालक और बालिका एक साथ खेल रहे हैं।
 - 2. बालक और बालिका एक साथ खेल रहा है।
 - 3. बालक और बालिका एक साथ खेल रहे हो।
 - 4. परिवर्तन की आवश्यकता नहीं है।

Question ID : 264330188248

Option 1 ID : 264330736892

Option 2 ID : 264330736893

Option 3 ID : 264330736894

Option 4 ID : 264330736895

Status : Answered

Chosen Option : 1

Q.3 निम्नलिखित वाक्य में, उस वाक्यांश को पहचानिए जिसमें मात्राओं से संबंधित अशुद्धियाँ हैं। यदि कोई गलती नहीं है तो 'कोई त्रुटि नहीं है' का चुनाव कीजिए।
बढ़ती हुई जनसंख्या की उदरपूर्ति के लिए/ कृषि हेतु अधिक भूमि उपलब्ध कराने का लिए/ वनों का काटा जाना बहुत ही साधारण बात है।

- Ans
- 1. कृषि हेतु अधिक भूमि उपलब्ध कराने का लिए
 - 2. वनों का काटा जाना बहुत ही साधारण बात है
 - 3. कोई त्रुटि नहीं है
 - 4. बढ़ती हुई जनसंख्या की उदरपूर्ति के लिए

Question ID : 264330189789

Option 1 ID : 264330742795

Option 2 ID : 264330742796

Option 3 ID : 264330742797

Option 4 ID : 264330742794

Status : Answered

Chosen Option : 1

Q.4 निम्नलिखित वाक्य में रेखांकित भाग के लिए एक सार्थक शब्द ज्ञात कीजिए।

खुदा सब जगह है।

- Ans
- 1. सर्वव्यापी
 - 2. लौकिक
 - 3. निराकार
 - 4. अलौकिक

Question ID : 264330189130
Option 1 ID : 264330740285
Option 2 ID : 264330740282
Option 3 ID : 264330740284
Option 4 ID : 264330740283
Status : Answered
Chosen Option : 1

Q.5 दिए गए वाक्य में रेखांकित शब्द का विलोम शब्द ज्ञात कीजिए।

भारत में ज्यादातर लोग शाकाहारी हैं।

- Ans
- 1. शिक्षक
 - 2. मांसाहारी
 - 3. सामान्य
 - 4. क्रांति

Question ID : 264330190079
Option 1 ID : 264330743899
Option 2 ID : 264330743898
Option 3 ID : 264330743900
Option 4 ID : 264330743901
Status : Answered
Chosen Option : 2

Q.6 निम्नलिखित प्रश्न में, चार विकल्पों में से, उस विकल्प का चयन करें जो कोष्ठक में दिए गए शब्द के विलोम शब्द का सही विकल्प है।
संग्रह तथा इसके नमूनों को पूरी तरह से जानने में एक (कनिष्ठ) _____ संग्रहालय को कई वर्षों का समय लग सकता है।

- Ans
- 1. अवर
 - 2. ज्येष्ठ
 - 3. कनीय
 - 4. निम्नस्थ

Question ID : 264330189891
Option 1 ID : 264330743182
Option 2 ID : 264330743183
Option 3 ID : 264330743185
Option 4 ID : 264330743184
Status : Answered
Chosen Option : 2

Q.7 दिए गए वाक्य का वह भाग ज्ञात करें, जिसमें कोई त्रुटि है।

यह एक गहरी समस्या है जिसका उपाय निकालना ही होगा वरना अनर्थ हो जाएगा।

Ans

- 1. यह एक गहरी
- 2. निकालना ही होगा
- 3. वरना अनर्थ हो जाएगा।
- 4. समस्या है जिसका उपाय

Question ID : 264330189184

Option 1 ID : 264330740490

Option 2 ID : 264330740492

Option 3 ID : 264330740493

Option 4 ID : 264330740491

Status : Answered

Chosen Option : 1

Q.8 दिए गए वाक्य में उचित पर्यायवाची शब्द का चयन करके रिक्त स्थान की पूर्ति करें।

बारिश होते ही _____ (फूल) खिल उठे।

Ans

- 1. ध्वज
- 2. पुष्प
- 3. वर्षा
- 4. बगीचा

Question ID : 264330189448

Option 1 ID : 264330741495

Option 2 ID : 264330741496

Option 3 ID : 264330741494

Option 4 ID : 264330741497

Status : Answered

Chosen Option : 2

Q.9 दिए गए वाक्य में रेखांकित शब्दों के लिए सही शब्दों वाले विकल्प का चयन करें।

तुम बीस तारीख के दिन कहाँ रहोगे?

Ans

- 1. तुम बीस तारीख को कहाँ रहोगे?
- 2. तुम बीस तारीख ने कहाँ रहोगे?
- 3. परिवर्तन की आवश्यकता नहीं है।
- 4. तुम बीस तारीख में कहाँ रहोगे?

Question ID : 264330189144

Option 1 ID : 264330740338

Option 2 ID : 264330740340

Option 3 ID : 264330740341

Option 4 ID : 264330740339

Status : Answered

Chosen Option : 1

Q.10 दिए गए वाक्य में उचित पर्यायवाची शब्द का चयन करके रिक्त स्थान की पूर्ति करें।

_____ (संकट) आते ही कमज़ोर सबसे पहले भागता है।

- Ans
- 1. तन
 - 2. विधि
 - 3. विपत्ति
 - 4. शर्म

Question ID : 264330189196
Option 1 ID : 264330740537
Option 2 ID : 264330740534
Option 3 ID : 264330740535
Option 4 ID : 264330740536
Status : Answered
Chosen Option : 3

Q.11 निम्नलिखित प्रश्न में, दिए गए चार विकल्पों में से, उस विकल्प का चयन करें जो दिए गए मुहावरे के अर्थ को सर्वश्रेष्ठ रूप से व्यक्त करता है।

तू-तू मैं-मैं होना

- Ans
- 1. दूसरे व्यक्ति न सुनना
 - 2. अपनी बात ऊपर रखना
 - 3. मन भारी होना
 - 4. बहस हो जाना

Question ID : 264330188177
Option 1 ID : 264330736621
Option 2 ID : 264330736620
Option 3 ID : 264330736622
Option 4 ID : 264330736623
Status : Answered
Chosen Option : 4

Q.12 दिए गए वाक्य में रेखांकित शब्द के लिए सही वर्तनी ज्ञात कीजिए।
उनके सासन में दंगे हुए थे।

- Ans
- 1. शासन
 - 2. साशन
 - 3. शाशन
 - 4. सापन

Question ID : 264330188138
Option 1 ID : 264330736474
Option 2 ID : 264330736472
Option 3 ID : 264330736473
Option 4 ID : 264330736475
Status : Answered
Chosen Option : 1

Q.13 निम्नलिखित प्रश्न में, चार विकल्पों में से, उस विकल्प का चयन करें जो कोष्ठक में दिए गए शब्द के तत्सम रूप का सही विकल्प है।
पंचामृत में गंगाजल को (अमी) _____ माना गया है।

- Ans
- 1. आसान
 - 2. मुख्य
 - 3. अद्भुत
 - 4. अमृत

Question ID : 264330189561
Option 1 ID : 264330741928
Option 2 ID : 264330741926
Option 3 ID : 264330741929
Option 4 ID : 264330741927
Status : Answered
Chosen Option : 4

Q.14 निम्नलिखित प्रश्न में, चार विकल्पों में से, उस विकल्प का चयन करें जो रिक्त स्थान के लिए सही पुल्लिंग रूप वाला विकल्प हो।
मुझे _____ की सब्जी खाना बहुत पसंद है।

- Ans
- 1. मेथी
 - 2. भिन्डी
 - 3. पालक
 - 4. चने

Question ID : 264330189794
Option 1 ID : 264330742817
Option 2 ID : 264330742815
Option 3 ID : 264330742814
Option 4 ID : 264330742816
Status : Answered
Chosen Option : 3

Q.15 दिए गए वाक्य में रेखांकित भाग के लिए उचित सार्थक शब्द का चयन कीजिए।
वे मसूह में चलते हैं।

- Ans
- 1. हमूस
 - 2. सूहम
 - 3. मायुज
 - 4. समूह

Question ID : 264330189392
Option 1 ID : 264330741285
Option 2 ID : 264330741283
Option 3 ID : 264330741282
Option 4 ID : 264330741284
Status : Answered
Chosen Option : 4

Comprehension:

नीचे दिए गये गद्यांश में कुछ शब्द छोड़ दिये गए हैं। प्रत्येक अनुच्छेद के सामने चार विकल्प दिए गए हैं। इस गद्यांश को ध्यानपूर्वक पढ़ें और चारों विकल्पों में से सर्वोत्तम विकल्प चुनें।

मनुष्य एक सामाजिक प्राणी है और साथ ही उसमें विचारों को व्यक्त करने एवम् _____ को महसूस करने की शक्ति होती है। इसी कारण मनुष्य अकेला नहीं रह सकता। एक मनुष्य दूसरे मनुष्य अथवा किसी अन्य प्राणी की तरफ _____ होता है। उसे भावनात्मक रूप से अपना समझता है, बिना किसी रक्त संबंध के अपने दुःख-सुख उससे बाटता है और सदैव उसकी मदद करता है। ऐसे ही संबंध को दोस्ती अथवा मित्रता का _____ कहा जाता है। मित्रता का महत्व बहुत बड़ा है। जब भी व्यक्ति किसी अन्य के साथ स्वयं को परिपूर्ण समझे, उसके साथ उसकी तकलीफों को अपना समझे, अपने गम उससे कह सके, भले ही दोनों में न रक्त संबंध हो, न जातीय संबंध और न ही इंसानी सजीवता का संबंध लेकिन फिर भी वो भावनात्मक दृष्टि से उससे जुड़ा हुआ हो यही मित्रता का अर्थ है। मनुष्य एक ऐसा प्राणी है जो _____ नहीं रह सकता। उसे अपने दिल की बात कहने के लिए किसी न किसी साथी की _____ होती है फिर चाहे वो कोई इन्सान हो, जानवर हो या कोई निर्जीव सी वस्तु या फिर भगवान।

SubQuestion No : 16

Q.16 मनुष्य एक सामाजिक प्राणी है और साथ ही उसमें विचारों को व्यक्त करने एवम् _____ को महसूस करने की शक्ति होती है।

Ans

1. अनुशासित
2. जानकारी
3. भावनाओं
4. आविष्कार

Question ID : 264330189881

Option 1 ID : 264330743142

Option 2 ID : 264330743145

Option 3 ID : 264330743143

Option 4 ID : 264330743144

Status : Answered

Chosen Option : 3

Comprehension:

नीचे दिए गये गद्यांश में कुछ शब्द छोड़ दिये गए हैं। प्रत्येक अनुच्छेद के सामने चार विकल्प दिए गए हैं। इस गद्यांश को ध्यानपूर्वक पढ़ें और चारों विकल्पों में से सर्वोत्तम विकल्प चुनें।

मनुष्य एक सामाजिक प्राणी है और साथ ही उसमें विचारों को व्यक्त करने एवम् _____ को महसूस करने की शक्ति होती है। इसी कारण मनुष्य अकेला नहीं रह सकता। एक मनुष्य दूसरे मनुष्य अथवा किसी अन्य प्राणी की तरफ _____ होता है। उसे भावनात्मक रूप से अपना समझता है, बिना किसी रक्त संबंध के अपने दुःख-सुख उससे बाटता है और सदैव उसकी मदद करता है। ऐसे ही संबंध को दोस्ती अथवा मित्रता का _____ कहा जाता है। मित्रता का महत्व बहुत बड़ा है। जब भी व्यक्ति किसी अन्य के साथ स्वयं को परिपूर्ण समझे, उसके साथ उसकी तकलीफों को अपना समझे, अपने गम उससे कह सके, भले ही दोनों में न रक्त संबंध हो, न जातीय संबंध और न ही इंसानी सजीवता का संबंध लेकिन फिर भी वो भावनात्मक दृष्टि से उससे जुड़ा हुआ हो यही मित्रता का अर्थ है। मनुष्य एक ऐसा प्राणी है जो _____ नहीं रह सकता। उसे अपने दिल की बात कहने के लिए किसी न किसी साथी की _____ होती है फिर चाहे वो कोई इन्सान हो, जानवर हो या कोई निर्जीव सी वस्तु या फिर भगवान।

SubQuestion No : 17

Q.17 एक मनुष्य दूसरे मनुष्य अथवा किसी अन्य प्राणी की तरफ _____ होता है।

Ans

1. आकर्षित
2. उपलब्ध
3. प्रकाशित
4. जाता

Question ID : 264330189882

Option 1 ID : 264330743146

Option 2 ID : 264330743149

Option 3 ID : 264330743148

Option 4 ID : 264330743147

Status : Answered

Chosen Option : 1

Comprehension:

नीचे दिए गये गद्यांश में कुछ शब्द छोड़ दिये गए हैं। प्रत्येक अनुच्छेद के सामने चार विकल्प दिए गए हैं। इस गद्यांश को ध्यानपूर्वक पढ़ें और चारों विकल्पों में से सर्वोत्तम विकल्प चुनें।

मनुष्य एक सामाजिक प्राणी है और साथ ही उसमें विचारों को व्यक्त करने एवम् _____ को महसूस करने की शक्ति होती है। इसी कारण मनुष्य अकेला नहीं रह सकता। एक मनुष्य दूसरे मनुष्य अथवा किसी अन्य प्राणी की तरफ _____ होता है। उसे भावनात्मक रूप से अपना समझता है, बिना किसी रक्त संबंध के अपने दुःख-सुख उससे बाटता है और सदैव उसकी मदद करता है। ऐसे ही संबंध को दोस्ती अथवा मित्रता का _____ कहा जाता है। मित्रता का महत्व बहुत बड़ा है। जब भी व्यक्ति किसी अन्य के साथ स्वयं को परिपूर्ण समझे, उसके साथ उसकी तकलीफों को अपना समझे, अपने गम उससे कह सके, भले ही दोनों में न रक्त संबंध हो, न जातीय संबंध और न ही इंसानी सजीवता का संबंध लेकिन फिर भी वो भावनात्मक दृष्टि से उससे जुड़ा हुआ हो यही मित्रता का अर्थ है। मनुष्य एक ऐसा प्राणी है जो _____ नहीं रह सकता। उसे अपने दिल की बात कहने के लिए किसी न किसी साथी की _____ होती है फिर चाहे वो कोई इन्सान हो, जानवर हो या कोई निर्जीव सी वस्तु या फिर भगवान।

SubQuestion No : 18

Q.18 ऐसे ही संबंध को दोस्ती अथवा मित्रता का _____ कहा जाता है।

- Ans
- 1. कमाई
 - 2. मज़ाक
 - 3. संबंध
 - 4. भरमार

Question ID : 264330189883

Option 1 ID : 264330743151

Option 2 ID : 264330743152

Option 3 ID : 264330743153

Option 4 ID : 264330743150

Status : Answered

Chosen Option : 3

Comprehension:

नीचे दिए गये गद्यांश में कुछ शब्द छोड़ दिये गए हैं। प्रत्येक अनुच्छेद के सामने चार विकल्प दिए गए हैं। इस गद्यांश को ध्यानपूर्वक पढ़ें और चारों विकल्पों में से सर्वोत्तम विकल्प चुनें।

मनुष्य एक सामाजिक प्राणी है और साथ ही उसमें विचारों को व्यक्त करने एवम् _____ को महसूस करने की शक्ति होती है। इसी कारण मनुष्य अकेला नहीं रह सकता। एक मनुष्य दूसरे मनुष्य अथवा किसी अन्य प्राणी की तरफ _____ होता है। उसे भावनात्मक रूप से अपना समझता है, बिना किसी रक्त संबंध के अपने दुःख-सुख उससे बाटता है और सदैव उसकी मदद करता है। ऐसे ही संबंध को दोस्ती अथवा मित्रता का _____ कहा जाता है। मित्रता का महत्व बहुत बड़ा है। जब भी व्यक्ति किसी अन्य के साथ स्वयं को परिपूर्ण समझे, उसके साथ उसकी तकलीफों को अपना समझे, अपने गम उससे कह सके, भले ही दोनों में न रक्त संबंध हो, न जातीय संबंध और न ही इंसानी सजीवता का संबंध लेकिन फिर भी वो भावनात्मक दृष्टि से उससे जुड़ा हुआ हो यही मित्रता का अर्थ है। मनुष्य एक ऐसा प्राणी है जो _____ नहीं रह सकता। उसे अपने दिल की बात कहने के लिए किसी न किसी साथी की _____ होती है फिर चाहे वो कोई इन्सान हो, जानवर हो या कोई निर्जीव सी वस्तु या फिर भगवान।

SubQuestion No : 19

Q.19 मनुष्य एक ऐसा प्राणी है जो _____ नहीं रह सकता।

- Ans
- 1. अकेला
 - 2. सामाजिक
 - 3. सम्बंधित
 - 4. सरकारी

Question ID : 264330189884

Option 1 ID : 264330743155

Option 2 ID : 264330743154

Option 3 ID : 264330743157

Option 4 ID : 264330743156

Status : Answered

Chosen Option : 1

Comprehension:

नीचे दिए गये गद्यांश में कुछ शब्द छोड़ दिये गए हैं। प्रत्येक अनुच्छेद के सामने चार विकल्प दिए गए हैं। इस गद्यांश को ध्यानपूर्वक पढ़ें और चारों विकल्पों में से सर्वोत्तम विकल्प चुनें।

मनुष्य एक सामाजिक प्राणी है और साथ ही उसमें विचारों को व्यक्त करने एवम् _____ को महसूस करने की शक्ति होती है। इसी कारण मनुष्य अकेला नहीं रह सकता। एक मनुष्य दूसरे मनुष्य अथवा किसी अन्य प्राणी की तरफ _____ होता है। उसे भावनात्मक रूप से अपना समझता है, बिना किसी रक्त संबंध के अपने दुःख-सुख उससे बाटता है और सदैव उसकी मदद करता है। ऐसे ही संबंध को दोस्ती अथवा मित्रता का _____ कहा जाता है। मित्रता का महत्व बहुत बड़ा है। जब भी व्यक्ति किसी अन्य के साथ स्वयं को परिपूर्ण समझे, उसके साथ उसकी तकलीफों को अपना समझे, अपने गम उससे कह सके, भले ही दोनों में न रक्त संबंध हो, न जातीय संबंध और न ही इंसानी सजीवता का संबंध लेकिन फिर भी वो भावनात्मक दृष्टि से उससे जुड़ा हुआ हो यही मित्रता का अर्थ है। मनुष्य एक ऐसा प्राणी है जो _____ नहीं रह सकता। उसे अपने दिल की बात कहने के लिए किसी न किसी साथी की _____ होती है फिर चाहे वो कोई इन्सान हो, जानवर हो या कोई निर्जीव सी वस्तु या फिर भगवान।

SubQuestion No : 20

Q.20 अपने दिल की बात कहने के लिए किसी न किसी साथी की _____ होती है।

Ans 1. जरूरत

2. उपयोग

3. माध्यम

4. प्रमुख

Question ID : 264330189885

Option 1 ID : 264330743158

Option 2 ID : 264330743161

Option 3 ID : 264330743160

Option 4 ID : 264330743159

Status : Answered

Chosen Option : 1