

**Constable GD in Central Armed Police Forces CAPFs SSF Rifleman GD in Assam
Rifles Examination 2024**

| | |
|-----------|-------------------------------|
| Exam Date | 29/02/2024 |
| Exam Time | 9:00 AM - 10:00 AM |
| Subject | Constable GD Examination 2024 |

Section : Part-A-General Intelligence and Reasoning

Q.1 Which of the following groups of letters when sequentially placed from left to right will complete the given series?

wwwxyyzzwww_yyzzww_xyyzz_wxyy_z

- Ans**
- 1. yyxz
 - 2. xxwz
 - 3. zxyw
 - 4. wxyx

Q.2 In the following question, select the related letters from the given alternatives.

BD : WY :: FH : ?

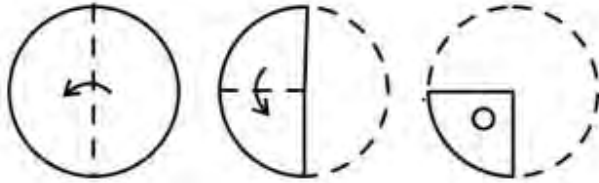
- Ans**
- 1. WA
 - 2. AC
 - 3. ZB
 - 4. VX

Q.3 A series is given with one term missing. Select the correct alternative from the given ones that will complete the series.

HMP, JOR, LQT, NSV, ?

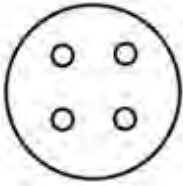
- Ans**
- 1. PWY
 - 2. PXV
 - 3. PUX
 - 4. WPX

Q.4 A paper is folded and cut as shown below. How will it appear when unfolded?

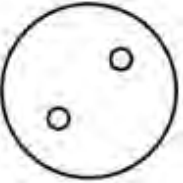


Ans

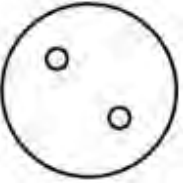
✓ 1.



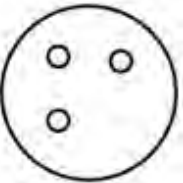
✗ 2.



✗ 3.



✗ 4.



Q.5 By Interchanging the given two numbers which of the following equation will be not correct?

1 and 9

✗ 1. $9 \times 2 - 1 + 8 = 1$

✗ 2. $9 \times 2 + 1 - 4 = 7$

✓ 3. $9 - 1 + 7 = -3$

✗ 4. $1 + 9 \times 3 - 4 = 8$

Q.6 In a certain code language, 'QUITE' is coded as '216', 'PROVE' is coded as '228'. What is the code for 'EXIST' in that code language?

✗ 1. 258

✗ 2. 252

✓ 3. 231

✗ 4. 256

Q.7 In the following question, select the missing number from the given series.

1095, 1072, 1049, 1026, 1003, ?

✗ 1. 970

✓ 2. 980

✗ 3. 995

✗ 4. 990

Q.8 Eight boys A, B, C, D, E, F, G and H are sitting around a circular table facing opposite to the centre (not necessarily in the same order). H is to the immediate right of A. H is not the immediate neighbour of either E or D. F is to the immediate left of B. G is the immediate neighbour of E. C is an immediate neighbour of both E and F. Who is sitting on the immediate right of C?

- Ans**
- 1. F
 - 2. E
 - 3. G
 - 4. H

Q.9 Select the option that is related to the fifth word in the same way as the fourth word is related to the third word and the second word is related to the first word.

SUN TEMPLE : GUJARAT :: GOL GUMBAZ : KARNATAKA :: AJANTA CAVES : ?

- Ans**
- 1. MAHARASHTRA
 - 2. BIHAR
 - 3. TELANGANA
 - 4. TAMILNADU

Q.10 If $37 D 18 E 84 F 21 = 51$ and $57 D 28 E 90 F 15 = 79$, then $14 D 17 E 8 F 4 = ?$

- Ans**
- 1. 15
 - 2. 24
 - 3. 29
 - 4. 31

Q.11 P is the mother of Q. Q is the sister of R. R is the brother of S. S is the husband of T. T is the sister of U. U is the wife of V.

How many female members are in family?

- Ans**
- 1. 4
 - 2. 1
 - 3. 3
 - 4. 2

Q.12 In the following question, select the missing number from the given series.

68, 69, 77, 104, 168, ?

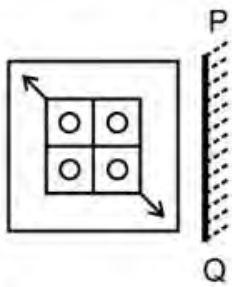
- Ans**
- 1. 280
 - 2. 300
 - 3. 293
 - 4. 308

Q.13 Arrange the given words in alphabetical order:

1. MYSTERY
2. MYSTICAL
3. MYTHOLOGY
4. MYSTERIOUS
5. MYTHICAL

- Ans
- 1. 4, 1, 2, 5, 3
 - 2. 4, 2, 5, 3, 1
 - 3. 4, 1, 5, 3, 2
 - 4. 4, 1, 2, 3, 5

Q.14 Select the correct mirror image of the given figure when the mirror PQ is placed to the right side of the figure.



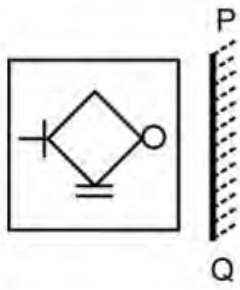
Ans

- 1.
- 2.
- 3.
- 4.

Q.15 In a certain code language, 'AHEM' is coded as 'XDBI'. What is the code for 'BETS' in that code language?

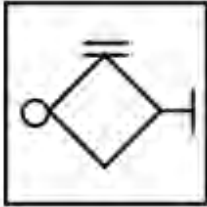
- Ans
- 1. YAPO
 - 2. YBQP
 - 3. YBQO
 - 4. YAQO

Q.16 Select the correct mirror image of the given figure when the mirror PQ is placed to the right side of the figure.

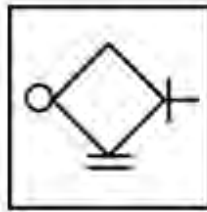


Ans

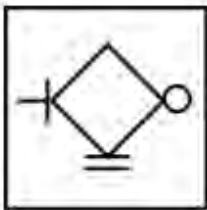
1.



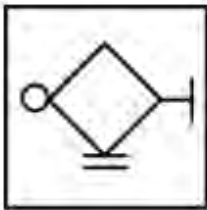
2.



3.



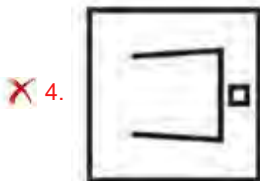
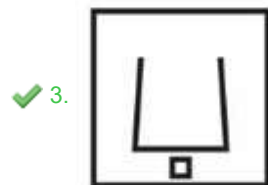
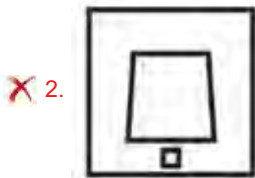
4.



Q.17 In the following question, select the figure which can be placed at the sign of question mark (?) from the given alternatives.



Ans



Q.18 Three Statements are given followed by two conclusions numbered I and II. Assuming the statements to be true, even if they seem to be at variance with commonly known facts, decide which of the conclusions logically follow(s) from the statements.

Statement I: No bridge is a mountain.

Statement II: Some mountains are monuments.

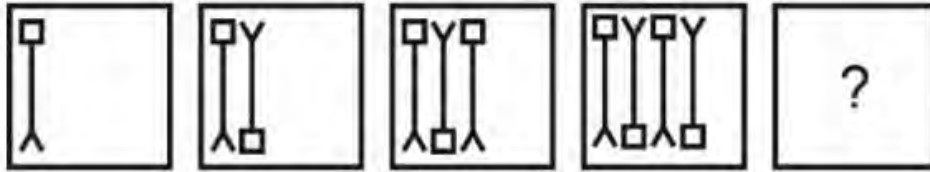
Statement III: All monuments are harbours.

Conclusion I: Some harbours are mountains.

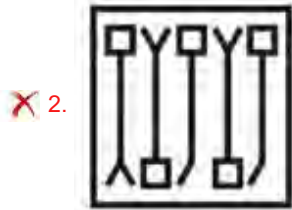
Conclusion II: No bridge is a monument.

- Ans**
- 1. Neither conclusion I nor II follows
 - 2. Only conclusion II follows
 - 3. Both conclusions I and II follow
 - 4. Only conclusion I follows

Q.19 In the following question, select the figure which can be placed at the sign of question mark (?) from the given alternatives.



Ans



Q.20 Seven friends M, N, O, P, Q, R, and S are sitting around a circular table facing towards the center. S and O are not sitting next to each other. R sits to the immediate left of M. M sits second to the left of S. Q is sitting between N and O. N is a neighbor of S. Who is sitting to the immediate left of N?

- Ans**
- 1. M
 - 2. S
 - 3. Q
 - 4. O

Section : Part-B-General Knowledge and General awareness

Q.1 Which sport term is not associated with Cricket?

- Ans**
- 1. Follow Through
 - 2. Hatrick
 - 3. Sprint
 - 4. Crease

Q.2 The state of _____ has launched 'Chavath e Bazaar' initiative in the month of September 2023.

- Ans
- 1. Bihar
 - 2. Jharkhand
 - 3. Madhya Pradesh
 - 4. Goa

Q.3 Writ petition can be filed in the Supreme Court of India under:

- Ans
- 1. Article 40
 - 2. Article 32
 - 3. Article 270
 - 4. Article 226

Q.4 Which of the following is NOT one of the eight core industries in India?

I. Coal

II. Crude Oil

- Ans
- 1. Only II
 - 2. Both I and II
 - 3. Only I
 - 4. Neither I nor II

Q.5 Article 19(1) (b) of the Indian Constitution is related to which of the following?

- Ans
- 1. Freedom of speech and expression
 - 2. To assemble peaceably and without arms
 - 3. To form associations or unions
 - 4. To move freely throughout the territory of India

Q.6 What is the term for the policy of replacing or substituting imports with domestic production?

- Ans
- 1. Import liberalization
 - 2. Import substitution
 - 3. International trade
 - 4. Export-led growth

Q.7 Renowned for her Odissi dancing style, _____ is an eminent Indian Classical dancer. She founded the Centre for Indian Classical Dances in New Delhi and was honoured with the Padma Bhushan in 1992.

- Ans
- 1. Mallika Sarabhai
 - 2. Sonal Mansingh
 - 3. Hema Malini
 - 4. Rukmini Devi Arundale

Q.8 Which sport is played by the Indian sportsperson Navjot Kaur?

- Ans
- 1. Badminton
 - 2. Lawn Tennis
 - 3. Table Tennis
 - 4. Hockey

Q.9 In which year, Alexander invaded India?

- Ans
- 1. 400 BC
 - 2. 126 BC
 - 3. 326 BC
 - 4. 550 BC

Q.10 The Ashtapadis of Jayadeva's Geeta Govinda are sung and danced in which of the following dance forms?

- Ans
- 1. Yakshgana
 - 2. Bharat Natyam
 - 3. Kathak
 - 4. Manipuri

Q.11 The Federation of the Indian Chamber of Commerce and Industries (FICCI) was formed in _____.

- Ans
- 1. 1927
 - 2. 1923
 - 3. 1920
 - 4. 1917

Q.12 Transportation and storage falls under which sector of economic activity?

- Ans
- 1. Primary sector
 - 2. Service sector
 - 3. Secondary sector
 - 4. Tertiary Sector

Q.13 Which former Prime Minister of India has been conferred Lifetime Achievement Honour in UK?

- Ans
- 1. Atal Bihari Vajpayee
 - 2. Inder Kumar Gujral
 - 3. Dr. Manmohan Singh
 - 4. Haradanahalli Doddegowda Deve Gowda

Q.14 The Ossuary feast festival is celebrated in which of the following states/UTs?

- Ans
- 1. Maharashtra
 - 2. Karnataka
 - 3. Madhya Pradesh
 - 4. Andaman and Nicobar Islands

Q.15 Who of the following was receiver of Bharat Ratna award?

I. Lata Mangeshkar

II. Bhupen Hazarika

- Ans
- 1. Neither I nor II
 - 2. Only I
 - 3. Only II
 - 4. Both I and II

Q.16 In chess, what is a "stalemate"?

- Ans
- 1. A player's king has no legal moves, resulting in a draw
 - 2. The very first move of the chess game
 - 3. A position when player's king is in check
 - 4. A winning position for one player

Q.17 Who has been recently appointed as the Vice Chief of the Indian Air Force in January 2023?

- Ans
- 1. Harjit Singh Arora
 - 2. Sandeep Singh
 - 3. Anil Khosla
 - 4. Amar Preet Singh

Q.18 According to Census 2011, which of the following North-Eastern states have the highest literacy rate?

- Ans
- 1. Nagaland
 - 2. Mizoram
 - 3. Assam
 - 4. Manipur

Q.19 Non-metals, are electronegative. They tend to form bonds by _____ electrons.

- Ans
- 1. substituting
 - 2. gaining
 - 3. subtracting two
 - 4. losing

Q.20 Which among the following country is not a neighbouring country of India?

- Ans
- 1. Myanmar
 - 2. Nepal
 - 3. Bhutan
 - 4. Japan

Q.1 Which of the following statements(s) is/are correct?

I. The average of 24 numbers is 22. If the average of first 9 numbers is 18, then average of remaining numbers will be 24.4.

II. Average of 149, 223, 520, 287 and 251 is 286.

Ans 1. Only II

2. Neither I nor II

3. Both I and II

4. Only I

Q.2 What is the value of $144 \times 2 + 130 \times 5 - 10 \times 2$?

Ans 1. 814

2. 1015

3. 918

4. 1206

Q.3 What should be added to 95 percent of 480 so that the obtained number becomes equal to 70 percent of 810?

Ans 1. 113

2. 111

3. 117

4. 108

Q.4 The average of 48 numbers is 78. If we subtract a number 'X' from each number, then the average becomes 57. What is the value of X?

Ans 1. 24

2. 22

3. 21

4. 26

Q.5 The price of a mobile phone is increased by 15%, and the new price is Rs. 11,500. What was the original price?

Ans 1. Rs. 12,000

2. Rs. 10,000

3. Rs. 10,700

4. Rs. 11,300

Q.6 A can complete $\frac{4}{5}$ part of a work in 10 days. B is 5 times as efficient as A. In how many days will B alone complete the same work?

Ans 1. 2.5 days

2. 2 days

3. 1.5 days

4. 3 days

Q.7 Marked price of an article is Rs. 9900. If a discount of 25 percent is given, then what is the selling price of the article?

- Ans 1. Rs. 7425
 2. Rs. 7555
 3. Rs. 7825
 4. Rs. 7215

Q.8 The perimeter of a rectangle is 22 cm and the length is 1 cm. What is the area of the rectangle?

- Ans 1. 11 cm^2
 2. 20 cm^2
 3. 10 cm^2
 4. 5 cm^2

Q.9 Find a single discount equivalent to two successive discounts of 25% and 10%.

- Ans 1. 31.9%
 2. 35.5%
 3. 32.5%
 4. 38.4%

Q.10 B alone can complete half of a work in 150 days. In 30 days what percentage of the work will be completed by B?

- Ans 1. 11 percent
 2. 15 percent
 3. 10 percent
 4. 12.5 percent

Q.11 If $a : b = 7 : 4$, then what is the value of $(6a + b) : (6a - b)$?

- Ans 1. 17 : 13
 2. 25 : 19
 3. 33 : 28
 4. 23 : 19

Q.12 Ramesh starts from a place J and reaches the place K in 28 hours. He travels $\frac{2}{5}$ distance at the speed of 10 km/hr and the remaining distance at the speed of 20 km/hr. What is the distance between J and K?

- Ans 1. 600 km
 2. 480 km
 3. 320 km
 4. 400 km

Q.13 Selling price of a table is Rs. 7686. If profit percentage is 22 percent, then what is the cost price of table?

- Ans 1. Rs. 6400
 2. Rs. 6500
 3. Rs. 6000
 4. Rs. 6300

Q.14 The difference between the compound interest (compounding half yearly) for 1 year and the simple interest for 1 year on a certain sum lent out at the annual rate of 40 percent is Rs. 360. What is the sum?

- Ans
- 1. Rs. 10000
 - 2. Rs. 9500
 - 3. Rs. 9000
 - 4. Rs. 12200

Q.15 The ratio of two numbers is 5 : 6. If their product is 1920, then what is the sum of both the numbers?

- Ans
- 1. 77
 - 2. 99
 - 3. 84
 - 4. 88

Q.16 $24 - [8 - \{6 - (10 - (8+5))\}]$ what is the value of this?

- Ans
- 1. 10
 - 2. 15
 - 3. 20
 - 4. 25

Q.17 A person sells pencil at a profit of 30 percent. If he reduces its selling price by Rs. 200, then he suffers a loss of 10 percent. What was the initial selling price of the pencil?

- Ans
- 1. Rs. 550
 - 2. Rs. 650
 - 3. Rs. 600
 - 4. Rs. 700

Q.18 A principal of Rs. 50000 is invested at simple interest for 8 years. If the per annum rate of interest is 12 percent, then what will be the amount after 8 years?

- Ans
- 1. Rs. 95000
 - 2. Rs. 85000
 - 3. Rs. 90000
 - 4. Rs. 98000

Q.19 What is the value of $\frac{88}{3}$ of $\frac{63}{56} \div \frac{102}{33}$ of $\frac{11}{34}$?

- Ans
- 1. 3
 - 2. 11
 - 3. 33
 - 4. 44

Q.20 For what value of A, 2545A is divisible by 8?

- Ans
- 1. 5
 - 2. 4
 - 3. 2
 - 4. 6

Section : Part-D-English

Q.1 Select the most appropriate word to fill in the blank.

I feel I am _____ raw for this new position.

- Ans
- 1. most
 - 2. two
 - 3. too
 - 4. to

Q.2 Improve the underlined part of the sentence. Choose 'No improvement' as an answer if the sentence is grammatically correct.

We're visited our grandparents on the weekend.

- Ans
- 1. visit our
 - 2. visits our
 - 3. visiting our
 - 4. No improvement

Q.3 Fill in the blank with the correct synonym of the word "glib":

The speaker delivered an _____ speech, captivating the audience with her articulate words and passionate delivery.

- Ans
- 1. effluent
 - 2. eloquent
 - 3. effulgent
 - 4. elaborate

Q.4 Select the most appropriate option for the given blank.

The neighbouring army has _____ a war on us.

- Ans
- 1. declared
 - 2. gave
 - 3. voiced
 - 4. said

Q.5 Select the incorrectly spelt word from the given sentence.

The aboriginal tribes of Australia are of a low-class black race, but generally pieceful and inoffensive in their habits.

- Ans
- 1. inoffensive
 - 2. aboriginal
 - 3. pieceful
 - 4. their

Q.6 Choose the idiom/phrase that can substitute the highlighted group of words meaningfully.

Finally, everything is **in public knowledge** and now people will decide the outcome.

- Ans
- 1. Break a leg
 - 2. Through thick and thin
 - 3. Bright spark
 - 4. Out in the open

Q.7 Choose the word that means the same as the given word.

Serve

- Ans
- 1. Attend
 - 2. Carrousel
 - 3. Carrier
 - 4. Abandon

Q.8 Find the part of the given sentence that has an error in it. If there is no error, choose 'No error'.

Regardless of our circumstances, we all need to live a happiest life.

- Ans
- 1. we all need to
 - 2. No error
 - 3. live a happiest life.
 - 4. Regardless of our circumstances

Q.9 Fill in the blank with the most appropriate option.

He _____ a bag of something into the boat, and then got in himself and sat down.

- Ans
- 1. flings
 - 2. throw
 - 3. throwed
 - 4. flung

Q.10 Find the part of the given sentence that has an error in it. If there is no error, choose 'No error'.
Either Sam or Ishita have invited her for the Christmas party.

- Ans
- 1. No error
 - 2. Either Sam or Ishita
 - 3. have invited her
 - 4. for the Christmas party.

Q.11 Improve the underlined part of the sentence. Choose 'No improvement' as an answer if the sentence is grammatically correct.

Mange is caused by a types of parasitic mite.

- Ans
- 1. types of parasitically
 - 2. type of parasitic
 - 3. No improvement
 - 4. types of parasite

Q.12 Correct the underlined part of the sentence. Choose 'No correction' as an answer if the sentence is grammatically correct.

Her shoes been too small.

- Ans
- 1. are too
 - 2. has too
 - 3. No correction
 - 4. is too

Q.13 Select the sentence with no spelling errors.

- Ans
- 1. Borman was joined on the mission by two other astronauts.
 - 2. Borman was joinned on the mission by two other astronaots.
 - 3. Borman was joined on the mision by two other astronaots.
 - 4. Borman was joined on the missoin by two other astronaots.

Q.14 Choose the most appropriate antonym of the underlined word.

She inspired us with a courage, a power, and a confidence in her and in our cause, which nothing could shake or daunt.

- Ans
- 1. Scare
 - 2. Baffle
 - 3. Dismay
 - 4. Cheer

Q.15 In the following question, out of the given four alternatives, select the alternative which best expresses the meaning of the Idiom/Phrase.

Lose by a neck

Ans 1. Lose by a small margin

2. To lose one's necklace

3. To stop someone from putting forward his views

4. To cut short a matter

Comprehension:

In the given passage, four options are given for each blank. Select the most appropriate option to complete the given passage, which also fits contextually as per the word given in the bracket.

Healthy eating is a key component of a (1.complete) _____ lifestyle. It's essential to maintain a balanced diet that includes a variety of fruits and vegetables, lean proteins, and whole grains. Such a diet not only provides the necessary nutrients for (2. ideal) _____ growth and overall well-being but also reduces the risk of (3. chronic) _____ conditions such as heart disease and diabetes. In addition to a nutritious diet, regular physical activity is (4. essential) _____ for maintaining good health. Staying (5. healthy) _____ and active can enhance both physical and mental well-being.

SubQuestion No : 16

Q.16 Fill in the blank (1) with the appropriate word from the options below:

Ans 1. wholesome

2. monotonous

3. sedentary

4. active

Comprehension:

In the given passage, four options are given for each blank. Select the most appropriate option to complete the given passage, which also fits contextually as per the word given in the bracket.

Healthy eating is a key component of a (1.complete) _____ lifestyle. It's essential to maintain a balanced diet that includes a variety of fruits and vegetables, lean proteins, and whole grains. Such a diet not only provides the necessary nutrients for (2. ideal) _____ growth and overall well-being but also reduces the risk of (3. chronic) _____ conditions such as heart disease and diabetes. In addition to a nutritious diet, regular physical activity is (4. essential) _____ for maintaining good health. Staying (5. healthy) _____ and active can enhance both physical and mental well-being.

SubQuestion No : 17

Q.17 Fill in the blank (2) with the appropriate word from the options below:

Ans 1. optimal

2. adequate

3. special

4. robust

Comprehension:

In the given passage, four options are given for each blank. Select the most appropriate option to complete the given passage, which also fits contextually as per the word given in the bracket.

Healthy eating is a key component of a (1.complete) _____ lifestyle. It's essential to maintain a balanced diet that includes a variety of fruits and vegetables, lean proteins, and whole grains. Such a diet not only provides the necessary nutrients for (2. ideal) _____ growth and overall well-being but also reduces the risk of (3. chronic) _____ conditions such as heart disease and diabetes. In addition to a nutritious diet, regular physical activity is (4. essential) _____ for maintaining good health. Staying (5. healthy) _____ and active can enhance both physical and mental well-being.

SubQuestion No : 18

Q.18 Fill in the blank (3) with the appropriate word from the options below:

- Ans**
- 1. unmedical
 - 2. indemnified
 - 3. infectious
 - 4. lifestyle

Comprehension:

In the given passage, four options are given for each blank. Select the most appropriate option to complete the given passage, which also fits contextually as per the word given in the bracket.

Healthy eating is a key component of a (1.complete) _____ lifestyle. It's essential to maintain a balanced diet that includes a variety of fruits and vegetables, lean proteins, and whole grains. Such a diet not only provides the necessary nutrients for (2. ideal) _____ growth and overall well-being but also reduces the risk of (3. chronic) _____ conditions such as heart disease and diabetes. In addition to a nutritious diet, regular physical activity is (4. essential) _____ for maintaining good health. Staying (5. healthy) _____ and active can enhance both physical and mental well-being.

SubQuestion No : 19

Q.19 Fill in the blank (4) with the appropriate word from the options below:

- Ans**
- 1. ardours
 - 2. colloquial
 - 3. vital
 - 4. innocuous

Comprehension:

In the given passage, four options are given for each blank. Select the most appropriate option to complete the given passage, which also fits contextually as per the word given in the bracket.

Healthy eating is a key component of a (1.complete) _____ lifestyle. It's essential to maintain a balanced diet that includes a variety of fruits and vegetables, lean proteins, and whole grains. Such a diet not only provides the necessary nutrients for (2. ideal) _____ growth and overall well-being but also reduces the risk of (3. chronic) _____ conditions such as heart disease and diabetes. In addition to a nutritious diet, regular physical activity is (4. essential) _____ for maintaining good health. Staying (5. healthy) _____ and active can enhance both physical and mental well-being.

SubQuestion No : 20

Q.20 Fill in the blank (5) with the appropriate word from the options below:

- Ans**
- 1. fit
 - 2. pertinent
 - 3. competent
 - 4. shape

Section : Part-D-Hindi

Q.1 दिए गए वाक्य में रेखांकित शब्द के लिए सही वर्तनी ज्ञात कीजिए।

वर्षा रितु की तो बात ही कुछ और है।

- Ans**
- 1. रीतु
 - 2. ऋतु
 - 3. रितू
 - 4. ऋतू

Q.2 दिए गए वाक्य में रेखांकित शब्दों के लिए सही शब्दों वाले विकल्प का चयन करें।

कोई भी आदमी की हालत ठीक नहीं है।

- Ans**
- 1. किसी भी आदमी की हालत ठीक नहीं है।
 - 2. किसने भी आदमी की हालत ठीक नहीं है।
 - 3. कैसी भी आदमी की हालत ठीक नहीं है।
 - 4. परिवर्तन की आवश्यकता नहीं है।

Q.3 निम्नलिखित प्रश्न में, दिए गए चार विकल्पों में से, उस विकल्प का चयन करें जो दिए गए मुहावरे के अर्थ को सर्वश्रेष्ठ रूप से व्यक्त करता है।

नजरबंद करना

- Ans
- 1. मर जाना
 - 2. दुख छुपाना
 - 3. प्रेम करना
 - 4. कैद करना

Q.4 निम्नलिखित वाक्य में, उस वाक्यांश को पहचानिए जिसमें मात्राओं या व्याकरण से संबंधित अशुद्धियाँ हैं। यदि कोई गलती नहीं है तो 'कोई त्रुटि नहीं है' का चुनाव कीजिए।
आलोचकों का मानना है कि यदि कोई वस्तु यथार्थ रूप में अच्छी है तो वह बिना किसी विज्ञापन के ही/ लोगों में बीच लोकप्रिय हो जाएगी।

- Ans
- 1. लोगों में बीच लोकप्रिय हो जाएगी
 - 2. अच्छी है तो वह बिना किसी विज्ञापन के ही
 - 3. कोई त्रुटि नहीं है
 - 4. आलोचकों का मानना है कि यदि कोई वस्तु यथार्थ रूप में

Q.5 दिए गए वाक्य में रेखांकित शब्द का तत्सम शब्द ज्ञात कीजिए।

क्या आज दूध वाला नहीं आया?

- Ans
- 1. दुग्ध
 - 2. दूधी
 - 3. द्रुत
 - 4. दूधि

Q.6 निम्नलिखित प्रश्न में, चार विकल्पों में से, उस विकल्प का चयन करें जो कोष्ठक में दिए गए शब्द के पर्यायवाची शब्द का सही विकल्प है।

पहले के समय में राजा लोगों के विभिन्न (परोक्ष) _____ सैनिक हुआ करते थे।

- Ans
- 1. गिरिक
 - 2. रासभ
 - 3. गुप्त
 - 4. वैनतेय

Q.7 दिए गए शब्द का पर्यायवाची ज्ञात कीजिए।

फूल

- Ans
- 1. प्रकाश
 - 2. जन
 - 3. पुष्प
 - 4. वानर

Q.8 दिए गए वाक्य का वह भाग ज्ञात करें, जिसमें कोई त्रुटि है। यदि कोई त्रुटि नहीं है, तो 'कोई त्रुटि नहीं है' चुनें।
लोग सफलता पाने पर साहस छोड़ देते हैं और दुबारा साहस नहीं करते।

- Ans
- 1. लोग सफलता पाने पर
 - 2. साहस छोड़ देते हैं
 - 3. कोई त्रुटि नहीं है
 - 4. और दुबारा साहस नहीं करते।

Q.9 निम्नलिखित प्रश्न में, चार विकल्पों में से, उस सही विकल्प का चयन करें जो वाक्यांश के लिए एक शब्द का विकल्प हो।
वह व्यक्ति जो छुटकारा दिलाता है

- Ans
- 1. त्रिवेणी
 - 2. त्रिगुण
 - 3. त्रिकुटी
 - 4. त्राता

Q.10 दिए गए वाक्य का वह भाग ज्ञात करें, जिसमें कोई त्रुटि है।

इस काम के करने में अगर आपको कष्ट होगा तो पहले बता दीजिए।

- Ans
- 1. करने में अगर
 - 2. आपको कष्ट होगा
 - 3. तो पहले बता दीजिए।
 - 4. इस काम के

Q.11 निम्नलिखित प्रश्न में, चार विकल्पों में से, उस विकल्प का चयन करें जो दी गई लोकोक्ति का सही अर्थ वाला विकल्प है।

मखमली जूते मारना

Ans 1. ऊपरी दिखावा करना

2. बहुत अधिक चिंता करना

3. मीठी बातों से लज्जित करना

4. लाभ के चक्कर में नुकसान कर लेना

Q.12 निम्नलिखित वाक्य में रेखांकित भाग के लिए एक सार्थक शब्द ज्ञात कीजिए।
यह कंपनी विदेश में समान बेचने का काम करती है।

Ans 1. आयात

2. मालवाही

3. व्यापार

4. निर्यात

Q.13 दिए गए वाक्य में उचित देशज-विदेशज शब्द का चयन करके रिक्त स्थान की पूर्ति कीजिए।

तुम्हारे कपड़ों पर _____ लगा है।

Ans 1. दाग

2. मोजा

3. चश्मा

4. बाग

Q.14 निम्नलिखित प्रश्न में, चार विकल्पों में से, उस विकल्प का चयन करें जो कोष्ठक में दिए गए शब्द के विलोम शब्द का सही विकल्प है।

हाल ही में आपके बारे में एक (निर्विवाद) _____ घटना का पता चला है।

Ans 1. प्रतिवाद

2. विवादास्पद

3. अविश्वास

4. अलिप्त

Q.15 दिए गए वाक्य में रेखांकित शब्द का विलोम शब्द ज्ञात कीजिए।

तुम तो बहुत बेशर्म हो?

Ans 1. शर्मीला

2. सब्र

3. बेमान

4. हुनरमंद

Comprehension:

नीचे दिए गये गद्यांश में कुछ शब्द छोड़ दिए गए हैं, प्रत्येक अनुच्छेद के सामने चार विकल्प दिए गए हैं। इस गद्यांश को ध्यानपूर्वक पढ़ें और चार विकल्पों में से सर्वोत्तम उत्तर वाला विकल्प चुनें।

जब किसी क्षेत्र के औसत मौसम में परिवर्तन आता है तो उसे _____ परिवर्तन कहते हैं। अर्थात् दशकों, सदियों या उससे अधिक के समय अंतराल में जलवायु में होने वाले दीर्घकालीन परिवर्तन को जलवायु परिवर्तन कहते हैं।

ग्लेशियरों का पिघलना, अतिवृष्टि, सूखा पड़ना, सुनामी आदि जलवायु परिवर्तन का ही _____ हैं। जलवायु परिवर्तन को किसी एक स्थान विशेष में भी महसूस किया जा सकता है एवं संपूर्ण विश्व में भी। यदि वर्तमान संदर्भ में बात करें तो इसका प्रभाव लगभग _____ में देखने को मिल रहा है। पृथ्वी के समग्र इतिहास में यहाँ की जलवायु कई बार परिवर्तित हुई है एवं जलवायु परिवर्तन की अनेक घटनाएँ सामने आई हैं। पृथ्वी का अध्ययन करने वाले _____ बताते हैं कि पृथ्वी का तापमान लगातार बढ़ता जा रहा है। पृथ्वी का तापमान बीते 100 वर्षों में 1 डिग्री फारेनहाइट तक बढ़ गया है। पृथ्वी के तापमान में यह परिवर्तन संख्या की दृष्टि से काफी कम हो सकता है, परंतु इस प्रकार के किसी भी परिवर्तन का _____ जाति पर बड़ा असर हो सकता है।

SubQuestion No : 16

Q.16 जब किसी क्षेत्र के औसत मौसम में परिवर्तन आता है तो उसे _____ परिवर्तन कहते हैं।

- Ans
- 1. क्षेत्र का
 - 2. मौसम
 - 3. जलवायु
 - 4. समय

Comprehension:

नीचे दिए गये गद्यांश में कुछ शब्द छोड़ दिए गए हैं, प्रत्येक अनुच्छेद के सामने चार विकल्प दिए गए हैं। इस गद्यांश को ध्यानपूर्वक पढ़ें और चार विकल्पों में से सर्वोत्तम उत्तर वाला विकल्प चुनें।

जब किसी क्षेत्र के औसत मौसम में परिवर्तन आता है तो उसे _____ परिवर्तन कहते हैं। अर्थात् दशकों, सदियों या उससे अधिक के समय अंतराल में जलवायु में होने वाले दीर्घकालीन परिवर्तन को जलवायु परिवर्तन कहते हैं।

ग्लेशियरों का पिघलना, अतिवृष्टि, सूखा पड़ना, सुनामी आदि जलवायु परिवर्तन का ही _____ हैं। जलवायु परिवर्तन को किसी एक स्थान विशेष में भी महसूस किया जा सकता है एवं संपूर्ण विश्व में भी। यदि वर्तमान संदर्भ में बात करें तो इसका प्रभाव लगभग _____ में देखने को मिल रहा है। पृथ्वी के समग्र इतिहास में यहाँ की जलवायु कई बार परिवर्तित हुई है एवं जलवायु परिवर्तन की अनेक घटनाएँ सामने आई हैं। पृथ्वी का अध्ययन करने वाले _____ बताते हैं कि पृथ्वी का तापमान लगातार बढ़ता जा रहा है। पृथ्वी का तापमान बीते 100 वर्षों में 1 डिग्री फारेनहाइट तक बढ़ गया है। पृथ्वी के तापमान में यह परिवर्तन संख्या की दृष्टि से काफी कम हो सकता है, परंतु इस प्रकार के किसी भी परिवर्तन का _____ जाति पर बड़ा असर हो सकता है।

SubQuestion No : 17

Q.17 ग्लेशियरों का पिघलना, अतिवृष्टि, सूखा पड़ना, सुनामी आदि जलवायु परिवर्तन का ही _____ हैं।

- Ans
- 1. परिवार
 - 2. हाल
 - 3. बात
 - 4. परिणाम

Comprehension:

नीचे दिए गये गद्यांश में कुछ शब्द छोड़ दिए गए हैं, प्रत्येक अनुच्छेद के सामने चार विकल्प दिए गए हैं। इस गद्यांश को ध्यानपूर्वक पढ़ें और चार विकल्पों में से सर्वोत्तम उत्तर वाला विकल्प चुनें।

जब किसी क्षेत्र के औसत मौसम में परिवर्तन आता है तो उसे _____ परिवर्तन कहते हैं। अर्थात् दशकों, सदियों या उससे अधिक के समय अंतराल में जलवायु में होने वाले दीर्घकालीन परिवर्तन को जलवायु परिवर्तन कहते हैं।

ग्लेशियरों का पिघलना, अतिवृष्टि, सूखा पड़ना, सुनामी आदि जलवायु परिवर्तन का ही _____ हैं। जलवायु परिवर्तन को किसी एक स्थान विशेष में भी महसूस किया जा सकता है एवं संपूर्ण विश्व में भी। यदि वर्तमान संदर्भ में बात करें तो इसका प्रभाव लगभग _____ में देखने को मिल रहा है। पृथ्वी के समग्र इतिहास में यहाँ की जलवायु कई बार परिवर्तित हुई है एवं जलवायु परिवर्तन की अनेक घटनाएँ सामने आई हैं। पृथ्वी का अध्ययन करने वाले _____ बताते हैं कि पृथ्वी का तापमान लगातार बढ़ता जा रहा है। पृथ्वी का तापमान बीते 100 वर्षों में 1 डिग्री फारेनहाइट तक बढ़ गया है। पृथ्वी के तापमान में यह परिवर्तन संख्या की दृष्टि से काफी कम हो सकता है, परंतु इस प्रकार के किसी भी परिवर्तन का _____ जाति पर बड़ा असर हो सकता है।

SubQuestion No : 18

Q.18 यदि वर्तमान संदर्भ में बात करें तो इसका प्रभाव लगभग _____ में देखने को मिल रहा है।

- Ans
- 1. हमारे राज्य में ही
 - 2. संपूर्ण विश्व
 - 3. कहीं पर भी नहीं
 - 4. सबके घर

Comprehension:

नीचे दिए गये गद्यांश में कुछ शब्द छोड़ दिए गए हैं, प्रत्येक अनुच्छेद के सामने चार विकल्प दिए गए हैं। इस गद्यांश को ध्यानपूर्वक पढ़ें और चार विकल्पों में से सर्वोत्तम उत्तर वाला विकल्प चुनें।

जब किसी क्षेत्र के औसत मौसम में परिवर्तन आता है तो उसे _____ परिवर्तन कहते हैं। अर्थात् दशकों, सदियों या उससे अधिक के समय अंतराल में जलवायु में होने वाले दीर्घकालीन परिवर्तन को जलवायु परिवर्तन कहते हैं।

ग्लेशियरों का पिघलना, अतिवृष्टि, सूखा पड़ना, सुनामी आदि जलवायु परिवर्तन का ही _____ हैं। जलवायु परिवर्तन को किसी एक स्थान विशेष में भी महसूस किया जा सकता है एवं संपूर्ण विश्व में भी। यदि वर्तमान संदर्भ में बात करें तो इसका प्रभाव लगभग _____ में देखने को मिल रहा है। पृथ्वी के समग्र इतिहास में यहाँ की जलवायु कई बार परिवर्तित हुई है एवं जलवायु परिवर्तन की अनेक घटनाएँ सामने आई हैं। पृथ्वी का अध्ययन करने वाले _____ बताते हैं कि पृथ्वी का तापमान लगातार बढ़ता जा रहा है। पृथ्वी का तापमान बीते 100 वर्षों में 1 डिग्री फारेनहाइट तक बढ़ गया है। पृथ्वी के तापमान में यह परिवर्तन संख्या की दृष्टि से काफी कम हो सकता है, परंतु इस प्रकार के किसी भी परिवर्तन का _____ जाति पर बड़ा असर हो सकता है।

SubQuestion No : 19

Q.19 पृथ्वी का अध्ययन करने वाले _____ बताते हैं कि पृथ्वी का तापमान लगातार बढ़ता जा रहा है।

- Ans
- 1. वैज्ञानिक
 - 2. मुसाफिर
 - 3. अधिकारी
 - 4. कार्यकारी

Comprehension:

नीचे दिए गये गद्यांश में कुछ शब्द छोड़ दिए गए हैं, प्रत्येक अनुच्छेद के सामने चार विकल्प दिए गए हैं। इस गद्यांश को ध्यानपूर्वक पढ़ें और चार विकल्पों में से सर्वोत्तम उत्तर वाला विकल्प चुनें।

जब किसी क्षेत्र के औसत मौसम में परिवर्तन आता है तो उसे _____ परिवर्तन कहते हैं। अर्थात् दशकों, सदियों या उससे अधिक के समय अंतराल में जलवायु में होने वाले दीर्घकालीन परिवर्तन को जलवायु परिवर्तन कहते हैं।

ग्लेशियरों का पिघलना, अतिवृष्टि, सूखा पड़ना, सुनामी आदि जलवायु परिवर्तन का ही _____ हैं। जलवायु परिवर्तन को किसी एक स्थान विशेष में भी महसूस किया जा सकता है एवं संपूर्ण विश्व में भी। यदि वर्तमान संदर्भ में बात करें तो इसका प्रभाव लगभग _____ में देखने को मिल रहा है। पृथ्वी के समग्र इतिहास में यहाँ की जलवायु कई बार परिवर्तित हुई है एवं जलवायु परिवर्तन की अनेक घटनाएँ सामने आई हैं। पृथ्वी का अध्ययन करने वाले _____ बताते हैं कि पृथ्वी का तापमान लगातार बढ़ता जा रहा है। पृथ्वी का तापमान बीते 100 वर्षों में 1 डिग्री फारेनहाइट तक बढ़ गया है। पृथ्वी के तापमान में यह परिवर्तन संख्या की दृष्टि से काफी कम हो सकता है, परंतु इस प्रकार के किसी भी परिवर्तन का _____ जाति पर बड़ा असर हो सकता है।

SubQuestion No : 20

Q.20 इस प्रकार के किसी भी परिवर्तन का _____ जाति पर बड़ा असर हो सकता है।

- Ans
- 1. कुछ
 - 2. जानवरों
 - 3. किसी
 - 4. मानव