

Exam Date	25/11/2021
Exam Time :	4:00 PM - 5:30 PM
Subject	Constable GD 2021

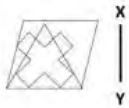
Section : Part A General Intelligence and Reasoning

Q.1 एक निश्चित कूट भाषा में, GRAPES को 66 के रूप में लिखा जाता है। उसी भाषा में PRAISE को किस रूप में लिखा जाएगा?

- Ans
- 1. 69
  - 2. 66
  - 3. 67
  - 4. 68

Question ID : 65497836475  
 Status : Answered  
 Chosen Option : 4


Q.2 Select the correct mirror image of the given figure when the mirror is placed at XY.



- Ans
- 1.
  - 2.
  - 3.
  - 4.

Question ID : 65497836477  
 Status : Answered  
 Chosen Option : 3

Q.3 वर्गों के उस समूह का चयन करें जिनके बीच के संबंध को निम्नांकित वेन आरेख द्वारा सबसे अधिक उचित तरीके से दर्शाया गया है।



- Ans
- 1. भारत, एशिया, बांग्लादेश
  - 2. मक्का, चावल, गाजर
  - 3. प्राकृतिक संख्याएँ, पूर्णांक, परिमेय संख्याएँ
  - 4. मानव, पुरुष, राजनेता

Question ID : 65497836486  
Status : Answered  
Chosen Option : 3

Q.4 Select the letter-cluster from among the given options that can replace the question mark (?) in the following series.

BZE, CWG, ESI, ?, LHM

- Ans
- 1. HNK
  - 2. HMK
  - 3. GNJ
  - 4. IML

Question ID : 65497836483  
Status : Answered  
Chosen Option : 1

Q.5 अक्षरों के उस संयोजन का चयन करें जिसे दी गई श्रृंखला में रिक्त स्थानों पर क्रमिक रूप से रखने पर श्रृंखला पूर्ण हो जाएगी।

S\_P\_\_M\_S\_MP\_

- Ans
- 1. MSPSSS
  - 2. PSMSSS
  - 3. MSSPSS
  - 4. PSMPPS

Question ID : 65497836471  
Status : Answered  
Chosen Option : 3

Q.6 चार अक्षर-समूह दिए गए हैं, जिनमें से तीन किसी तरह से एक समान हैं और एक भिन्न है। उस अक्षर-समूह का चयन करें जो भिन्न है।

- Ans
- 1. TVX
  - 2. GJL
  - 3. BDF
  - 4. PRT

Question ID : 65497836474  
Status : Answered  
Chosen Option : 2

Q.7 उस विकल्प का चयन करें जो चौथी संख्या से उसी प्रकार संबंधित है, जिस प्रकार पहली संख्या दूसरी संख्या से संबंधित है।

625 : 25 :: ? : 35

Ans  1. 1025

2. 875

3. 756

4. 927

Question ID : 65497836479

Status : Marked For Review

Chosen Option : 3

Q.8 Select the number from among the given options that can replace the question mark (?) in the following series.

3, 4, 8, 17, 33, ?

Ans  1. 58

2. 56

3. 49

4. 69

Question ID : 65497836476

Status : Answered

Chosen Option : 1

Q.9 उस विकल्प का चयन करें, जिसमें दी गई संख्याओं के बीच वही संबंध है, जो दिए गए समुच्चय की संख्याओं के बीच है।

145, 5, 29

Ans  1. 180, 16, 30

2. 160, 20, 6

3. 224, 14, 16

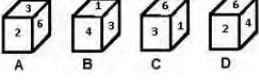
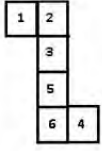
4. 125, 10, 15

Question ID : 65497836489

Status : Answered

Chosen Option : 3

Q.10 उस बक्से का चयन करें, जिसे निम्नांकित पत्रक (शीट) को रेखाओं पर मोड़ने पर प्राप्त किया जा सकता है।



- Ans
- 1. केवल B
  - 2. A और D
  - 3. A और C
  - 4. केवल D

Question ID : 65497836481  
Status : Answered  
Chosen Option : 4

Q.11 सात मित्र एक वृत्ताकार मेज पर केंद्र की ओर मुंह किए हुए बैठे हैं। A, B के बाएँ दूसरे स्थान पर बैठा है। C, B और G के बीच बैठा है। D, C के बाएँ दूसरे स्थान पर बैठा है। E जो G के दाएँ दूसरे स्थान पर बैठा है, A और F के बीच बैठा है। G के बाएँ दूसरे स्थान पर कौन बैठा है?

- Ans
- 1. D
  - 2. A
  - 3. E
  - 4. B

Question ID : 65497836478  
Status : Answered  
Chosen Option : 4

Q.12 एक निश्चित कूट भाषा में, 'NOSE' को 'QPVF' के रूप में लिखा जाता है और 'HAND' को 'KBQE' के रूप में लिखा जाता है। उसी भाषा में 'FACE' को किस रूप में लिखा जाएगा?

- Ans
- 1. JCEE
  - 2. KCFF
  - 3. LBFE
  - 4. IBFF

Question ID : 65497836468  
Status : Answered  
Chosen Option : 4

Q.13 यदि '+' और '-' तथा संख्या '5' और '7' (अंक नहीं) को आपस में बदल दिया जाए, तो निम्नलिखित व्यंजक का मान कितना होगा?

$$18 - 20 \div 7 \times (15 + 5) + 3$$

- Ans
- 1. 12
  - 2. 28
  - 3. 35
  - 4. 47

Question ID : 65497836480  
Status : Answered  
Chosen Option : 4

Q.14 एक टेलीविजन को ₹8,820 के मूल्य पर बेचने से 12% लाभ अर्जित हुआ। यदि टेलीविजन को 24% की हानि पर बेचा जाता है, तो उसका विक्रय मूल्य क्या होगा?

- Ans
- 1. ₹6,205
  - 2. ₹5,940
  - 3. ₹5,985
  - 4. ₹6,930

Question ID : 65497836490  
Status : Answered  
Chosen Option : 3

Q.15 चार मित्र K, L, M और N एक पंक्ति में बैठे हैं, और उनके मुँह दक्षिण दिशा की ओर हैं। L और M दो अंतिम छोरों पर बैठे हैं। K, L और N के बीच बैठा है और M के दाएँ दूसरा है। K के ठीक बाएँ कौन बैठा है?

- Ans
- 1. L
  - 2. M
  - 3. K
  - 4. N

Question ID : 65497836485  
Status : Answered  
Chosen Option : 4

Q.16 दिए गए कथनों और निष्कर्षों को ध्यानपूर्वक पढ़ें। कथनों में दी गई जानकारी को सत्य मानते हुए विचार करें, भले ही वह सामान्यतः ज्ञात तथ्यों से भिन्न प्रतीत होती हो, और तय करें कि दिए गए निष्कर्षों में से कौन-सा/से कथनों का तार्किक रूप से पालन करता है/करते हैं।

कथन:

सभी गीतकार मॉर्निंग-वाकर हैं।  
कोई लेखाकार स्नातक नहीं है।  
सभी मॉर्निंग-वाकर लेखाकार हैं।

निष्कर्ष:

- I. कोई गीतकार स्नातक नहीं है।
- II. कुछ गीतकार स्नातक हैं।

- Ans
- 1. केवल निष्कर्ष II पालन करता है।
  - 2. केवल निष्कर्ष I पालन करता है।
  - 3. न तो निष्कर्ष I और न ही II पालन करता है।
  - 4. या तो निष्कर्ष I या II पालन करता है।

Question ID : 65497836488  
Status : Answered  
Chosen Option : 2

Q.17 Select the option that is related to the third letter-cluster in the same way as the second letter-cluster is related to the first letter-cluster.

GPHD : KTLH :: SDFG : ?

- Ans
- 1. VHKM
  - 2. UHJL
  - 3. XGJL
  - 4. WHJK

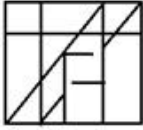
Question ID : 65497836467  
Status : Answered  
Chosen Option : 4

**Q.18** Select the option in which the given figure is embedded (rotation is NOT allowed).

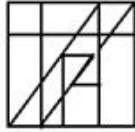


Ans

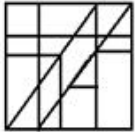
1.



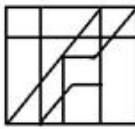
2.



3.



4.




Question ID : 65497836482

Status : Answered

Chosen Option : 2

**Q.19** Select the figure from among the given options that can replace the question mark (?) in the following series.



Ans

1.



2.



3.



4.



Question ID : 65497836473

Status : Answered

Chosen Option : 4

Q.20 एक संयुक्त परिवार में 8 सदस्य P, Q, R, S, T, U, V और W हैं। Q, S का भाई है। V, Q और R का बेटा है। S, U का भाई है। W, S और T की बेटी है। P, V की पत्नी है। R का संबंध P के साथ किस रूप में है?

- Ans
- 1. चाची
  - 2. सास
  - 3. बहन
  - 4. माँ

Question ID : 65497836469  
Status : Answered  
Chosen Option : 2

Q.21 जिस प्रकार 'ऑस्ट्रेलिया' 'कैनबरा' से संबंधित है, उसी प्रकार 'फ्रांस' ' \_\_\_\_\_ ' से संबंधित है।

- Ans
- 1. रोम
  - 2. जकार्ता
  - 3. मास्को
  - 4. पेरिस

Question ID : 65497836484  
Status : Answered  
Chosen Option : 4

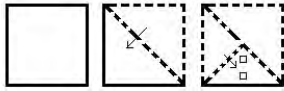
Q.22 वह सही विकल्प चुनें, जो दिए गए शब्दों के उस सही क्रम को दर्शाता है, जिस क्रम में ये शब्द अंग्रेजी शब्दकोश में दिखाई देते हैं।

1. Nebulous
2. Necessary
3. Necrosis
4. Nectarine
5. Negative

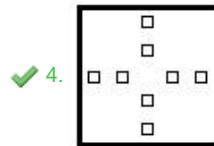
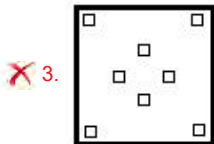
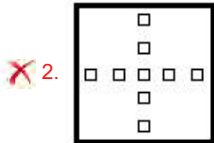
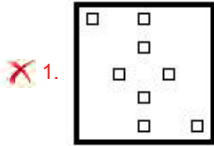
- Ans
- 1. 1, 2, 3, 4, 5
  - 2. 1, 3, 2, 4, 5
  - 3. 3, 2, 5, 4, 1
  - 4. 5, 4, 2, 3, 1

Question ID : 65497836470  
Status : Answered  
Chosen Option : 1

**Q.23** The sequence of folding a piece of paper and the manner in which the folded paper has been cut is shown in the following figures. How would this paper look when unfolded?



Ans



Question ID : 65497836491  
 Status : Answered  
 Chosen Option : 2

**Q.24** Select the number from among the given options that can replace the question mark (?) in the following series.

100, 96, 88, 76, 60, ?

- Ans  1. 38  
 2. 40  
 3. 35  
 4. 20

Question ID : 65497836472  
 Status : Answered  
 Chosen Option : 2

**Q.25** एक निश्चित कूट भाषा में, 'DECK' को 'WVXP' लिखा जाता है, और 'CLAIM' को 'XOZRN' लिखा जाता है। उसी कूट भाषा में 'MASCOT' को किस प्रकार लिखा जाएगा?

- Ans  1. NZHXLG  
 2. OZHXMG  
 3. NZGXKG  
 4. NZHYKH

Question ID : 65497836487  
 Status : Answered  
 Chosen Option : 1



Q.1 कोलकाता में साल्ट लेक स्टेडियम का नामकरण किसके नाम पर किया गया है?

- Ans
- 1. नेताजी सुभाष चंद्र बोस
  - 2. स्वामी विवेकानंद
  - 3. गोस्टो पॉल
  - 4. ज्योति बसु

Question ID : 65497836492  
Status : Answered  
Chosen Option : 2

Q.2 युद्ध क्षेत्र में अपने दुश्मनों पर जीत का जश्न मनाने के लिए, नागालैंड की चांग जनजाति कौन-सा नृत्य करती है?

- Ans
- 1. चेराव
  - 2. चांग लो
  - 3. नोंगक्रेम
  - 4. भोरताल

Question ID : 65497836506  
Status : Not Attempted and Marked For Review  
Chosen Option : --

Q.3 निम्नलिखित में से किन राज्यों में 5वें आयुर्वेद दिवस पर दो आयुर्वेद संस्थान आरंभ किए गए थे?

- Ans
- 1. राजस्थान और गुजरात
  - 2. महाराष्ट्र और कर्नाटक
  - 3. पंजाब और हरियाणा
  - 4. उत्तर प्रदेश और आंध्र प्रदेश

Question ID : 65497836500  
Status : Not Answered  
Chosen Option : --

Q.4 नवंबर 2020 में कक्षा (ऑर्बिट) में लॉन्च किए गए स्पेसएक्स कू ड्रैगन अंतरिक्ष यान को इसके चालक दल ने \_\_\_\_\_ नाम दिया था।

- Ans
- 1. पर्सिस्टेंस
  - 2. रेसिलिएंस
  - 3. एन्ड्योरेंस
  - 4. पेर्सिवेरन्स

Question ID : 65497836511  
Status : Answered  
Chosen Option : 4

Q.5 किस राज्य सरकार ने नवंबर 2020 में छोटे व्यापारियों और कारीगरों को ब्याज मुक्त ऋण प्रदान करने के लिए 'जगनन्ना थोड्डू' योजना शुरू की थी?

- Ans
- 1. आंध्र प्रदेश
  - 2. केरल
  - 3. तेलंगाना
  - 4. पश्चिम बंगाल

Question ID : 65497836497  
Status : Answered  
Chosen Option : 1

Q.6 चिल्का झील जोकि भारत की सबसे बड़ी खारे पानी की झील है, किस राज्य में स्थित है?

- Ans
- 1. आंध्र प्रदेश
  - 2. पश्चिम बंगाल
  - 3. ओडिशा
  - 4. छत्तीसगढ़

Question ID : 65497836503  
Status : Answered  
Chosen Option : 3

Q.7 1968 में भारत सरकार द्वारा प्रदत्त साहित्य अकादमी अध्येतावृत्ति पाने वाले प्रथम व्यक्ति कौन थे?

- Ans
- 1. सी. नारायण रेड्डी
  - 2. एस. राधाकृष्णन
  - 3. वी.एस. नायपॉल
  - 4. एस.एल. भयरप्पा

Question ID : 65497836509  
Status : Not Attempted and Marked For Review  
Chosen Option : --

Q.8 अगस्त 2020 में, केंद्र सरकार ने ट्रांसजेंडर व्यक्तियों (अधिकारों का संरक्षण) अधिनियम, 2019 की धारा \_\_\_\_\_ द्वारा प्रदत्त अधिकारों का प्रयोग करके ट्रांसजेंडर लोगों के लिए राष्ट्रीय परिषद का गठन किया है।

- Ans
- 1. 16
  - 2. 22
  - 3. 25
  - 4. 18

Question ID : 65497836496  
Status : Not Answered  
Chosen Option : --

Q.9 हसदेव और जोक नदियाँ भारत के किस राज्य में पाई जाती हैं?

- Ans
- 1. अरुणाचल प्रदेश
  - 2. गोवा
  - 3. छत्तीसगढ़
  - 4. हरियाणा

Question ID : 65497836513  
Status : Answered  
Chosen Option : 1

Q.10 ज्ञानपीठ पुरस्कार पहली बार किस वर्ष में प्रदान किया गया था?

- Ans
- 1. 1957
  - 2. 1965
  - 3. 1961
  - 4. 1963

Question ID : 65497836504  
Status : Not Attempted and Marked For Review  
Chosen Option : --

Q.11 अंतिम शुंग शासक की हत्या उसके मंत्री वासुदेव ने की थी, जिसने आगे चलकर \_\_\_\_\_ वंश की स्थापना की।

- Ans
- 1. कोरवी
  - 2. कण्व
  - 3. काकतीय
  - 4. कलचुरी

Question ID : 65497836516  
Status : Answered  
Chosen Option : 2

Q.12 'महानवमी डिब्बा' का ऐतिहासिक महत्व निम्नलिखित में से किस राजवंश से जुड़ा है?

- Ans
- 1. चोहान
  - 2. चोल
  - 3. विजयनगर
  - 4. पांड्य

Question ID : 65497836493  
Status : Answered  
Chosen Option : 4

Q.13 ड्यूटेरियम और ट्रिटियम निम्न हैं:

- Ans
- 1. हाइड्रोजन के समस्थानिक
  - 2. कार्बन के समस्थानिक
  - 3. यूरेनियम के समस्थानिक
  - 4. टाइटेनियम के समस्थानिक

Question ID : 65497836498  
Status : Not Attempted and Marked For Review  
Chosen Option : --

Q.14 निम्नलिखित में से किसने प्रसिद्ध कोह-ए-नूर हीरा और शाहजहाँ के रत्न जड़ित मयूर सिंहासन को छीन लिया?

- Ans
- 1. मुहम्मद शाह
  - 2. रंजीत सिंह
  - 3. शाह आलम द्वितीय
  - 4. नादिर शाह

Question ID : 65497836494  
Status : Answered  
Chosen Option : 4

Q.15 निम्नलिखित से किस सूक्ष्मजीव के कारण साइट्रस कैंकर होता है?

- Ans
- 1. विषाणु (वायरस)
  - 2. जीवाणु (बैक्टीरिया)
  - 3. कवक
  - 4. प्रोटोजोआ

Question ID : 65497836508  
Status : Not Attempted and Marked For Review  
Chosen Option : --

Q.16 प्रधान मंत्री नरेंद्र मोदी ने भारत में नोटबंदी की घोषणा किस वर्ष की थी?

- Ans
- 1. 2018
  - 2. 2016
  - 3. 2014
  - 4. 2012

Question ID : 65497836512  
Status : Answered  
Chosen Option : 2

Q.17 2011 की जनगणना के अनुसार, निम्नलिखित में से किस राज्य में लिंग अनुपात (प्रति 1000 पुरुषों की तुलना में महिलाएँ) 1000 से अधिक है?

- Ans
- 1. महाराष्ट्र
  - 2. बिहार
  - 3. राजस्थान
  - 4. केरल

Question ID : 65497836501  
Status : Answered  
Chosen Option : 4

Q.18 भारत के संविधान की प्रस्तावना में निम्नलिखित में से कौन सा शब्द सम्मिलित नहीं है?

- Ans
- 1. संप्रभु (Sovereign)
  - 2. न्याय (Justice)
  - 3. बंधुता (Fraternity)
  - 4. पूँजीवादी (Capitalist)

Question ID : 65497836495  
Status : Answered  
Chosen Option : 4

Q.19 निम्नलिखित में से कौन सा जहरीला पौधा नहीं है?

- Ans
- 1. नेरियम ओलियंडर
  - 2. कैलोट्रोपिस
  - 3. पार्थेनियम
  - 4. ड्रेसीना

Question ID : 65497836507  
Status : Answered  
Chosen Option : 2

Q.20 आर्थिक मामलों की कैबिनेट समिति (CCEA) ने रबी मार्केटिंग अवधि 2022-23 के लिए गेहूँ का न्यूनतम समर्थन मूल्य (MSP) \_\_\_\_\_ प्रति क्विंटल निर्धारित किया है।

- Ans
- 1. ₹2,015
  - 2. ₹1,995
  - 3. ₹2,005
  - 4. ₹1,975

Question ID : 65497836515  
Status : Answered  
Chosen Option : 1

Q.21 1845-46 ईस्वी की अवधि के दौरान निम्नलिखित में से कौन सी लड़ाई लड़ी गई थी?

- Ans  1. प्रथम आंग्ल-सिख युद्ध  
 2. प्रथम आंग्ल-मराठा युद्ध  
 3. द्वितीय आंग्ल-मराठा युद्ध  
 4. द्वितीय आंग्ल-सिख युद्ध

Question ID : 65497836499  
Status : Answered  
Chosen Option : 2

Q.22 भारतीय दंड संहिता की धारा 304B \_\_\_\_\_ से संबंधित है।

- Ans  1. आत्महत्या करने का प्रयास  
 2. आत्महत्या का दुष्प्रेरण  
 3. लापरवाही से हुई मृत्यु  
 4. दहेज हत्या

Question ID : 65497836510  
Status : Not Attempted and Marked For Review  
Chosen Option : --

Q.23 निम्नलिखित में से कौन सा स्मारक खिलजी राजवंश द्वारा बनवाया गया था?

- Ans  1. अलाई दरवाजा  
 2. बड़ा गुंबद  
 3. शीश गुंबद  
 4. सफदरजंग का मकबरा

Question ID : 65497836502  
Status : Answered  
Chosen Option : 1

Q.24 कौन से भारतीय कप्तान, सबसे तेज 12000 वनडे रन बनाने वाले क्रिकेटर बने? उन्होंने 2020 में यह उपलब्धि हासिल की।

- Ans  1. भुवनेश्वर कुमार  
 2. सुरेश रैना  
 3. रविचंद्रन अश्विन  
 4. विराट कोहली

Question ID : 65497836505  
Status : Answered  
Chosen Option : 4

Q.25 मई 2021 में, अंतर्राष्ट्रीय ओलंपिक समिति ने प्रतियोगिता में हेरफेर को रोकने के उद्देश्य से संचालित अपने बिलीव इन स्पोर्ट (Believe in Sport)' अभियान के लिए \_\_\_\_\_ को एथलीट एंबेसडर के रूप में नामित किया।

- Ans  1. PV सिंधु  
 2. मनिका बत्रा  
 3. मैरी कॉम  
 4. साइखोम मीराबाई चानू

Question ID : 65497836514  
Status : Answered  
Chosen Option : 4

Q.1 एक डेयरी मालिक प्रतिदिन 3 किस्मों - फुल क्रीम, टॉड और डबल टॉड - के एक लीटर के पैकेटों में 528 लीटर दूध बेचता है। टॉड दूध के पैकेटों की बिक्री, फुल क्रीम दूध के पैकेटों की तुलना में 80% अधिक है, और डबल टॉड दूध के पैकेटों की बिक्री, टॉड दूध के पैकेटों की तुलना में 60% कम है। वह प्रतिदिन डबल टॉड दूध के कितने पैकेट बेचता है?

- Ans
- 1. 100
  - 2. 112
  - 3. 108
  - 4. 110

Question ID : 65497836540  
Status : Answered  
Chosen Option : 3

Q.2 यदि केलों को ₹7 प्रति केले के बजाय ₹10 प्रति केले के मूल्य पर बेचा जाता है, तो कुछ केलों के विक्रय मूल्यों के बीच का अंतर ₹990 है। यदि सभी केलों का क्रय मूल्य ₹1,980 है, और यदि अर्जित लाभ 18% है, तो दस केलों का विक्रय मूल्य (₹ में) कितना होगा?

- Ans
- 1. 90.20
  - 2. 70.80
  - 3. 99.00
  - 4. 60.00

Question ID : 65497836519  
Status : Not Attempted and Marked For Review  
Chosen Option : --

Q.3 B किसी कार्य को पूरा करने के लिए, A द्वारा लिए गए दिनों की संख्या का पाँच गुना लेता है। एक साथ काम करके, वे काम को 15 दिनों में पूरा कर देते हैं। उसी काम को पूरा करने में अकेले A को कितने दिन लगेंगे?

- Ans
- 1. 20
  - 2. 12
  - 3. 18
  - 4. 16

Question ID : 65497836523  
Status : Answered  
Chosen Option : 3

Q.4 A, B और C तीन संख्याएँ हैं। A, B से 45% अधिक है और C, A से 60% कम है। B, C से कितने प्रतिशत (निकटतम पूर्णांक तक) अधिक है?

- Ans
- 1. 42%
  - 2. 72%
  - 3. 70%
  - 4. 68%

Question ID : 65497836533  
Status : Answered  
Chosen Option : 1

Q.5 वह छोटी से छोटी संख्या कौन सी है, जो 4 से 9 तक की सभी संख्याओं से विभाज्य है?

- Ans
- 1. 2540
  - 2. 2520
  - 3. 1520
  - 4. 840

Question ID : 65497836539  
Status : Answered  
Chosen Option : 2

Q.6 18 m लंबी, 10 m ऊंची और 40 cm चौड़ी एक दीवार को 30 cm, 15 cm और 10 cm की विमाओं वाली ईंटों का उपयोग करके निर्मित करना है। कितनी ईंटों (हजारों में) की आवश्यकता होगी?

- Ans
- 1. 16000
  - 2. 16
  - 3. 14
  - 4. 14000

Question ID : 65497836518  
Status : Not Attempted and Marked For Review  
Chosen Option : --

Q.7 10 और 20 के बीच 3 के पहले तीन गुणजों के औसत और 4 के पहले 2 गुणजों के औसत के बीच का अंतर ज्ञात करें।

- Ans
- 1. 2
  - 2. 3
  - 3. 1
  - 4. 4

Question ID : 65497836528  
Status : Answered  
Chosen Option : 3

Q.8  $10 - [378 \div 6 \text{ of } 9 - (25 - 72 \div 3)]$  का मान कितना होगा?

- Ans
- 1. 4
  - 2. 1
  - 3. 3
  - 4. 9

Question ID : 65497836521  
Status : Answered  
Chosen Option : 1

Q.9 ₹75,000 की धनराशि का, वार्षिक आधार पर चक्रवृद्धि होने वाली एक निश्चित वार्षिक ब्याज दर पर 2 वर्षों में प्राप्त चक्रवृद्धि ब्याज ₹6,120 है। यदि ब्याज त्रैमासिक आधार पर चक्रवृद्धि होता है, तो ₹1,00,000 की धनराशि की उसी ब्याज दर पर एक वर्ष के बाद प्राप्त धनराशि (₹ में, दशमलव के दो स्थानों तक सही) कितनी होगी?

- Ans
- ✓ 1. 1,04,060.40
  - ✗ 2. 1,00,400.60
  - ✗ 3. 1,06,040.20
  - ✗ 4. 1,40,060.50

Question ID : 65497836520

Status : Not Attempted and Marked For Review

Chosen Option : --

Q.10  $72 - [20 - \{10 - (6 - \overline{6-4})\}]$  का मान कितना है?

- Ans
- ✗ 1. 48
  - ✓ 2. 58
  - ✗ 3. 44
  - ✗ 4. 56

Question ID : 65497836524

Status : Answered

Chosen Option : 2

Q.11 कोई व्यक्ति 1000 m लंबा पुल 6 min में पार करता है। उसकी चाल (km/h में) कितनी है?

- Ans
- ✗ 1. 8
  - ✗ 2. 16
  - ✓ 3. 10
  - ✗ 4. 12

Question ID : 65497836525

Status : Answered

Chosen Option : 3

Q.12 एक निश्चित धनराशि, एकसमान वार्षिक साधारण ब्याज दर से 4 वर्ष में ₹12,420 और 7 वर्ष में ₹14,985 हो जाती है। वह धनराशि कितनी है?

- Ans
- ✓ 1. ₹9,000
  - ✗ 2. ₹8,400
  - ✗ 3. ₹9,500
  - ✗ 4. ₹8,800

Question ID : 65497836537

Status : Answered

Chosen Option : 1



Q.13 पहली चार अभाज्य संख्याओं के लघुत्तम समापवर्त्य (LCM) का, पहली तीन भाज्य संख्याओं के महत्तम समापवर्तक (HCF) से अनुपात ज्ञात करें।

- Ans
- 1. 168 : 1
  - 2. 105 : 1
  - 3. 6 : 1
  - 4. 26 : 1

Question ID : 65497836527  
Status : Answered  
Chosen Option : 2

Q.14 यदि  $A : B = 8 : 9$  और  $B : C = 12 : 55$  है, तो  $A : B : C$  का मान क्या है?

- Ans
- 1. 32 : 36 : 165
  - 2. 32 : 165 : 36
  - 3. 32 : 36 : 156
  - 4. 36 : 32 : 165

Question ID : 65497836517  
Status : Answered  
Chosen Option : 1

Q.15 दुकानदार ने एक वस्तु की कीमत इस प्रकार अंकित की जिससे वह उसके क्रय मूल्य पर 30% का लाभ अर्जित करे। फिर उसने अंकित मूल्य पर 12% की छूट पर इसे बेच दिया। उसके द्वारा अर्जित वास्तविक प्रतिशत लाभ ज्ञात करें।

- Ans
- 1. 15.2%
  - 2. 14.2%
  - 3. 14.4%
  - 4. 13.8%

Question ID : 65497836532  
Status : Not Attempted and Marked For Review  
Chosen Option : --

Q.16 एक वस्तु को ₹2,900 में बेचकर एक दुकानदार 16% का लाभ अर्जित करता है। यदि उसने इसे ₹3,050 में बेचा होता, तो उसका प्रतिशत लाभ क्या होता?

- Ans
- 1. 20.5%
  - 2. 22%
  - 3. 21%
  - 4. 20%

Question ID : 65497836541  
Status : Answered  
Chosen Option : 2

Q.17 यदि 51,  $x$ , 72 और 96 समानुपाती हैं, तो  $(2x+8)$  और  $(x+13)$  के बीच मध्यानुपात कितना होगा?

- Ans
- 1. 112
  - 2. 117
  - 3. 96
  - 4. 108

Question ID : 65497836536  
Status : Answered  
Chosen Option : 4

Q.18 दुकानदार A, ₹500 के अंकित मूल्य पर 8% और 12% की दो क्रमिक छूट देता है। एक अन्य दुकानदार B, उसी अंकित मूल्य वाली उसी वस्तु पर 20% की एकल छूट देता है। उनके विक्रय मूल्यों में अंतर ज्ञात करें।

- Ans
- 1. ₹4.40
  - 2. ₹4.80
  - 3. ₹3.20
  - 4. ₹5.20

Question ID : 65497836526  
Status : Answered  
Chosen Option : 2

Q.19 समान लंबाई की दो ट्रेनें A और B समानांतर पटरियों पर एक ही दिशा में क्रमशः 64.8 km/h और 50.4 km/h की चाल से चल रही हैं। ट्रेन A, ट्रेन B को एक मिनट में पार करती है। प्रत्येक ट्रेन की लंबाई (m में) ज्ञात करें।

- Ans
- 1. 150
  - 2. 125
  - 3. 100
  - 4. 120

Question ID : 65497836535  
Status : Not Answered  
Chosen Option : --

Q.20 A और B मिलकर किसी कार्य को 24 दिनों में पूरा कर सकते हैं। B और C मिलकर इसे 30 दिनों में पूरा कर सकते हैं। यदि A की दक्षता C की तुलना में दोगुनी है, तो B अकेले उसी कार्य को पूरा करने के लिए कितने दिनों का समय लेगा?

- Ans
- 1. 36
  - 2. 40
  - 3. 30
  - 4. 48

Question ID : 65497836534  
Status : Answered  
Chosen Option : 2

Q.21 एक वृत्ताकार भूखंड का परिमाण 440 m है। इसके परितः 5 m चौड़ा वृत्ताकार पथ है। पथ का क्षेत्रफल ( $m^2$  में,  $\pi = \frac{22}{7}$  मानते हुए) लगभग कितना होगा?

- Ans
- ✓ 1. 2278.6
  - ✗ 2. 1822.9
  - ✗ 3. 2121.4
  - ✗ 4. 1964.3

Question ID : 65497836538  
Status : Not Answered  
Chosen Option : --

Q.22 ₹7,800 की राशि को A, B और C में इस प्रकार विभाजित किया जाता है कि B का हिस्सा A के हिस्से का  $\frac{1}{3}$  है और C का हिस्सा B के हिस्से से 20% अधिक है। A का हिस्सा ज्ञात करें।

- Ans
- ✓ 1. ₹4,500
  - ✗ 2. ₹2,500
  - ✗ 3. ₹1,500
  - ✗ 4. ₹3,000

Question ID : 65497836529  
Status : Answered  
Chosen Option : 1

Q.23 23 छात्रों का औसत भार 53 kg दर्ज किया गया था। एक शिक्षक का भार भी शामिल करने पर, औसत भार में 100 g की वृद्धि हुई। शिक्षक का भार (kg में) ज्ञात करें।

- Ans
- ✗ 1. 55.8
  - ✗ 2. 56.4
  - ✓ 3. 55.4
  - ✗ 4. 56.2

Question ID : 65497836531  
Status : Answered  
Chosen Option : 3

Q.24 एक निश्चित धनराशि के लिए, 5% वार्षिक ब्याज दर पर, 2 वर्ष के साधारण ब्याज (SI) और वार्षिक रूप से चक्रवृद्धि होने वाले चक्रवृद्धि ब्याज (CI) के बीच का अंतर ₹25.00 है। वह धनराशि ज्ञात करें।

- Ans
- ✗ 1. ₹12,000
  - ✗ 2. ₹8,000
  - ✗ 3. ₹7,500
  - ✓ 4. ₹10,000

Question ID : 65497836530  
Status : Answered  
Chosen Option : 4

Q.25 एक व्यक्ति ने एक पुरानी वस्तु ₹5,400 में खरीदी और उसकी मरम्मत पर ₹200 खर्च किए। उसने इसे ₹6,300 में बेच दिया। उसका लाभ प्रतिशत क्या है?

Ans  1. 12.5

2. 10

3. 12

4. 14

Question ID : 65497836522  
Status : Answered  
Chosen Option : 1

Section : Part D English

Q.1 Select the INCORRECTLY spelt word.

Ans  1. Pronunciation

2. Prolong

3. Procrastination

4. Proactivity

Question ID : 65497836553  
Status : Answered  
Chosen Option : 2

Q.2 Select the most appropriate meaning of the given idiom.

Gift of the gab

Ans  1. Ability to draw sketches

2. Ability to please others

3. Ability to speak confidently and clearly

4. Ability to speak in a sarcastic tone

Question ID : 65497836552  
Status : Answered  
Chosen Option : 3

Q.3 Select the most appropriate option to fill in the blank.

If you do not pay your \_\_\_\_\_ you will be imprisoned.

Ans  1. debit

2. debt

3. damage

4. deed

Question ID : 65497836561  
Status : Answered  
Chosen Option : 2

Q.4 Select the INCORRECTLY spelt word.

- Ans  1. Progress  
 2. Vicious  
 3. Accuse  
 4. Acclame

Question ID : 65497836549  
Status : Answered  
Chosen Option : 4

Q.5 Select the most appropriate option that can substitute the underlined segment in the given sentence. If there is no need to substitute it, select 'No substitution required'.

Skydiving was a rare opportunity that I had got, so, even though I was exhausted, I decided to go for it.

- Ans  1. No substitution required  
 2. as yet though  
 3. still even if  
 4. so despite however

Question ID : 65497836542  
Status : Answered  
Chosen Option : 3

Q.6 Select the option that can be used as a one-word substitute for the given group of words.

The action of killing oneself intentionally

- Ans  1. Parricide  
 2. Homicide  
 3. Suicide  
 4. Genocide

Question ID : 65497836557  
Status : Answered  
Chosen Option : 3

Q.7 Select the option that will improve the underlined part of the given sentence. In case no improvement is needed, select 'No improvement required'.

Since he is strong, he is quite timid.

- Ans  1. Although  
 2. No improvement required  
 3. Because  
 4. Besides

Question ID : 65497836559  
Status : Answered  
Chosen Option : 1

**Q.8 Select the most appropriate ANTONYM of the given word.**

**Aggressive**

- Ans  1. Sharp  
 2. Calm  
 3. Excited  
 4. Simple

Question ID : 65497836558  
Status : Answered  
Chosen Option : 2

**Q.9 Select the most appropriate synonym of the given word.**

**Amiable**

- Ans  1. Honest  
 2. Dishonest  
 3. Friendly  
 4. Disagreeable

Question ID : 65497836551  
Status : Answered  
Chosen Option : 3

**Q.10 Select the most appropriate option to fill in the blank.**

He has been \_\_\_\_\_ in his performance throughout.

- Ans  1. conducive  
 2. connotative  
 3. consistent  
 4. constructive

Question ID : 65497836554  
Status : Answered  
Chosen Option : 4

**Q.11 The following sentence has been split into four segments. Identify the segment that contains a grammatical error.**

The teacher punished him / and told him / that he does not / need to give a clarification.

- Ans  1. need to give a clarification  
 2. The teacher punished him  
 3. and told him  
 4. that he does not

Question ID : 65497836550  
Status : Answered  
Chosen Option : 3

Q.12 Select the option that can be used as a one-word substitute for the given group of words.

A person who takes care of cattle

- Ans  1. Gardener  
 2. Cowherd  
 3. Guard  
 4. Landlord

Question ID : 65497836545  
Status : Answered  
Chosen Option : 2

Q.13 Select the most appropriate option that can substitute the underlined segment in the given sentence. If there is no need to substitute it, select 'No substitution required'.

The interviews will be held between 11 a.m. to 5 p.m.

- Ans  1. will be held from  
 2. will be held at  
 3. No substitution required  
 4. will hold during

Question ID : 65497836544  
Status : Answered  
Chosen Option : 1

Q.14 Select the most appropriate synonym of the given word.

Immerse

- Ans  1. Immediate  
 2. Immoral  
 3. Submission  
 4. Submerge

Question ID : 65497836556  
Status : Answered  
Chosen Option : 4

Q.15 Select the most appropriate meaning of the given idiom.

Blue blood

- Ans  1. Rare sight  
 2. Noble birth  
 3. Bad mood  
 4. Weak person

Question ID : 65497836560  
Status : Answered  
Chosen Option : 3

**Q.16** Select the option that can be used as a one-word substitute for the given group of words.

**Lack of feeling**

- Ans  1. Sympathy  
 2. Apathy  
 3. Telepathy  
 4. Empathy

Question ID : 65497836548  
Status : Answered  
Chosen Option : 4

**Q.17** Select the most appropriate ANTONYM of the given word.

**Frivolous**

- Ans  1. Quiet  
 2. Wise  
 3. Idle  
 4. Petty

Question ID : 65497836547  
Status : Answered  
Chosen Option : 1

**Q.18** The following sentence has been split into four segments. Identify the segment that contains a grammatical error.

**Philip was / too proud / for extending / a hand of friendship.**

- Ans  1. a hand of friendship  
 2. Philip was  
 3. for extending  
 4. too proud

Question ID : 65497836546  
Status : Answered  
Chosen Option : 4

**Q.19** Parts of the given sentence have been given as options. One of them contains a grammatical error. Select the option that has the error.

**Go to the ninth block on the left-hand side and take a sharpest turn to reach Bunny's house on the right.**

- Ans  1. on the right  
 2. Go to the ninth block  
 3. Bunny's house  
 4. take a sharpest turn

Question ID : 65497836555  
Status : Answered  
Chosen Option : 1



**Q.20** Select the most appropriate option to fill in the blank.

The \_\_\_\_\_ cannot be a panacea for all respiratory infections.

- Ans
- 1. healing
  - 2. care
  - 3. diagnosis
  - 4. treatment

Question ID : 65497836543

Status : Answered

Chosen Option : 1

**Comprehension:**

In the following passage, some words have been deleted. Read the passage carefully and select the most appropriate option to fill in each blank.

The human skeleton is the (1)\_\_\_\_\_ framework of our body. It gives shape and support to the body. (2)\_\_\_\_\_, it provides protection, makes blood cells, stores minerals and regulates hormones. The spinal cord is an (3)\_\_\_\_\_ part of our body. The ribcage protects our lungs and heart. To increase the (4)\_\_\_\_\_ of our bones, we should include calcium in our diet. All our (5)\_\_\_\_\_ organs are protected by this skeletal system.

**SubQuestion No : 21**

**Q.21** Select the most appropriate option to fill in blank no. 1.

- Ans
- 1. external
  - 2. superficial
  - 3. internal
  - 4. middle

Question ID : 65497836563

Status : Answered

Chosen Option : 3

**Comprehension:**

In the following passage, some words have been deleted. Read the passage carefully and select the most appropriate option to fill in each blank.

The human skeleton is the (1)\_\_\_\_\_ framework of our body. It gives shape and support to the body. (2)\_\_\_\_\_, it provides protection, makes blood cells, stores minerals and regulates hormones. The spinal cord is an (3)\_\_\_\_\_ part of our body. The ribcage protects our lungs and heart. To increase the (4)\_\_\_\_\_ of our bones, we should include calcium in our diet. All our (5)\_\_\_\_\_ organs are protected by this skeletal system.

**SubQuestion No : 22**

**Q.22** Select the most appropriate option to fill in blank no. 2.

- Ans
- 1. Besides
  - 2. Unless
  - 3. Beside
  - 4. Although

Question ID : 65497836564

Status : Answered

Chosen Option : 4

**Comprehension:**

In the following passage, some words have been deleted. Read the passage carefully and select the most appropriate option to fill in each blank.

The human skeleton is the (1)\_\_\_\_\_ framework of our body. It gives shape and support to the body. (2)\_\_\_\_\_, it provides protection, makes blood cells, stores minerals and regulates hormones. The spinal cord is an (3)\_\_\_\_\_ part of our body. The ribcage protects our lungs and heart. To increase the (4)\_\_\_\_\_ of our bones, we should include calcium in our diet. All our (5)\_\_\_\_\_ organs are protected by this skeletal system.

**SubQuestion No : 23**

**Q.23 Select the most appropriate option to fill in blank no. 3.**

- Ans  1. important  
 2. eternal  
 3. alert  
 4. insignificant

Question ID : 65497836565  
Status : Answered  
Chosen Option : 1

**Comprehension:**

In the following passage, some words have been deleted. Read the passage carefully and select the most appropriate option to fill in each blank.

The human skeleton is the (1)\_\_\_\_\_ framework of our body. It gives shape and support to the body. (2)\_\_\_\_\_, it provides protection, makes blood cells, stores minerals and regulates hormones. The spinal cord is an (3)\_\_\_\_\_ part of our body. The ribcage protects our lungs and heart. To increase the (4)\_\_\_\_\_ of our bones, we should include calcium in our diet. All our (5)\_\_\_\_\_ organs are protected by this skeletal system.

**SubQuestion No : 24**

**Q.24 Select the most appropriate option to fill in blank no. 4.**

- Ans  1. value  
 2. length  
 3. strength  
 4. ability

Question ID : 65497836566  
Status : Answered  
Chosen Option : 3

**Comprehension:**

In the following passage, some words have been deleted. Read the passage carefully and select the most appropriate option to fill in each blank.

The human skeleton is the (1)\_\_\_\_\_ framework of our body. It gives shape and support to the body. (2)\_\_\_\_\_, it provides protection, makes blood cells, stores minerals and regulates hormones. The spinal cord is an (3)\_\_\_\_\_ part of our body. The ribcage protects our lungs and heart. To increase the (4)\_\_\_\_\_ of our bones, we should include calcium in our diet. All our (5)\_\_\_\_\_ organs are protected by this skeletal system.

**SubQuestion No : 25**

**Q.25 Select the most appropriate option to fill in blank no. 5.**

- Ans  1. fundamental  
 2. secret  
 3. secondary  
 4. vital

Question ID : 65497836567  
Status : Answered  
Chosen Option : 2

Q.1 दिए गए शब्द का समानार्थी शब्द बताइए।

कथा

- Ans  1. उपन्यास  
 2. आख्यान  
 3. गीत  
 4. नाटक

Question ID : 65497836569  
Status : Not Answered  
Chosen Option : --

Q.2 दिये गये वाक्य के किस भाग में त्रुटि है?

हमारी शिक्षा प्रणाली में कई दोष हैं।

- Ans  1. हमारी  
 2. शिक्षा प्रणाली  
 3. में कई  
 4. दोष हैं।

Question ID : 65497836585  
Status : Not Answered  
Chosen Option : --

Q.3 सही वर्तनी वाले शब्द का चयन करें।

- Ans  1. आशीवाद  
 2. आशिरवाद  
 3. आशिवादी  
 4. आशीर्वाद

Question ID : 65497836579  
Status : Not Answered  
Chosen Option : --

Q.4 निम्नलिखित प्रश्न में, दिए गए चार विकल्पों में से, उस विकल्प का चयन करें जो मुहावरे का अर्थ व्यक्त करता है।

गर्दन उठाना

- Ans  1. चुप कराना  
 2. लज्जित करना  
 3. विरोध करना  
 4. होश संभालना

Question ID : 65497836578  
Status : Not Answered  
Chosen Option : --

Q.5 रिक्त स्थान को भरने के लिए सबसे उपयुक्त शब्द का चयन करें।

निकम्मे व्यक्ति सदैव ख्याली \_\_\_\_\_ ही पकाते रहते हैं।

- Ans
- 1. पुलाव
  - 2. चने
  - 3. खिचड़ी
  - 4. चावल

Question ID : 65497836574  
Status : Not Answered  
Chosen Option : --

Q.6 दिए गए शब्द का विलोम चुनें।

ग्राह्य

- Ans
- 1. सुग्राह्य
  - 2. अग्राह्य
  - 3. विग्राह्य
  - 4. अपग्राह्य

Question ID : 65497836575  
Status : Not Answered  
Chosen Option : --

Q.7 'एकाएक घटित होने वाला' वाक्यांश के लिए एक शब्द होगा-

- Ans
- 1. यांत्रिक
  - 2. तात्कालिक
  - 3. आश्चर्य
  - 4. आकस्मिक

Question ID : 65497836584  
Status : Not Answered  
Chosen Option : --

Q.8 दिए गए वाक्य का वो भाग ज्ञात करें जिसमें कोई त्रुटि है। यदि कोई त्रुटि नहीं है, तो 'कोई त्रुटि नहीं है' चुनें।

युवराज ने (1)\ एक ओवर में (2)\ छह छक्के लगाया (3)\ कोई त्रुटि नहीं है (4)

- Ans
- 1. 4
  - 2. 2
  - 3. 3
  - 4. 1

Question ID : 65497836568  
Status : Not Answered  
Chosen Option : --

Q.9 रिक्त स्थान को भरने के लिए सबसे उपयुक्त विकल्प का चयन करें।

निखिल हारमोनियम बजाने में \_\_\_\_\_ है।

- Ans
- 1. दक्ष
  - 2. कारीगर
  - 3. प्रवीण
  - 4. निपुण

Question ID : 65497836587  
Status : Not Answered  
Chosen Option : --

Q.10 दिए गए शब्द के विलोम शब्द का चयन करें।

ऐक्य

- Ans
- 1. मतैक्य
  - 2. अनेक
  - 3. अनेक्य
  - 4. विभाज्य

Question ID : 65497836572  
Status : Not Answered  
Chosen Option : --

Q.11 जितनी जल्दी हो सके उतनी जल्दी काम कीजिए।

रेखांकित शब्द समूह के स्थान पर उचित शब्द प्रस्थापित कीजिए।

- Ans
- 1. आराम से
  - 2. शांति
  - 3. यथाशीघ्र
  - 4. धीरे-धीरे

Question ID : 65497836583  
Status : Not Answered  
Chosen Option : --

Q.12 दिए गए वाक्य का वो भाग ज्ञात करें जिसमें कोई त्रुटि है। यदि कोई त्रुटि नहीं है, तो 'कोई त्रुटि नहीं है' चुनें।

लोग आपकी (1)\ बुद्धिमत्ता की (2)\ सराहना करते हैं (3)\ कोई त्रुटि नहीं है (4)

- Ans
- 1, 2
  - 2, 3
  - 3, 1
  - 4, 4

Question ID : 65497836570  
Status : Not Answered  
Chosen Option : --

Q.13 निम्नलिखित प्रश्न में, दिए गए चार विकल्पों में से, उस विकल्प का चयन करें जो मुहावरे का अर्थ व्यक्त करता है।

गुरु घंटाल होना

- Ans  1. अयोग्य होना  
 2. मूर्ख होना  
 3. आलसी होना  
 4. बहुत धूर्त होना

Question ID : 65497836576  
Status : Not Answered  
Chosen Option : --

Q.14 रिक्त स्थान को भरने के लिए सबसे उपयुक्त विकल्प का चयन करें।

तेल का व्यापार उसका खानदानी \_\_\_\_\_ है।

- Ans  1. मन  
 2. पेशा  
 3. शौक  
 4. जागीर

Question ID : 65497836582  
Status : Not Answered  
Chosen Option : --

Q.15 दिये गये वाक्यांश के लिए एक शब्द दीजिये।

जो सब जानता हो

- Ans  1. सर्वज्ञ  
 2. विज्ञ  
 3. सुज्ञ  
 4. अज्ञ

Question ID : 65497836577  
Status : Not Answered  
Chosen Option : --

Q.16 दिये गये वाक्य में रेखांकित अंश को प्रतिस्थापित करने के लिए सबसे उपयुक्त विकल्प का चयन करें।

सब लोग अपनी राय दें।

- Ans  1. अपना-अपना  
 2. अपना  
 3. अपनी-अपनी  
 4. अपने

Question ID : 65497836581  
Status : Not Answered  
Chosen Option : --

Q.17 दिए गए वाक्य में रेखांकित खंड को प्रतिस्थापित करने के लिए सबसे उपयुक्त विकल्प का चयन करें। यदि इसे प्रतिस्थापित करने की आवश्यकता नहीं है, तो विकल्प 'किसी बदलाव की आवश्यकता नहीं है' का चयन करें।

गुरु जी की औदार्य की लोग प्रशंसा करते हैं।

- Ans
- 1. के औदार्य की लोग प्रशंसा करते हैं।
  - 2. किसी बदलाव की आवश्यकता नहीं है।
  - 3. की औदार्य का लोग प्रशंसा करते हैं।
  - 4. के औदार्य की लोग प्रशंसा करते हैं।

Question ID : 65497836571  
Status : Not Answered  
Chosen Option : --

Q.18 'रजनी' का पर्यायवाची है-

- Ans
- 1. वसुधा
  - 2. रमणी
  - 3. निशा
  - 4. शारदा

Question ID : 65497836586  
Status : Not Answered  
Chosen Option : --

Q.19 सही वर्तनी वाले शब्द का चयन करें।

- Ans
- 1. आन्धुनिक
  - 2. आधुनीक
  - 3. अधुनिक
  - 4. आधुनिक

Question ID : 65497836580  
Status : Not Answered  
Chosen Option : --

Q.20 दिए गये वाक्यांश के लिए एक शब्द दीजिये।

जिसके समान कोई दूसरा न हो

- Ans
- 1. अनुपम
  - 2. अद्भुत
  - 3. अनूठा
  - 4. अद्वितीय

Question ID : 65497836573  
Status : Not Answered  
Chosen Option : --



**Comprehension:**

दिए गए गद्यांश में कुछ शब्द हटा दिए गए हैं। दिए गए विकल्पों की सहायता से रिक्त स्थान भरें। प्रत्येक संख्या के लिए सबसे उपयुक्त विकल्प का चयन करें।

अपने इतिहास के अधिकांश कालों में भारत एक सांस्कृतिक इकाई होते हुए भी पारस्परिक युद्धों से (1) \_\_\_\_\_ होता रहा। यहाँ के शासक अपने शासन-कौशल में धूर्त एवं (2) \_\_\_\_\_ थे। समय-समय पर यहाँ दुर्भिक्ष, (3) \_\_\_\_\_ तथा प्लेग के प्रकोप होते रहे, जिससे सहस्रों व्यक्तियों की मृत्यु हुई। (4) \_\_\_\_\_ असमानता धर्मसंगत मानी गई, जिसके फलस्वरूप नीच कुल के व्यक्तियों का जीवन (5) \_\_\_\_\_ बन गया। इन सबके होते हुए भी हमारा विचार है कि पुरातन संसार के किसी भी भाग में मनुष्य के मनुष्य तथा मनुष्य के राज से ऐसे सुंदर एवं मानवीय संबंध नहीं रहे हैं। गद्यांश के आधार पर उत्तर दीजिए।

**SubQuestion No : 21**

Q.21 गद्यांश के रिक्त स्थान (1) के लिए सर्वाधिक उपयुक्त शब्द होगा-

- Ans  1. विकसित  
 2. जर्जर  
 3. आप्लावित  
 4. पोषित

Question ID : 65497836589

Status : Not Answered

Chosen Option : --

**Comprehension:**

दिए गए गद्यांश में कुछ शब्द हटा दिए गए हैं। दिए गए विकल्पों की सहायता से रिक्त स्थान भरें। प्रत्येक संख्या के लिए सबसे उपयुक्त विकल्प का चयन करें।

अपने इतिहास के अधिकांश कालों में भारत एक सांस्कृतिक इकाई होते हुए भी पारस्परिक युद्धों से (1) \_\_\_\_\_ होता रहा। यहाँ के शासक अपने शासन-कौशल में धूर्त एवं (2) \_\_\_\_\_ थे। समय-समय पर यहाँ दुर्भिक्ष, (3) \_\_\_\_\_ तथा प्लेग के प्रकोप होते रहे, जिससे सहस्रों व्यक्तियों की मृत्यु हुई। (4) \_\_\_\_\_ असमानता धर्मसंगत मानी गई, जिसके फलस्वरूप नीच कुल के व्यक्तियों का जीवन (5) \_\_\_\_\_ बन गया। इन सबके होते हुए भी हमारा विचार है कि पुरातन संसार के किसी भी भाग में मनुष्य के मनुष्य तथा मनुष्य के राज से ऐसे सुंदर एवं मानवीय संबंध नहीं रहे हैं। गद्यांश के आधार पर उत्तर दीजिए।

**SubQuestion No : 22**

Q.22 गद्यांश के रिक्त स्थान (2) के लिए सर्वाधिक उपयुक्त शब्द होगा-

- Ans  1. सुरक्षित  
 2. सहनशील  
 3. सतर्क  
 4. प्रसावधान

Question ID : 65497836590

Status : Not Answered

Chosen Option : --



**Comprehension:**

दिए गए गद्यांश में कुछ शब्द हटा दिए गए हैं। दिए गए विकल्पों की सहायता से रिक्त स्थान भरें। प्रत्येक संख्या के लिए सबसे उपयुक्त विकल्प का चयन करें।

अपने इतिहास के अधिकांश कालों में भारत एक सांस्कृतिक इकाई होते हुए भी पारस्परिक युद्धों से (1) \_\_\_\_\_ होता रहा। यहाँ के शासक अपने शासन-कौशल में धूर्त एवं (2) \_\_\_\_\_ थे। समय-समय पर यहाँ दुर्भिक्ष, (3) \_\_\_\_\_ तथा प्लेग के प्रकोप होते रहे, जिससे सहस्रों व्यक्तियों की मृत्यु हुई। (4) \_\_\_\_\_ असमानता धर्मसंगत मानी गई, जिसके फलस्वरूप नीच कुल के व्यक्तियों का जीवन (5) \_\_\_\_\_ बन गया। इन सबके होते हुए भी हमारा विचार है कि पुरातन संसार के किसी भी भाग में मनुष्य के मनुष्य तथा मनुष्य के राज से ऐसे सुंदर एवं मानवीय संबंध नहीं रहे हैं। गद्यांश के आधार पर उत्तर दीजिए।

**SubQuestion No : 23**

Q.23 गद्यांश के रिक्त स्थान (3) के लिए सर्वाधिक उपयुक्त शब्द होगा-

- Ans
- 1. सूख
  - 2. वस्त्र
  - 3. बाढ़
  - 4. अन

Question ID : 65497836591

Status : Not Answered

Chosen Option : --

**Comprehension:**

दिए गए गद्यांश में कुछ शब्द हटा दिए गए हैं। दिए गए विकल्पों की सहायता से रिक्त स्थान भरें। प्रत्येक संख्या के लिए सबसे उपयुक्त विकल्प का चयन करें।

अपने इतिहास के अधिकांश कालों में भारत एक सांस्कृतिक इकाई होते हुए भी पारस्परिक युद्धों से (1) \_\_\_\_\_ होता रहा। यहाँ के शासक अपने शासन-कौशल में धूर्त एवं (2) \_\_\_\_\_ थे। समय-समय पर यहाँ दुर्भिक्ष, (3) \_\_\_\_\_ तथा प्लेग के प्रकोप होते रहे, जिससे सहस्रों व्यक्तियों की मृत्यु हुई। (4) \_\_\_\_\_ असमानता धर्मसंगत मानी गई, जिसके फलस्वरूप नीच कुल के व्यक्तियों का जीवन (5) \_\_\_\_\_ बन गया। इन सबके होते हुए भी हमारा विचार है कि पुरातन संसार के किसी भी भाग में मनुष्य के मनुष्य तथा मनुष्य के राज से ऐसे सुंदर एवं मानवीय संबंध नहीं रहे हैं। गद्यांश के आधार पर उत्तर दीजिए।

**SubQuestion No : 24**

Q.24 गद्यांश के रिक्त स्थान (4) के लिए सर्वाधिक उपयुक्त शब्द होगा-

- Ans
- 1. अर्थाधारित
  - 2. जन्मजात
  - 3. स्थानगत
  - 4. कर्मगत

Question ID : 65497836592

Status : Not Answered

Chosen Option : --

**Comprehension:**

दिए गए गद्यांश में कुछ शब्द हटा दिए गए हैं। दिए गए विकल्पों की सहायता से रिक्त स्थान भरें। प्रत्येक संख्या के लिए सबसे उपयुक्त विकल्प का चयन करें।

अपने इतिहास के अधिकांश कालों में भारत एक सांस्कृतिक इकाई होते हुए भी पारस्परिक युद्धों से (1) \_\_\_\_\_ होता रहा। यहाँ के शासक अपने शासन-कौशल में धूर्त एवं (2) \_\_\_\_\_ थे। समय-समय पर यहाँ दुर्मिक्ष, (3) \_\_\_\_\_ तथा प्लेग के प्रकोप होते रहे, जिससे सहस्रों व्यक्तियों की मृत्यु हुई। (4) \_\_\_\_\_ असमानता धर्मसंगत मानी गई, जिसके फलस्वरूप नीच कुल के व्यक्तियों का जीवन (5) \_\_\_\_\_ बन गया। इन सबके होते हुए भी हमारा विचार है कि पुरातन संसार के किसी भी भाग में मनुष्य के मनुष्य तथा मनुष्य के राज से ऐसे सुंदर एवं मानवीय संबंध नहीं रहे हैं। गद्यांश के आधार पर उत्तर दीजिए।

**SubQuestion No : 25**

**Q.25** गद्यांश के रिक्त स्थान (5) के लिए सर्वाधिक उपयुक्त शब्द होगा

- Ans**
- 1. अविकसित
  - 2. सम्पन्न
  - 3. अभिशाप
  - 4. खुशनुमा

Question ID : **65497836593**

Status : **Not Answered**

Chosen Option : --