

Constable GD in Central Armed Police Forces CAPFs SSF Rifleman GD in Assam Rifles Examination 2024

Exam Date	22/02/2024
Exam Time	9:00 AM - 10:00 AM
Subject	Constable GD Examination 2024

Section : Part-A-General Intelligence and Reasoning

Q.1 In the following question below are given some statements followed by some conclusions based on those statements. Taking the given statements to be true even if they seem to be at variance from commonly known facts. Read all the conclusions and then decide which of the given conclusion(s) logically follows the given statements.

Statements:

I. All land are vacant.

II. No land is girl.

Conclusions:

I. All vacant are land.

II. All girls are vacant.

- Ans**
- 1. Only conclusion II follows
 - 2. Neither conclusion follows
 - 3. Only conclusion I follows
 - 4. Both conclusions I and II follows

Q.2 Eight boys B1, B2, B3, B4, B5, B6, B7 and B8 are sitting in a row facing towards the north (not necessarily in the same order). B6 is fifth to the right of B1. B4 is fifth to the right of B5. B5 is to the immediate right of B1. B8 is third to the left of B4. B2 is third to the right of B7. B7 is an immediate neighbour of B1. Who is sitting on the immediate right of B2?

- Ans**
- 1. B8
 - 2. B7
 - 3. B5
 - 4. B6

Q.3 Which of the following letter-number cluster will replace the blank (___) in the given series?

ME18, OG22, QI26, SK30, UM34, _____

- Ans**
- 1. WO38
 - 2. WO36
 - 3. VO38
 - 4. VO36

- Q.4 'E × F' means 'E is the wife of F'
'E + F' means 'E is the brother of F'
'E ÷ F' means 'E is the sister of F'
'E - F' means 'E is the son of F'

How is J related to L in the expression 'I + J ÷ K - L'?

- Ans
- 1. Mother
 - 2. Sister
 - 3. Daughter
 - 4. Wife

Q.5 If $7 * 5 @ 10 \# 20 = 370$ and $4 * 3 @ 5 \# 30 = 90$, then

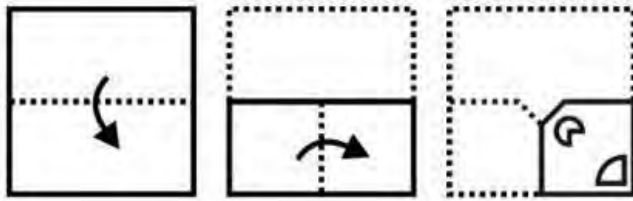
$2 * 3 @ 4 \# 5 = ?$

- Ans
- 1. 19
 - 2. 27
 - 3. 29
 - 4. 21

Q.6 Six friends P, Q, R, S, T, and U are sitting around a circular table facing away from the center. U sits exactly between R and S. S sits to the immediate left of T. P is sitting to the immediate right of Q. Who sits to the opposite of T?

- Ans
- 1. S
 - 2. U
 - 3. R
 - 4. Q

Q.7 A piece of paper is folded and punched as shown below in the question figures. From the given option figures, indicate how it will appear when opened?



Ans

1.



2.



3.



4.



Q.8 In the following question, select the missing number from the given series.

85, 84, 92, 83, 147, ?

Ans 1. 130

2. 120

3. 122

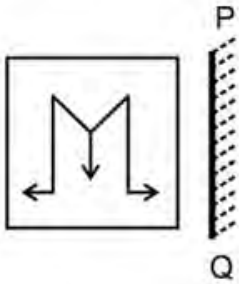
4. 131

Q.9 In the following question, select the related letters from the given alternatives.

MICS : LHBR :: JRVP : ?

- Ans
- 1. IQUO
 - 2. OCSN
 - 3. RDHH
 - 4. MLUK

Q.10 Select the correct mirror image of the given figure when the mirror PQ is placed to the right side of the figure.



Ans

- 1.
- 2.
- 3.
- 4.

Q.11 A series is given with one term missing. Select the correct alternative from the given ones that will complete the series.

RT, VT, VX, ZX, ?

- Ans
- 1. ZR
 - 2. RM
 - 3. ZB
 - 4. ZO

Q.12 In the following question, select the figure which can be placed at the sign of question mark (?) from the given alternatives.

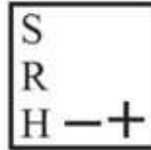


Ans

✗ 1.



✓ 2.



✗ 3.



✗ 4.



Q.13 After arranging the given words according to dictionary order, which word will come at 'Third' position?

1. Recant
2. Receive
3. Recent
4. Recess
5. Recall

Ans

✗ 1. Recess

✓ 2. Receive

✗ 3. Recant

✗ 4. Recent

Q.14 Select the option that is related to the fifth letter cluster in the same way as the fourth letter cluster is related to the third letter cluster, and the second letter cluster is related to the first letter cluster.

AWESOME : EWASEMO :: IMPRESS : PMIRSSE :: CONFUSE : ?

Ans

✓ 1. NOCFESU

✗ 2. NOFCESU

✗ 3. NOCFSEU

✗ 4. NOCFEUS

Q.15 In the following question, select the figure which can be placed at the sign of question mark (?) from the given alternatives.



Ans

1.



2.



3.



4.



Q.16 Which answer figure will complete the pattern in the question figure? (rotation is not allowed)



Ans

1.



2.



3.



4.



Q.17 In a certain code language, 'EATING' is coded as 'ELGRYC'. What is the code for 'COFFEE' in that code language?

- Ans
- 1. CCDDNB
 - 2. CCDDMA
 - 3. CCDDMB
 - 4. CCEEMB

Q.18 By interchanging which two signs and two numbers (not digits) the equation will be correct?

$$8 - 4 \times 9 + 6 + 3 = 29$$

- Ans
- 1. + and \times , 4 and 6
 - 2. - and \times , 6 and 9
 - 3. \times and \div , 8 and 4
 - 4. - and \times , 9 and 3

Q.19 In a certain code language, if DESK is coded as 'BCQI1', CHAIR is coded as 'AFYGP2', then what will 'TABLE' be coded as?

- Ans
- 1. RHAKO1
 - 2. RHAKO2
 - 3. RYZJC3
 - 4. RYZJC2

Q.20 In the following question, select the missing number from the given series.

8, 27, 46, 65, ?, 103

- Ans
- 1. 80
 - 2. 81
 - 3. 88
 - 4. 84

Section : Part-B-General Knowledge and General awareness

Q.1 Disrespecting of National Flag is a violation of which of the following Fundamental Duties mentioned in the Indian Constitution?

- Ans
- 1. Article 51A(a)
 - 2. Article 51A(d)
 - 3. Article 51A(b)
 - 4. Article 51A(c)

Q.2 Who has been conferred the first ever 'Udyog Ratna' award instituted by the Maharashtra government in August 2023?

- Ans
- 1. Savitri Jindal
 - 2. Ratan Tata
 - 3. Adar Poonawala
 - 4. Anand Mahindra

Q.3 “PM Programme for Restoration, Awareness, Nourishment and Amelioration of Mother Earth” (PM-PRANAM) scheme launched in 2023 aims _____.

- Ans
- 1. to make India self-reliant in automobile sector
 - 2. to provide food to poor
 - 3. to promote usage of alternative fertilizers and balanced use of chemical fertilizers
 - 4. to provide education to young girls

Q.4 On the bank of now dry course of which river, the ancient city of Harappa was built?

- Ans
- 1. Gandak
 - 2. Ravi
 - 3. Kosi
 - 4. Yamuna

Q.5 Which term is used to denote the mean income computed for every man, woman, and child in a particular group including those living in group quarters?

- Ans
- 1. Per capita income
 - 2. Per hundred income
 - 3. GDP
 - 4. PRCS

Q.6 Kathak dance is known as combination of _____.

- Ans
- 1. Music and narrative only
 - 2. Music and drama only
 - 3. Music and dance only
 - 4. Music, dance and narrative

Q.7 Which instrument is played by Pandit Ravi Shankar?

- Ans
- 1. Sarod
 - 2. Guitar
 - 3. Sitar
 - 4. Tabla

Q.8 Which of the following is NOT a writ issued by the Supreme Court of India?

- Ans
- 1. Jus soli
 - 2. Prohibition
 - 3. Habeas corpus
 - 4. Quo warranto

Q.9 Radha Sridhar is associated with which of the following classical dance?

- Ans
- 1. Sattriya
 - 2. Bharatnatyam
 - 3. Kathak
 - 4. Manipuri

Q.10 The Simon Commission arrived in India in _____.

- Ans
- 1. 1931
 - 2. 1919
 - 3. 1922
 - 4. 1928

Q.11 The proportion of the population below the poverty line is called the poverty ratio or _____.

- Ans
- 1. Income Disparity Index
 - 2. headcount ratio
 - 3. Socioeconomic Quotient
 - 4. Gini Coefficient

Q.12 Gurburab is celebrated by which of the following community?

- Ans
- 1. Hindu
 - 2. Christian
 - 3. Sikh
 - 4. Parsi

Q.13 Which sport is played by the Indian sportsperson Anjum Chopra?

- Ans
- 1. Lawn Tennis
 - 2. Cricket
 - 3. Badminton
 - 4. Football

Q.14 Which Chief Minister made an announcement regarding the issuance of Kunbi certificates to old Maratha Kunbis in 2023?

- Ans
- 1. Pema Khandu
 - 2. Jagdish Mukhi
 - 3. Eknath Shinde
 - 4. Biswabhusan Harichandan

Q.15 Which country hosted the FIFA U-17 World Cup 2023?

- Ans
- 1. Spain
 - 2. Portugal
 - 3. Japan
 - 4. Indonesia

Q.16 Rukmini Devi is regarded as one of the most distinguished artists of _____.

- Ans
- 1. Bharatanatyam
 - 2. Kathakali
 - 3. Mohiniattam
 - 4. Bhortal Dance

Q.17 Who of the following is an agricultural scientist who has played an important role in the green revolution in India?

- Ans
- 1. C. Subramaniam
 - 2. Monkombu Sambasivan Swaminathan
 - 3. Vikram Sarabhai
 - 4. Verghese Kurien

Q.18 Direct change of gas to solid without changing in to liquid is called _____.

- Ans
- 1. Vaporization
 - 2. Deposition
 - 3. Evaporation
 - 4. Sublimation

Q.19 A football match is played by two teams, each with a maximum of _____.

- Ans
- 1. eleven players
 - 2. ten players
 - 3. five players
 - 4. seven players

Q.20 Which among the following have the lowest sex-ratio as per 2011 Census?

- Ans
- 1. Tamil Nadu
 - 2. Andhra Pradesh
 - 3. Madhya Pradesh
 - 4. Rajasthan

Section : Part-C-Elementary Mathematics

Q.1 The simple interest on a certain sum of money at rate of interest 6% per annum for 2 years is Rs. 960. What is the compound interest (compounding annually) on the same sum for the same period and at the same rate of interest?

- Ans
- 1. Rs. 985.4
 - 2. Rs. 988.8
 - 3. Rs. 1122.2
 - 4. Rs. 1025.1

Q.2 If the diagonals of a rhombus are 48 cm and 64 cm, then what is the perimeter of the rhombus?

- Ans
- 1. 120 cm
 - 2. 75 cm
 - 3. 225 cm
 - 4. 160 cm

Q.3 Price of 1 kg of wheat is increased by 50 percent and the increase is of Rs. 25. What is the new price of the wheat per kg?

- Ans
- 1. Rs. 45
 - 2. Rs. 60
 - 3. Rs. 75
 - 4. Rs. 55

Q.4 If a car travels 150 km at a speed of 50 km/h, how long does it take to complete the journey?

- Ans
- 1. 3 hours
 - 2. 3.5 hours
 - 3. 4.5 hours
 - 4. 4 hours

Q.5 A watch is purchased for Rs. 6000 and sold for Rs. 5500. What is the loss percentage?

- Ans
- 1. 8.08 percent
 - 2. 11.11 percent
 - 3. 8.33 percent
 - 4. 7.28 percent

Q.6 The average of P, Q, and R is 40. If the average of P and Q is 35 and the average of Q and R is 45, what is the value of Q?

- Ans
- 1. 32
 - 2. 40
 - 3. 28
 - 4. 48

Q.7 The average age of 30 students in a class is 20 years. If each student's age is increased by 5 years, then determine the number by which the average age is increased.

- Ans
- 1. 8
 - 2. 7
 - 3. 5
 - 4. 3

Q.8 If $M : N : P = 3 : 7 : 5$ and $P : Q = 1 : 2$, then what is the value of $M : Q$?

- Ans
- 1. 2 : 1
 - 2. 2 : 3
 - 3. 1 : 3
 - 4. 3 : 10

Q.9 W and X together can complete a work in 40 days. X and Y together can complete the same work in 60 days. If W, X and Y all work together, then the same work gets completed in 30 days. How many days will W and Y together take to complete the same work?

- Ans**
- 1. 45 days
 - 2. 40 days
 - 3. 50 days
 - 4. 36 days

Q.10 If Marked price of an article is Rs. 4500 and selling price is Rs. 3900. What is the discount?

- Ans**
- 1. 500
 - 2. 600
 - 3. 700
 - 4. 850

Q.11 After giving 50 percent discount on an article there is still a profit of 50 percent. What will be the profit percentage when no discount is given?

- Ans**
- 1. 300 percent
 - 2. 100 percent
 - 3. 150 percent
 - 4. 200 percent

Q.12 If the difference between the two numbers is 30 percent of their sum, then what is the ratio of larger number and smaller number?

- Ans**
- 1. 14 : 3
 - 2. 12 : 5
 - 3. 13 : 7
 - 4. 15 : 7

Q.13 Convert $0.4\bar{1}$ into fraction.

- Ans**
- 1. $\frac{5}{9}$
 - 2. $\frac{3}{7}$
 - 3. $\frac{37}{90}$
 - 4. $\frac{4}{9}$

Q.14 Which of the following number is not divisible by 9?

- Ans**
- 1. 3789
 - 2. 7857
 - 3. 1845
 - 4. 3658

Q.15 Amar is 10 percent more efficient than Sachin. If Sachin alone can finish a work in 44 days, then in how many days will Amar alone finish the same work?

- Ans**
- 1. 40 days
 - 2. 52 days
 - 3. 47 days
 - 4. 45 days

Q.16 The product of two numbers is 1408, and their LCM is 352. Find the HCF.

- Ans**
- 1. 4
 - 2. 2
 - 3. 3
 - 4. 7

Q.17 If $X : Y = 11 : 5$, then what is the value of $(X - Y) : (X + Y)$?

- Ans**
- 1. 6 : 15
 - 2. 3 : 8
 - 3. 5 : 16
 - 4. 8 : 3

Q.18 Find the HCF of 258, 301, and 387.

- Ans**
- 1. 29
 - 2. 27
 - 3. 22
 - 4. 43

Q.19 The simple interest received on a certain sum is Rs.1782 for 3 years. What will be the simple interest on the same sum at the same rate of interest for 10 years?

- Ans**
- 1. Rs. 6940
 - 2. Rs. 6800
 - 3. Rs. 5940
 - 4. Rs. 6840

Q.20 Anurag sold a refrigerator for ₹28000, at a loss of 30%. If he wanted to earn a profit of 25%, at what price should he have sold the refrigerator?

- Ans**
- 1. Rs. 52,700
 - 2. Rs. 52,000
 - 3. Rs. 50,000
 - 4. Rs. 51,500

Q.1 Choose the option which are antonyms (opposite of) the word used in the sentence given below:

Although her happiness was manifest in her cheerful demeanour, the hidden sorrow in her eyes revealed a deeper emotional struggle.

- Ans
- 1. manifest/hidden
 - 2. demeanour/sorrow
 - 3. happiness/struggle
 - 4. manifest/revealed

Q.2 Choose the most appropriate synonym of the underlined word.

The trend of artwork among Middle Eastern ladies is nothing new, yet nail paint is frequently **overlooked**.

- Ans
- 1. Appreciated
 - 2. Pranked
 - 3. Sedated
 - 4. Neglected

Q.3 Choose the word that is opposite in meaning to the given word.

Ache

- Ans
- 1. Colic
 - 2. Serene
 - 3. Ease
 - 4. Gloomy

Q.4 Find the part of the given sentence that has an error in it. If there is no error, choose 'No error'.
Snow was falling light when everyone was leaving church.

- Ans
- 1. No error
 - 2. light when everyone
 - 3. Snow was falling
 - 4. was leaving church.

Q.5 Improve the underlined part of the sentence. Choose 'No improvement' as an answer if the sentence is grammatically correct.

They plan to marrying in the spring.

- Ans
- 1. plan to marry
 - 2. No improvement
 - 3. plans to marry
 - 4. plan to married

Q.6 Choose the idiom/phrase that can substitute the highlighted group of words meaningfully.

My son was not well yesterday and today I'm **feeling sick**.

- Ans
- 1. Under the weather
 - 2. Call it a day
 - 3. Face the music
 - 4. Break a leg

Q.7 Select the most appropriate word to fill in the blank.

_____ of the shops in the High Street have closed recently.

- Ans
- 1. Most
 - 2. Quite
 - 3. Little
 - 4. Very

Q.8 Select the most appropriate word to fill in the blank.

This _____ a challenging time for us all.

- Ans
- 1. was been
 - 2. are
 - 3. has been
 - 4. had being

Q.9 Select the sentence with no spelling errors.

- Ans
- 1. Napoleon went to great lenthis to craft his image as a benign ruler.
 - 2. Napoleon went to great lengths to craft his image as a benign ruler.
 - 3. Napoleon went to great lengths to craft his image as a benign rouler.
 - 4. Napoleon went to great lengths to craft his image as a benine ruler.

Q.10 Select the incorrectly spelt word from the given sentence.

As a jazz lover, I want people to embrace the music for its entrinsic qualities, not its symbolic resonance.

- Ans
- 1. qualities
 - 2. resonance
 - 3. entrinsic
 - 4. embrace

Q.11 Find the part of the given sentence that has an error in it. If there is no error, choose 'No error'.

My parents are best people, but they get quite emotional sometimes.

- Ans
- 1. but they get
 - 2. No error
 - 3. My parents are best people
 - 4. quite emotional sometimes

Q.12 In the following question, out of the given four alternatives, select the alternative which best expresses the meaning of the Idiom/Phrase.

To be on one's last legs

- Ans
- 1. To be near death
 - 2. To fuss about a trifle
 - 3. To get married soon
 - 4. Last day of work

Q.13 Improve the underlined part of the sentence. Choose 'No improvement' as an answer if the sentence is grammatically correct.

We should enjoyed playing all sorts of games.

- Ans
- 1. enjoy playing
 - 2. enjoy play
 - 3. No improvement
 - 4. enjoyed play

Q.14 Fill in the blank with the correct synonym of the word "lavish":

Her _____ donation to the cause greatly benefited the community.

- Ans
- 1. stingy
 - 2. contradictory
 - 3. generous
 - 4. miserly

Q.15 Find the part of the given sentence that has an error in it. If there is no error, choose 'No error'.

She promises to meet me at her mother's house yesterday.

- Ans
- 1. house yesterday.
 - 2. me at her mother's
 - 3. She promises to meet
 - 4. No error

Comprehension:

Read the passage carefully and select the correct answer for the given blanks out of the four alternatives.

The concentrations of greenhouse gases (GHG) that (1) _____ heat in the Earth's atmosphere rose to record levels (2) _____ 2022, according to the GHG bulletin released by the World Meteorological Organisation (WMO) on November 15, 2023. The rise in concentrations of GHGs is mainly (3) _____ the use of fossil fuels for various human activities.

This would lead to a (4) _____ rise in global average temperatures, sea-level rise, glacial melting and increase in frequency and intensity of rapid-onset extreme weather events (5) _____ torrential rainfall, flash floods, tropical cyclones and heatwaves.

SubQuestion No : 16

Q.16 Select the most appropriate option for blank (1)

- Ans**
- 1. bark
 - 2. waste
 - 3. trap
 - 4. hang

Comprehension:

Read the passage carefully and select the correct answer for the given blanks out of the four alternatives.

The concentrations of greenhouse gases (GHG) that (1) _____ heat in the Earth's atmosphere rose to record levels (2) _____ 2022, according to the GHG bulletin released by the World Meteorological Organisation (WMO) on November 15, 2023. The rise in concentrations of GHGs is mainly (3) _____ the use of fossil fuels for various human activities.

This would lead to a (4) _____ rise in global average temperatures, sea-level rise, glacial melting and increase in frequency and intensity of rapid-onset extreme weather events (5) _____ torrential rainfall, flash floods, tropical cyclones and heatwaves.

SubQuestion No : 17

Q.17 Select the most appropriate option for blank (2)

- Ans**
- 1. of
 - 2. at
 - 3. on
 - 4. in

Comprehension:

Read the passage carefully and select the correct answer for the given blanks out of the four alternatives.

The concentrations of greenhouse gases (GHG) that (1) _____ heat in the Earth's atmosphere rose to record levels (2) _____ 2022, according to the GHG bulletin released by the World Meteorological Organisation (WMO) on November 15, 2023. The rise in concentrations of GHGs is mainly (3) _____ the use of fossil fuels for various human activities.

This would lead to a (4) _____ rise in global average temperatures, sea-level rise, glacial melting and increase in frequency and intensity of rapid-onset extreme weather events (5) _____ torrential rainfall, flash floods, tropical cyclones and heatwaves.

SubQuestion No : 18

Q.18 Select the most appropriate option for blank (3)

- Ans**
- 1. rather than
 - 2. of
 - 3. that
 - 4. due to

Comprehension:

Read the passage carefully and select the correct answer for the given blanks out of the four alternatives.

The concentrations of greenhouse gases (GHG) that (1) _____ heat in the Earth's atmosphere rose to record levels (2) _____ 2022, according to the GHG bulletin released by the World Meteorological Organisation (WMO) on November 15, 2023. The rise in concentrations of GHGs is mainly (3) _____ the use of fossil fuels for various human activities.

This would lead to a (4) _____ rise in global average temperatures, sea-level rise, glacial melting and increase in frequency and intensity of rapid-onset extreme weather events (5) _____ torrential rainfall, flash floods, tropical cyclones and heatwaves.

SubQuestion No : 19

Q.19 Select the most appropriate option for blank (4)

- Ans**
- 1. further
 - 2. far
 - 3. for
 - 4. farther

Comprehension:

Read the passage carefully and select the correct answer for the given blanks out of the four alternatives.

The concentrations of greenhouse gases (GHG) that (1) _____ heat in the Earth's atmosphere rose to record levels (2) _____ 2022, according to the GHG bulletin released by the World Meteorological Organisation (WMO) on November 15, 2023. The rise in concentrations of GHGs is mainly (3) _____ the use of fossil fuels for various human activities.

This would lead to a (4) _____ rise in global average temperatures, sea-level rise, glacial melting and increase in frequency and intensity of rapid-onset extreme weather events (5) _____ torrential rainfall, flash floods, tropical cyclones and heatwaves.

SubQuestion No : 20

Q.20 Select the most appropriate option for blank (5)

- Ans
- 1. such as
 - 2. such
 - 3. so
 - 4. like as

Section : Part-D-Hindi

Q.1 निम्नलिखित वाक्य में रेखांकित भाग के लिए एक सार्थक शब्द ज्ञात कीजिए।

तुम्हें तो किसी से लगाव ही नहीं है।

- Ans
- 1. निर्लिप्त
 - 2. विरक्ति
 - 3. लिप्सु
 - 4. अलगाववादी

Q.2 दिए गए वाक्य में रेखांकित शब्द का तद्भव शब्द ज्ञात कीजिए।

उसकी ग्रीवा में काफी दर्द है।

- Ans
- 1. गर्दन
 - 2. मुहँ
 - 3. गला
 - 4. पैर

Q.3 निम्नलिखित प्रश्न में, चार विकल्पों में से, उस विकल्प का चयन करें जो रिक्त स्थान के लिए सही भाववाचक संज्ञा वाला विकल्प हो।

दीपक ने रंजीत के साथ _____ का निर्वाह किया।

- Ans
- 1. दिखावे
 - 2. खेल
 - 3. शत्रु
 - 4. मित्रता

Q.4 निम्नलिखित प्रश्न में, चार विकल्पों में से, उस विकल्प का चयन करें जो दी गई लोकोक्ति का सही अर्थ वाला विकल्प है।

चार दिन की चाँदनी फिर अँधेरी रात

Ans 1. अन्य से भिन्न होना

2. सुख के समय बहुत थोड़े दिनों के लिए आते हैं

3. मौका निकल जाने पर सहायता के लिए आना

4. अनुभवी होना

Q.5 दिए गए वाक्य में से गलत वर्तनी ज्ञात कीजिए।

श्रुति की दुखभरी कहानी सुनकर मेरी आँखों से आंसु बहने लगे।

Ans 1. कहानी

2. दुख

3. आँखों

4. आंसु

Q.6 निम्नलिखित प्रश्न में, चार विकल्पों में से, उस विकल्प का चयन करें जो कोष्ठक में दिए गए शब्द के विलोम शब्द का सही विकल्प है।
हमें लोगों से बात करते समय हमेशा (कर्कश) _____ वाणी का उपयोग करना चाहिए।

Ans 1. कम

2. कटु

3. मधुर

4. कठोर

Q.7 दिए गए वाक्य में रेखांकित शब्द का विलोम शब्द ज्ञात कीजिए।

सौभाग्य से किसी को ऐसा घर मिलता है।

Ans 1. भावना

2. भाग्यवाती

3. दुर्भाग्य

4. भाग्यवान

Q.8 निम्नलिखित वाक्य में, उस वाक्यांश को पहचानिए जिसमें मात्राओं से संबंधित अशुद्धियाँ हैं। यदि कोई गलती नहीं है तो 'कोई त्रुटि नहीं है' का चुनाव कीजिए।
गाँव अब कस्बों के रूप में और कस्बे शहरों के रूप में विकसित हो रहे हैं और इस प्रकार से अर्थव्यवस्था/ के क्षेत्रों को भी काफी विकास देखने से मिला हो।

- Ans
- 1. विकसित हो रहे हैं और इस प्रकार से अर्थव्यवस्था
 - 2. के क्षेत्रों को भी काफी विकास देखने से मिला हो
 - 3. कोई त्रुटि नहीं है
 - 4. गाँव अब कस्बों के रूप में और कस्बे शहरों के रूप में

Q.9 निम्नलिखित प्रश्न में, चार विकल्पों में से, उस विकल्प का चयन करें जो कोष्ठक में दिए गये शब्द के विलोम शब्द का सही विकल्प हो। हमें (दुर्भावना) को त्यागकर _____ को अपनाना चाहिए।

- Ans
- 1. दुस्कामना
 - 2. सदभावना
 - 3. विकृति
 - 4. असद्भावना

Q.10 निम्नलिखित प्रश्न में, चार विकल्पों में से, उस विकल्प का चयन करें जो रिक्त स्थान के लिए सही स्त्रीलिंग रूप वाला विकल्प हो। कल सभी उस लड़के की _____ कर रहे थे।

- Ans
- 1. सभा
 - 2. प्रशंसा
 - 3. खुलासा
 - 4. कुशल

Q.11 दिए गए वाक्य में उचित पर्यायवाची शब्द का चयन करके रिक्त स्थान की पूर्ति करें।
_____ (राजासन) पर बैठते ही वह बदल गया।

- Ans
- 1. मनोहर
 - 2. सिंहासन
 - 3. सुगमता
 - 4. भास्कर

Q.12 दिए गए वाक्य में रेखांकित शब्द का तद्भव शब्द ज्ञात कीजिए।
त्वम् मेरे भाई हो।

- Ans
- 1. तुझसे
 - 2. तुझे
 - 3. तुम
 - 4. मैं

Q.13 निम्नलिखित प्रश्न में, दिए गए चार विकल्पों में से, उस विकल्प का चयन करें जो दिए गए मुहावरे के अर्थ को सर्वश्रेष्ठ रूप से व्यक्त करता है।
अंग-अंग टूटना

- Ans
- 1. पैर में दर्द होना
 - 2. बदन में चोट लगना
 - 3. थकावट से बदन में दर्द होना
 - 4. चोट लगना

Q.14 दिए गए वाक्य में उचित पर्यायवाची शब्द का चयन करके रिक्त स्थान की पूर्ति करें।
यह तो काफी _____ (आसान) प्रश्न है।

- Ans
- 1. अंगना
 - 2. जाहिर
 - 3. सरल
 - 4. शांत

Q.15 दिए गए वाक्यांश के लिए सार्थक शब्द ज्ञात कीजिए।

जहां आसानी से पहुंचा जा सके

- Ans
- 1. सरल
 - 2. दुर्गम
 - 3. सूगम
 - 4. सुगम

Comprehension:

नीचे दिए गये गद्यांश में कुछ शब्द छोड़ दिये गए हैं, प्रत्येक अनुच्छेद के सामने चार विकल्प दिये गए हैं। इस गद्यांश को ध्यानपूर्वक पढ़ें और चार विकल्पों में से सर्वोत्तम उत्तर वाला विकल्प चुनें।
वन प्राणियों के लिए कितने आवश्यक हैं, ये सभी को पता है। कहा भी गया है कि वन ही जीवन है। इतना समझने के बावजूद भी दिन-प्रतिदिन वनों की _____ कटाई होती है। यह समस्या दिन-प्रतिदिन _____ रूप धारण करती जा रही है। जंगल मूल रूप से भूमि का एक टुकड़ा है जिसमें बड़ी संख्या में वृक्ष और पौधों की विभिन्न किस्में शामिल हैं। प्रकृति की ये खूबसूरत रचनाएँ _____ की विभिन्न प्रजातियों के लिए घर का काम करती हैं। जंगल पृथ्वी के पारिस्थितिक तंत्र का एक अनिवार्य हिस्सा हैं। वे ग्रह की _____ को बनाए रखने में मदद करते हैं, वातावरण को शुद्ध करते हैं, वाटरशेड की रक्षा करते हैं। वे जानवरों के लिए एक _____ आवास और लकड़ी के एक प्रमुख स्रोत हैं जो कि हमारे दिन-प्रतिदिन जीवन में उपयोग किए जाने वाले कई उत्पादों के उत्पादन के लिए उपयोग की जाती है।

SubQuestion No : 16

Q.16 इतना समझने के बावजूद भी दिन-प्रतिदिन वनों की _____ कटाई होती है।

- Ans
- 1. कम से कम
 - 2. अंधाधुंध
 - 3. आवश्यकतानुसार
 - 4. मज़ेदार

Comprehension:

नीचे दिए गये गद्यांश में कुछ शब्द छोड़ दिये गए हैं, प्रत्येक अनुच्छेद के सामने चार विकल्प दिये गए हैं। इस गद्यांश को ध्यानपूर्वक पढ़ें और चार विकल्पों में से सर्वोत्तम उत्तर वाला विकल्प चुनें।
वन प्राणियों के लिए कितने आवश्यक हैं, ये सभी को पता है। कहा भी गया है कि वन ही जीवन है। इतना समझने के बावजूद भी दिन-प्रतिदिन वनों की _____ कटाई होती है। यह समस्या दिन-प्रतिदिन _____ रूप धारण करती जा रही है। जंगल मूल रूप से भूमि का एक टुकड़ा है जिसमें बड़ी संख्या में वृक्ष और पौधों की विभिन्न किस्में शामिल हैं। प्रकृति की ये खूबसूरत रचनाएँ _____ की विभिन्न प्रजातियों के लिए घर का काम करती हैं। जंगल पृथ्वी के पारिस्थितिक तंत्र का एक अनिवार्य हिस्सा हैं। वे ग्रह की _____ को बनाए रखने में मदद करते हैं, वातावरण को शुद्ध करते हैं, वाटरशेड की रक्षा करते हैं। वे जानवरों के लिए एक _____ आवास और लकड़ी के एक प्रमुख स्रोत हैं जो कि हमारे दिन-प्रतिदिन जीवन में उपयोग किए जाने वाले कई उत्पादों के उत्पादन के लिए उपयोग की जाती है।

SubQuestion No : 17

Q.17 यह समस्या दिन-प्रतिदिन _____ रूप धारण करती जा रही है।

- Ans
- 1. सामान्य
 - 2. नया
 - 3. विकराल
 - 4. साधारण

Comprehension:

नीचे दिए गये गद्यांश में कुछ शब्द छोड़ दिये गए हैं, प्रत्येक अनुच्छेद के सामने चार विकल्प दिये गए हैं। इस गद्यांश को ध्यानपूर्वक पढ़ें और चार विकल्पों में से सर्वोत्तम उत्तर वाला विकल्प चुनें।
वन प्राणियों के लिए कितने आवश्यक हैं, ये सभी को पता है। कहा भी गया है कि वन ही जीवन है। इतना समझने के बावजूद भी दिन-प्रतिदिन वनों की _____ कटाई होती है। यह समस्या दिन-प्रतिदिन _____ रूप धारण करती जा रही है। जंगल मूल रूप से भूमि का एक टुकड़ा है जिसमें बड़ी संख्या में वृक्ष और पौधों की विभिन्न किस्में शामिल हैं। प्रकृति की ये खूबसूरत रचनाएँ _____ की विभिन्न प्रजातियों के लिए घर का काम करती हैं। जंगल पृथ्वी के पारिस्थितिक तंत्र का एक अनिवार्य हिस्सा हैं। वे ग्रह की _____ को बनाए रखने में मदद करते हैं, वातावरण को शुद्ध करते हैं, वाटरशेड की रक्षा करते हैं। वे जानवरों के लिए एक _____ आवास और लकड़ी के एक प्रमुख स्रोत हैं जो कि हमारे दिन-प्रतिदिन जीवन में उपयोग किए जाने वाले कई उत्पादों के उत्पादन के लिए उपयोग की जाती है।

SubQuestion No : 18

Q.18 प्रकृति की ये खूबसूरत रचनाएँ _____ की विभिन्न प्रजातियों के लिए घर का काम करती हैं।

- Ans
- 1. मनुष्यों
 - 2. नदियों
 - 3. पहाड़ों
 - 4. जानवरों

Comprehension:

नीचे दिए गये गद्यांश में कुछ शब्द छोड़ दिये गए हैं, प्रत्येक अनुच्छेद के सामने चार विकल्प दिये गए हैं। इस गद्यांश को ध्यानपूर्वक पढ़ें और चार विकल्पों में से सर्वोत्तम उत्तर वाला विकल्प चुनें।
वन प्राणियों के लिए कितने आवश्यक हैं, ये सभी को पता है। कहा भी गया है कि वन ही जीवन है। इतना समझने के बावजूद भी दिन-प्रतिदिन वनों की _____ कटाई होती है। यह समस्या दिन-प्रतिदिन _____ रूप धारण करती जा रही है। जंगल मूल रूप से भूमि का एक टुकड़ा है जिसमें बड़ी संख्या में वृक्ष और पौधों की विभिन्न किस्में शामिल हैं। प्रकृति की ये खूबसूरत रचनाएँ _____ की विभिन्न प्रजातियों के लिए घर का काम करती हैं। जंगल पृथ्वी के पारिस्थितिक तंत्र का एक अनिवार्य हिस्सा हैं। वे ग्रह की _____ को बनाए रखने में मदद करते हैं, वातावरण को शुद्ध करते हैं, वाटरशेड की रक्षा करते हैं। वे जानवरों के लिए एक _____ आवास और लकड़ी के एक प्रमुख स्रोत हैं जो कि हमारे दिन-प्रतिदिन जीवन में उपयोग किए जाने वाले कई उत्पादों के उत्पादन के लिए उपयोग की जाती है।

SubQuestion No : 19

Q.19 वे ग्रह की _____ को बनाए रखने में मदद करते हैं।

- Ans
- 1. आवश्यकता
 - 2. जलवायु
 - 3. विश्वसनीयता
 - 4. गहराई

Comprehension:

नीचे दिए गये गद्यांश में कुछ शब्द छोड़ दिये गए हैं, प्रत्येक अनुच्छेद के सामने चार विकल्प दिये गए हैं। इस गद्यांश को ध्यानपूर्वक पढ़ें और चार विकल्पों में से सर्वोत्तम उत्तर वाला विकल्प चुनें।
वन प्राणियों के लिए कितने आवश्यक हैं, ये सभी को पता है। कहा भी गया है कि वन ही जीवन है। इतना समझने के बावजूद भी दिन-प्रतिदिन वनों की _____ कटाई होती है। यह समस्या दिन-प्रतिदिन _____ रूप धारण करती जा रही है। जंगल मूल रूप से भूमि का एक टुकड़ा है जिसमें बड़ी संख्या में वृक्ष और पौधों की विभिन्न किस्में शामिल हैं। प्रकृति की ये खूबसूरत रचनाएँ _____ की विभिन्न प्रजातियों के लिए घर का काम करती हैं। जंगल पृथ्वी के पारिस्थितिक तंत्र का एक अनिवार्य हिस्सा हैं। वे ग्रह की _____ को बनाए रखने में मदद करते हैं, वातावरण को शुद्ध करते हैं, वाटरशेड की रक्षा करते हैं। वे जानवरों के लिए एक _____ आवास और लकड़ी के एक प्रमुख स्रोत हैं जो कि हमारे दिन-प्रतिदिन जीवन में उपयोग किए जाने वाले कई उत्पादों के उत्पादन के लिए उपयोग की जाती है।

SubQuestion No : 20

Q.20 वे जानवरों के लिए एक _____ आवास और लकड़ी के एक प्रमुख स्रोत हैं।

- Ans
- 1. कभी-कभी
 - 2. प्राकृतिक
 - 3. शारीरिक
 - 4. मानव निर्मित