

	www.exammix.com
Exam Date	16/11/2021
Exam Time :	12:30 PM - 2:00 PM
Subject	Constable GD 2021

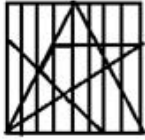
Section : Part A General Intelligence and Reasoning

Q.1 उस विकल्प का चयन कीजिए जिसमें दी गई आकृति सन्निहित है। (आकृति को घुमाने की अनुमति नहीं है)



Ans

✓ 1.



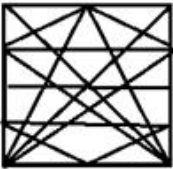
✗ 2.



✗ 3.



✗ 4.



Question ID : 65497829491

Status : Answered

Chosen Option : 1

Q.2 यदि किसी वग.का विकण 4 cm बढ़ाया जाता है, तो इसका े फल 56 cm² बढ़ जाता है। नये वग के े फल और आरंभिक वग के े फल का अनुपात I त कीजिए।

Ans ✗ 1. 18 : 11

✗ 2. 12 : 5

✓ 3. 16 : 9

✗ 4. 13 : 8

Question ID : 65497829485

Status : Answered

Chosen Option : 3

Q.3 उस विक का चयन कीजिए, जिसका तीसरे पद से वही संबंध है, जो दूसरे पद का पहले पद से है।

ZYGOTE : ZYTOGE :: SEQUENCE : ?

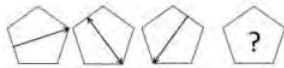
- Ans
- 1. SUQNEEEC
 - 2. USNQEEEC
 - 3. USQENCEE
 - 4. USQNEEEC

Question ID : 65497829504

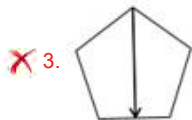
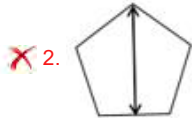
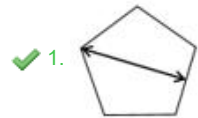
Status : Answered

Chosen Option : 3

Q.4 दिए गए विकल्पों में से उस आकृति का चयन करें जो नीचे दी गई श्रृंखला में प्रश्न चिह्न (?) के स्थान पर आ सकती है।



Ans



Question ID : 65497829495

Status : Answered

Chosen Option : 1

Q.5 दिए गए विकल्पों में से उस अक्षर-समूह का चयन कर, जो निम्नलिखित श्रृंखला में वाक्य चिह्न (?) के स्थान पर आ सकता है।

IOM, NTR, SYW, ?

- Ans
- 1. XDB
 - 2. NSX
 - 3. OTZ
 - 4. JPN

Question ID : 65497829496

Status : Answered

Chosen Option : 1

Q.6 O, P, Q, R, S, T और U एक पं म उ र की ओर मुँह करके बैठे ए ह। U, T के दाईं ओर बगल म बैठा है। Q, R और O के बीच बैठा है। P, जो दाएं छोर पर है, O के दाएं बगल म बैठा है। S, R के बाईं ओर बगल म बैठा है। पं के बीच म कौन बैठा है?

- Ans
- 1. T
 - 2. S
 - 3. Q
 - 4. R

Question ID : 65497829498
Status : Answered
Chosen Option : 4

Q.7 अ रों के उस संयोजन का चयन कर जो दी गई ँखला के र थान म मिक प से रखे जाने पर ँखला को पूण करेगा।

A _ _ B _ _ A B _ C A _ B B C

- Ans
- 1. B, A, B, A, C, B
 - 2. B, B, C, C, A, B
 - 3. B, C, A, A, A, B
 - 4. A, B, C, A, B, A

Question ID : 65497829493
Status : Answered
Chosen Option : 4

Q.8 दिए गए संयोजन के सही दर्पण प्रतिबिंब का चयन करें जब दर्पण को निम्नांकित चित्रानुसार 'PQ' पर रखा गया है।

MERCHANT
P
Q

- Ans
- 1. MEBCHNIT
 - 2. TИCHNEM
 - 3. TИAHCEM
 - 4. MEBVHCIT

Question ID : 65497829503
Status : Answered
Chosen Option : 3

Q.9 दिए गए विक र्णों म से उस सं ा का चयन कर, जो नि लिख त ँखला म वाचक चि (?) के थान पर आ सकती है।

5, 9, 18, 34, ?, 95

- Ans
- 1. 65
 - 2. 59
 - 3. 69
 - 4. 63

Question ID : 65497829502
Status : Answered
Chosen Option : 3

Q.10 एक निम्नलिखित कूट भाषा में GAME को TUZANOVW लिखा जाता है और CAR को XYZAIJ लिखा जाता है। उसी कूट भाषा में POST को किस प्रकार लिखा जाएगा?

- Ans
- 1. QRPQTUUV
 - 2. OQNPRTSV
 - 3. KLLMHIGH
 - 4. KLMNJKGH

Question ID : 65497829505
Status : Answered
Chosen Option : 3

Q.11 दिए गए कथनों और निष्कर्षों को ध्यान से पढ़ें। यह मानते हैं कि कथनों में दी गई जानकारी सही है, भले ही यह सामान्य तथ्यों से भिन्न हो सकती हो, यह निर्णय लें कि दिए गए निष्कर्ष में से कौन सा / कौन से निष्कर्ष कथनों का तार्किक निष्कर्ष से अनुसरण करता है / करते हैं।

कथन:

कुछ बिजली पशु हैं।
सभी पशु पौधे हैं।

निष्कर्ष:

- I. सभी बिजली पशु पौधे हैं।
- II. कुछ पौधे बिजली पशु हैं।
- III. कुछ पौधे पशु हैं।
- IV. सभी पशु बिजली पशु हैं।

- Ans
- 1. केवल निष्कर्ष I, II और III अनुसरण करते हैं।
 - 2. केवल निष्कर्ष II और III अनुसरण करते हैं।
 - 3. केवल निष्कर्ष I अनुसरण करता है।
 - 4. सभी निष्कर्ष अनुसरण करते हैं।

Question ID : 65497829483
Status : Answered
Chosen Option : 2

Q.12 एक निम्नलिखित कूट भाषा में 'MANGO' को 'QERKS' के रूप में लिखा जाता है और 'APPLE' को 'ETTP' के रूप में लिखा जाता है। उसी भाषा में 'GUAVA' को किस रूप में लिखा जाएगा?

- Ans
- 1. KYEZE
 - 2. KYGZE
 - 3. KYFXF
 - 4. KXEZE

Question ID : 65497829482
Status : Answered
Chosen Option : 1

Q.13 उस विकल्प का चयन कीजिए जो तीसरी संख्या से उसी प्रकार संबंधित है जिस प्रकार दूसरी संख्या पहली संख्या से संबंधित है।

20 : 480 :: 25 : ?

- Ans
- 1. 725
 - 2. 655
 - 3. 625
 - 4. 700

Question ID : 65497829488
Status : Answered
Chosen Option : 1

Q.14 एक विशिष्ट कूट भाषा में, 'PHENYL' का कोड '9-11-17-8-5-13' और 'COLONY' का कोड '6-12-13-12-8-5' है। इसी कूट भाषा में 'COLONEL' का कोड होगा?

Ans 1. 6-12-13-12-8-17-13

2. 6-17-12-13-8-13-11

3. 6-12-12-13-8-11-13

4. 6-12-12-13-8-17-13

Question ID : 65497829501

Status : Answered

Chosen Option : 1

Q.15 विक्रम में चार संतानों का जन्म हुआ, जिनमें से तीन किसी तरह से संगत हैं और कोई एक असंगत है। असंगत संतानों का चयन कीजिए।

Ans 1. (54, 73, 90)

2. (21, 40, 57)

3. (39, 48, 75)

4. (46, 65, 82)

Question ID : 65497829484

Status : Answered

Chosen Option : 1

Q.16 निम्नलिखित चार अक्षर-समूहों में से तीन किसी न किसी कारण से संगत हैं और कोई एक असंगत है। उस अक्षर-समूह का चयन कर, जो असंगत है।

Ans 1. FDB

2. USP

3. OMK

4. JHF

Question ID : 65497829500

Status : Answered

Chosen Option : 2

Q.17 अदिति, संकेत की पुत्री है। वृषि, अंकित की पुत्री है। कृति, माही की मां है। नीता, संकेत की पत्नी है। नीता, वृषि की मां कृति की सास है। निम्नलिखित में से कौन सा कथन सही नहीं है?

Ans 1. वृषि, माही की बहन है।

2. अदिति, नीता की पुत्री है।

3. कृति, संकेत की पुत्री है।

4. अंकित, माही का पिता है।

Question ID : 65497829506

Status : Answered

Chosen Option : 4

Q.18 छः मित्र एक सीधी पंक्ति में बैठे हैं। E दाएं सिरे से चौथे स्थान पर बैठा है। E, B और D के बीच में बैठा है। A, B के बगल में बैठा है। D, C के बगल में बैठा है। D, E और C के बीच में बैठा है। F, C के बगल में बैठा है। F और D के बीच में कौन बैठा है?

Ans 1. E

2. B

3. A

4. C

Question ID : 65497829487

Status : Answered

Chosen Option : 4

Q.19 जिस कार ' योगकता', ' योगशाला' से संबंधित है, उसी कार 'बावच', ' _____' से संबंधित है।

- Ans 1. भोजन
 2. ंजन
 3. रसोई
 4. खाना बनाना

Question ID : 65497829497
Status : Answered
Chosen Option : 3

Q.20 यदि 'A' का अर्थ 'जोड़' है, 'B' का अर्थ 'गुणा' है, 'C' का अर्थ 'घटाना' है, और 'D' का अर्थ 'भाग' है, तो नि यंजक का मान कितना होगा?

100 D (1 B 4) A 2 B (13 A 11) C 3 B (17 C 12)

- Ans 1. 60
 2. 52
 3. 49
 4. 58

Question ID : 65497829489
Status : Answered
Chosen Option : 4

Q.21 उस विक का चयन कीजिए जिसमें नीचे दिए गए श ों के अंेजी श कोश का अनु म दिया गया है।

1. Dermatitis
2. Desistance
3. Derogation
4. Descendant
5. Dereliction

- Ans 1. 5, 1, 3, 4, 2
 2. 5, 2, 1, 3, 4
 3. 5, 4, 1, 3, 2
 4. 5, 1, 3, 2, 4

Question ID : 65497829492
Status : Answered
Chosen Option : 1

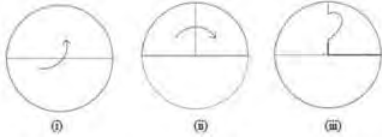
Q.22 दिए गए विक ों में से उस सं 1 का चयन कर जो नि लिख त ंखला में चि (?) के थान पर आ सकती है।

153, 149, 143, 135, ?

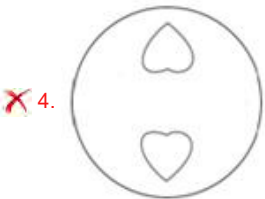

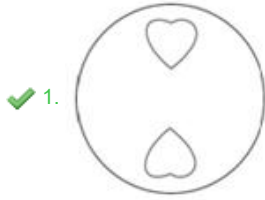
- Ans 1. 125
 2. 131
 3. 129
 4. 127

Question ID : 65497829494
Status : Answered
Chosen Option : 1

Q.23 नीचे दी गई आकृतियों में कागज़ के एक टुकड़े को मोड़ने और मोड़े गए कागज़ को काटने के तरीके का क्रम दर्शाया गया है। कागज़ को खोले जाने पर वह कैसा दिखाई देगा?



Ans



Question ID : 65497829486

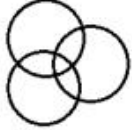
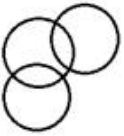
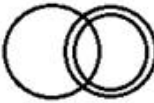

Status : Answered

Chosen Option : 1

Q.24 उस वेन आरेख का चयन करें, जो निम्नलिखित वर्गों के बीच के संबंध को सबसे अच्छे तरीके से दर्शाता है।

विद्यालय, शिक्षक, कर्मचारी

Ans

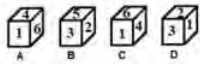
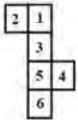
- ✓ 1. 
- ✗ 2. 
- ✗ 3. 
- ✗ 4. 

Question ID : 65497829499

Status : Answered

Chosen Option : 3

Q.25 उस पासे / उन पासों का चयन कीजिए जिसे / जिन्हें दी गई शीट को रेखाओं पर मोड़कर बनाया जा सकता है।



Ans

- ✗ 1. केवल B और D
- ✓ 2. केवल B, C और D
- ✗ 3. केवल A और C
- ✗ 4. केवल B

Question ID : 65497829490

Status : Answered

Chosen Option : 4

Section : Part B General Knowledge and General Awareness

Q.1 ऐसा मलिक एक भारतीय _____ ख लाड़ी ह।

Ans

- ✗ 1. शतरंज
- ✗ 2. वॉलीबॉल
- ✓ 3. गो
- ✗ 4. बाँटे टर्बोल

Question ID : 65497829524

Status : Answered

Chosen Option : 1

Q.2 निम्नलिखित में से कौन-सी अधातु बहुपरमाण्विक (poly-atomic) है?

- Ans
- 1. आर्गन
 - 2. हीलियम
 - 3. सल्फर
 - 4. ऑक्सीजन

Question ID : 65497829525

Status : Answered

Chosen Option : 2

Q.3 जुलाई 2019 में, विंगसूट पहनकर उड़ान भरने वाले/वाली प्रथम भारतीय वायु सेना पायलट का नाम क्या है?

- Ans
- 1. रेचेल थॉमस
 - 2. तन्वी चोधरी
 - 3. शीतल महाजन राणे
 - 4. अचना सरदाना

Question ID : 65497829518

Status : Answered

Chosen Option : 4

Q.4 _____ ने अगस्त 2021 में मेजर अनिल नेशनल गैलियम, नई दिल्ली में आयोजित एक कार्यक्रम में फिट इंडिया मोबाइल ऐप लॉन्च किया।

- Ans
- 1. उषा शर्मा
 - 2. निसिथ माणिक
 - 3. अनुराग सिंह ठाकुर
 - 4. रवि मिश्रा

Question ID : 65497829530

Status : Answered

Chosen Option : 3

Q.5 भारत सरकार द्वारा पशुधनभोगियों के लिए शुरू की गई एक बायोमेट्रिक समाप्ति डिजिटल सेवा निम्नलिखित में से कौन सी है?

- Ans
- 1. जीवन माप
 - 2. धानमी सुधार योजना
 - 3. धानमी जन धन योजना
 - 4. धानमी जीवन शैली बीमा योजना

Question ID : 65497829509

Status : Answered

Chosen Option : 1

Q.6 निम्नलिखित में से कौन सा विक्रमोद्भव साक्ष्य के शासकों के सही कालानुक्रमिक क्रम को दर्शाता है?

- Ans
- 1. अशोक - बृहद्रथ - चंद्रगुप्त - बिंदुसार
 - 2. बृहद्रथ - चंद्रगुप्त - बिंदुसार - अशोक
 - 3. बिंदुसार - चंद्रगुप्त - अशोक - बृहद्रथ
 - 4. चंद्रगुप्त - बिंदुसार - अशोक - बृहद्रथ

Question ID : 65497829528

Status : Answered

Chosen Option : 4

Q.7 उ र देश की कैबिनेट ने _____ के एक I पी उ न का नाम तं ता सेनानी और ितिकारी अशफाकउ ि खान के नाम पर रखने के िव को मंजूरी दी है।

- Ans
- 1. फैजाबाद
 - 2. गोरखपुर
 - 3. गाज़ियाबाद
 - 4. शाहजहांपुर

Question ID : 65497829517
Status : Answered
Chosen Option : 4

Q.8 भारत सरकार ने वर्ष _____ म आयु न भारत धान मी जन आरो योजना (AB-PM-JAY) को मंजूरी दी।

- Ans
- 1. 2018
 - 2. 2014
 - 3. 2015
 - 4. 2019

Question ID : 65497829531
Status : Answered
Chosen Option : 4

Q.9 'कोदस ऑफ़ इंडिया: पा टू ेजट' नामक पु क के लेखक कौन ह?

- Ans
- 1. जयंत कलिता
 - 2. शशि थ र
 - 3. स िथ नायक
 - 4. रंजन गोगोई

Question ID : 65497829515
Status : Answered
Chosen Option : 4

Q.10 30 अ ूबर, 2020 को ज ू और क ीर के रा चुनाव आयु के प म किसे नियु किया गया था?

- Ans
- 1. मनोज कुमार
 - 2. शुंजय कुमार सिंह
 - 3. वी भा रन
 - 4. केवल कुमार शमा

Question ID : 65497829520
Status : Answered
Chosen Option : 1

Q.11 भारतीय जीवन बीमा निगम अधिनियम, संसद ि रा _____ म पार त किया गया था।

- Ans
- 1. 1965
 - 2. 1948
 - 3. 1971
 - 4. 1956

Question ID : 65497829529
Status : Answered
Chosen Option : 4

Q.12 भारतीय संविधान के 44व संशोधन अधिनियम, 1978 के तहत नि लिख त म से कौन सा एक मौलिक अधिकार नहीं है?

- Ans
- 1. धम का अधिकार
 - 2. समानता का अधिकार
 - 3. शोषण के ख लाफ अधिकार
 - 4. संपत्ि का अधिकार

Question ID : 65497829519
Status : Answered
Chosen Option : 4

Q.13 महानदी नदी के बारे म नि लिख त म से कौन सा कथन गलत है?

- Ans
- 1. यह छी सगढ़ के पहाड़ी इलाकों से निकलती है।
 - 2. इसके जल हण े का कुछ हि ा महारा म थ त है।
 - 3. यह अरब सागर म गिरती है।
 - 4. यह लगभग 860 km लंबी है।

Question ID : 65497829522
Status : Answered
Chosen Option : 3

Q.14 The money value of all the final goods and services produced within the country during a particular year is called _____.

- Ans
- 1. net Domestic Product
 - 2. per capita income
 - 3. national Income
 - 4. gross Domestic Product

Question ID : 65497829511
Status : Answered
Chosen Option : 4

Q.15 'ला लीगा (La Liga)' ख ताब _____ से संबंधित है।

- Ans
- 1. दौड़
 - 2. टेनिस
 - 3. फुटबॉल
 - 4. िकेट

Question ID : 65497829508
Status : Answered
Chosen Option : 3

Q.16 नि लिख त म से किस रा ने जनवरी 2020 म 71 व गणतं दिवस परेड म 'सव े झांकी' का पुर ार जीता?

- Ans
- 1. उ र देश
 - 2. असम
 - 3. ओडिशा
 - 4. गोवा

Question ID : 65497829523
Status : Answered
Chosen Option : 4

Q.17 किसी वृत्त के रण को तब _____ कहा जाता है जब वह वृत्त एक सीधी रेखा में गति करती है और समय के नियमित अंतराल में उसका वेग बढ़ता या घटता रहता है।

- Ans
- 1. धनांक
 - 2. ऋणांक
 - 3. एकसमान
 - 4. असमान

Question ID : 65497829516
Status : Answered
Chosen Option : 3

Q.18 निम्नलिखित में से सर्वाधिक अभिजातीय धातु कौन सी है?

- Ans
- 1. पोटैशियम
 - 2. आयरन
 - 3. एरुमीनियम
 - 4. सिलिकॉन

Question ID : 65497829513
Status : Answered
Chosen Option : 2

Q.19 होजेनकल जलपात (Hogenakkal Falls) किस राज्य में स्थित है?

- Ans
- 1. तमिलनाडु
 - 2. महाराष्ट्र
 - 3. आंध्र प्रदेश
 - 4. केरल

Question ID : 65497829507
Status : Answered
Chosen Option : 4

Q.20 _____, जट्टक (या झट्टक) {Jnatrika (or Jhatrika)} क्षत्रिय वंश के मुख के पुत्र थे।

- Ans
- 1. गौतम बुद्ध
 - 2. वधमान महावीर
 - 3. पार्श्वनाथ
 - 4. ऋषभनाथ

Question ID : 65497829527
Status : Answered
Chosen Option : 3

Q.21 1857 तक _____ भारत के मुगल सार्वभौमिकों का लगभग 200 वर्ष तक निवास स्थान रह चुका था।

- Ans
- 1. परी महल
 - 2. लाल किला
 - 3. आगरा का किला
 - 4. जहांगीर महल

Question ID : 65497829521
Status : Answered
Chosen Option : 3

Q.22 1865 म नि लिख त म से किसे बॉ े का पहला नगर आयु नियु किया गया था?

- Ans
- 1. चा एटकिंसन
 - 2. विलियम हंटर
 - 3. एच फाउलर
 - 4. आथर ॉफड

Question ID : 65497829510
Status : Answered
Chosen Option : 3

Q.23 नि लिख त म से किस रा म भोरमदेव मंदिर थ त है, जहाँ ेक वष माच के अंतिम स ाह म 'भोरमदेव महो व' मनाया जाता है?

- Ans
- 1. तमिलनाडु
 - 2. कनाटक
 - 3. छी सगढ़
 - 4. पंि म बंगाल

Question ID : 65497829512
Status : Answered
Chosen Option : 3

Q.24 नि लिख त म से किस देश ने 2020 आई.सी.सी. (ICC) अंडर 19 िकेट वि कप के 13 व सं रण की मेजबानी की?

- Ans
- 1. भारत
 - 2. ऑ ेलिया
 - 3. इंगलड
 - 4. दणि अीका

Question ID : 65497829526
Status : Answered
Chosen Option : 1

Q.25 नि लिख त म से कौन सा जंतु अपनी चाा रा सन करता है?

- Ans
- 1. हिरण
 - 2. खरगोश
 - 3. मोर
 - 4. मढक

Question ID : 65497829514
Status : Answered
Chosen Option : 4

Section : Part C Elementary Mathematics

Q.1 A और B किसी काम को 120 दिनों में पूरा कर सकते हैं, B और C इसे 150 दिनों में पूरा कर सकते हैं तथा A और C इसे 200 दिनों में पूरा कर सकते हैं। B अकेले उस काम का $\frac{2}{5}$ वां हिस्सा कितने दिनों में पूरा कर पाएगा?

- Ans
- 1. 80
 - 2. 200
 - 3. 100
 - 4. 175

Question ID : 65497829547
Status : Answered
Chosen Option : 1

Q.2 A किसी कार्य का $\frac{2}{5}$ भाग, 6 दिन में कर सकता है और B उसी कार्य का 30% भाग, 3 दिन में कर सकता है। उन्होंने 4 दिन तक एक साथ काम किया। शेष कार्य अकेले C द्वारा 6 दिन में पूरा किया गया। B और C मिलकर मूल कार्य का 70% भाग _____ में पूरा कर सकते हैं।

- Ans
- 1. 5 दिन
 - 2. $5\frac{1}{2}$ दिन
 - 3. $4\frac{1}{2}$ दिन
 - 4. 4 दिन

Question ID : 65497829553
Status : Answered
Chosen Option : 2

Q.3 दो संख्याओं का अनुपात 9 : 5 है। यदि बड़ी संख्या में 8 जोड़ा जाता है और छोटी संख्या में से 4 घटाया जाता है, तो बड़ी संख्या छोटी संख्या से दोगुनी हो जाती है। वह बड़ी संख्या निम्न में से कौन सी है?

- Ans
- 1. 104
 - 2. 144
 - 3. 110
 - 4. 114

Question ID : 65497829538
Status : Answered
Chosen Option : 2

Q.4 एक वस्तु को अंकित मूल्य पर 20% छूट के बाद ₹120 में बेचा गया। यदि छूट नहीं दी जाती, तो इस पर 20% का लाभ होता। वस्तु का क्रय मूल्य ज्ञात करें।

- Ans
- 1. ₹120
 - 2. ₹125
 - 3. ₹100
 - 4. ₹130

Question ID : 65497829550
Status : Answered
Chosen Option : 3

Q.5 $42 \div 9$ of $6 - [64 \div 48 \times 3 - 15 \div 8 \times (11 - 17) \div 9] \div 14$ का मान ज्ञात कीजिए।

- Ans
- 1. $\frac{19}{36}$
 - 2. $\frac{7}{18}$
 - 3. $\frac{29}{72}$
 - 4. $\frac{5}{12}$

Question ID : 65497829551
Status : Answered
Chosen Option : 2

Q.6 एक व्यक्ति दो वस्तुएँ बेचता है जिनमें से प्रत्येक का मूल्य ₹9,180 है। उसे एक वस्तु पर 8% का लाभ होता है और दूसरी वस्तु पर 15% की हानि होती है। उसका कुल लाभ या हानि कितना है?

- Ans
- 1. ₹940 की हानि
 - 2. ₹840 की हानि
 - 3. ₹940 का लाभ
 - 4. ₹840 का लाभ

Question ID : 65497829532
Status : Answered
Chosen Option : 2

Q.7 निम्नलिखित का मान बताइए।
 $523 + 523 \times 523 \div 523$

- Ans
- 1. 1046
 - 2. 1005
 - 3. 1542
 - 4. 1235

Question ID : 65497829542
Status : Answered
Chosen Option : 1

Q.8 4, 6, 8, 12 और x का औसत 7 है और x , 9, 13, 15 और y का औसत 9 है। $2x - 3y$ का मान कितना होगा?

- Ans
- 1. 3
 - 2. 1
 - 3. 5
 - 4. 19

Question ID : 65497829544
Status : Answered
Chosen Option : 2

Q.9 यदि एक निश्चित धनराशि पर 9% वार्षिक व्याज दर से दो वर्ष का चक्रवृद्धि व्याज ₹3,762 है, तो वह धनराशि कितनी है?

- Ans
- 1. ₹18,000
 - 2. ₹25,000
 - 3. ₹20,000
 - 4. ₹24,000

Question ID : 65497829533
Status : Answered
Chosen Option : 2

Q.10 तीन संख्याएँ 4 : 9 : 13 के अनुपात में हैं और इनका लघुत्तम समापवर्त्य (LCM) 2340 है। इनका महत्तम समापवर्तक (HCF) कितना होगा?

- Ans
- 1. 5
 - 2. 4
 - 3. 3
 - 4. 7

Question ID : 65497829534
Status : Answered
Chosen Option : 2

Q.11 एक कार के मूल्य में 5% की वृद्धि होने पर उसकी बिक्री 16% कम हो जाती है। कुल राजस्व पर पड़ने वाले प्रतिशत प्रभाव की गणना कीजिए।

- Ans
- 1. 5% कमी
 - 2. 5% वृद्धि
 - 3. 9% वृद्धि
 - 4. 9% कमी

Question ID : 65497829546
Status : Answered
Chosen Option : 4

Q.12 वह बड़ी से बड़ी संख्या कौन सी है जिससे 2675 और 2320 को विभाजित करने पर शेषफल क्रमशः 5 और 6 प्राप्त होता है?

- Ans
- 1. 178
 - 2. 168
 - 3. 187
 - 4. 170

Question ID : 65497829536
Status : Answered
Chosen Option : 2

Q.13 विग्नेश अपनी मासिक आय का 42% भोजन पर, 16% मकान के किराए पर, 11% मनोरंजन पर और 7% परिवहन पर खर्च करता है। लेकिन किसी पारिवारिक समारोह के कारण, ₹18,000 के खर्चों की पूर्ति के लिए उसे साहूकार से ₹12,000 उधार लेने पड़े। उसकी मासिक आय कितनी है?

- Ans
- 1. ₹30,000
 - 2. ₹24,000
 - 3. ₹20,000
 - 4. ₹25,000

Question ID : 65497829535
Status : Answered
Chosen Option : 2

Q.14 किसी वायु-यान की चाल 120 km/min है। यह चाल m/sec में कितनी होगी?

- Ans
- 1. 2000
 - 2. 1200
 - 3. 12000
 - 4. 120000

Question ID : 65497829543
Status : Answered
Chosen Option : 1

Q.15 एक निश्चित धनराशि पर $x\%$ वार्षिक साधारण व्याज की दर से 3 वर्षों में प्राप्त मिश्रधन ₹5,472 है और समान राशि पर समान साधारण व्याज की दर से $7\frac{1}{2}$ वर्षों में प्राप्त मिश्रधन ₹6,930 है। x का मान ज्ञात कीजिए।

- Ans
- 1. 8
 - 2. 8.5
 - 3. 6.5
 - 4. 7.2

Question ID : 65497829555
Status : Answered
Chosen Option : 2

Q.16 किसी वस्तु के मूल्य पर 20% की छूट, किसी अन्य वस्तु के मूल्य पर 25% की छूट के बराबर है। दोनों वस्तुओं के मूल्य क्रमशः क्या होंगे?

- Ans
- 1. ₹40 और ₹50
 - 2. ₹50 और ₹40
 - 3. ₹50 और ₹60
 - 4. ₹60 और ₹50

Question ID : 65497829545
Status : Answered
Chosen Option : 2

Q.17 5 वर्ष पूर्व, A, B और C की आयु का अनुपात 4 : 5 : 7 था। उनकी वर्तमान आयु का योग 135 वर्ष है। अब से 3 वर्ष बाद, B और C की आयु का योग (वर्षों में) क्या होगा?

- Ans
- 1. 96
 - 2. 100
 - 3. 112
 - 4. 106

Question ID : 65497829554
Status : Answered
Chosen Option : 1

Q.18 यदि एक त्रिभुज की भुजाएं 21 cm, 35 cm और 28 cm हैं, तो इसकी अंतः त्रिज्या (in radius) की माप कितनी है? (cm में)

- Ans 1. 7 cm
 2. 9 cm
 3. 21 cm
 4. 8 cm

Question ID : 65497829541
Status : Answered
Chosen Option : 1

Q.19 9 और 36 का तृतीयानुपाती कितना है?

- Ans 1. 144
 2. 72
 3. 122
 4. 288

Question ID : 65497829540
Status : Answered
Chosen Option : 1

Q.20 एक दुकानदार के पास कुछ खिलौने हैं। वह दो-तिहाई खिलौनों को 35% के लाभ पर और शेष खिलौनों को 10% की हानि पर बेचता है। उसका कुल प्रतिशत लाभ कितना है?

- Ans 1. 18%
 2. 20%
 3. 16%
 4. 25%

Question ID : 65497829552
Status : Answered
Chosen Option : 2

Q.21 दो ट्रेनें क्रमशः स्थानों A और B से चलना आरंभ करती हैं, और एक दूसरे की ओर क्रमशः 60 km/h और 50 km/h की चाल से यात्रा करती हैं। उनके मिलने से पहले तक तेज चाल वाली ट्रेन ने धीमी चाल वाली ट्रेन से 110 km अधिक दूरी तय की थी। स्थानों A और B के बीच की दूरी कितनी है?

- Ans 1. 1150 km
 2. 1210 km
 3. 1100 km
 4. 1200 km

Question ID : 65497829548
Status : Answered
Chosen Option : 3

Q.22 किसी कक्षा के दो वर्ग A और B हैं, जिनमें क्रमशः 38 और 42 छात्र हैं। यदि वर्ग A के छात्रों का औसत वजन 55 kg और वर्ग B के छात्रों का औसत वजन 32 kg है, तो कक्षा के सभी छात्रों का औसत वजन ज्ञात करें।

- Ans
- 1. 42 kg
 - 2. 44.925 kg
 - 3. 40.925 kg
 - 4. 42.925 kg

Question ID : 65497829537
Status : Answered
Chosen Option : 4

Q.23 किसी धनराशि पर 8% की वार्षिक ब्याज दर पर 5 वर्ष में प्राप्त होने वाला साधारण ब्याज ₹3,040 है। वह धनराशि ज्ञात कीजिए।

- Ans
- 1. ₹7,600
 - 2. ₹8,600
 - 3. ₹7,700
 - 4. ₹6,600

Question ID : 65497829539
Status : Answered
Chosen Option : 1

Q.24 एक त्रिभुजाकार पार्क की भुजाएं 96 m, 110 m और 146 m हैं। इसका क्षेत्रफल उस समचतुर्भुजाकार मैदान के क्षेत्रफल के बराबर है, जिसका एक विकर्ण 60 m है। इसके दूसरे विकर्ण की लंबाई (m में) ज्ञात कीजिए।

- Ans
- 1. 218
 - 2. 132
 - 3. 176
 - 4. 88

Question ID : 65497829556
Status : Answered
Chosen Option : 2

Q.25 एक डीलर ने 4% हानि पर एक वस्तु बेची। यदि उसने इसे ₹120 अधिक में बेचा होता तो उसे 8% का लाभ प्राप्त होता। 11% लाभ प्राप्त करने के लिए उसे वस्तु को किस मूल्य पर बेचना चाहिए?

- Ans
- 1. ₹1,210
 - 2. ₹1,200
 - 3. ₹1,320
 - 4. ₹1,110

Question ID : 65497829549
Status : Answered
Chosen Option : 4

Q.1 Select the option that will improve the underlined part of the given sentence. In case no improvement is needed, select 'No improvement required'.

The new President has bring in many reforms.

- Ans
- 1. brought out
 - 2. bring up
 - 3. brought about
 - 4. No improvement required

Question ID : 65497829573
Status : Not Answered
Chosen Option : --

Q.2 The following sentence has been split into four segments. Identify the segment that contains a grammatical error.

The most important / of all my goals / are to/ learn English.

- Ans
- 1. of all my goals
 - 2. The most important
 - 3. learn English
 - 4. are to

Question ID : 65497829557
Status : Not Answered
Chosen Option : --

Q.3 Select the option that can be used as a one-word substitute for the given group of words.

A person who supervises during an examination

- Ans
- 1. Examinee
 - 2. Administrator
 - 3. Invigilator
 - 4. Principal

Question ID : 65497829576
Status : Not Answered
Chosen Option : --

Q.4 Select the most appropriate synonym of the given word.

Submissive

- Ans
- 1. Adamant
 - 2. Obedient
 - 3. Obdurate
 - 4. Obstinate

Question ID : 65497829558
Status : Not Answered
Chosen Option : --

Q.5 Select the option that can be used as a one-word substitute for the given group of words.

Many fish swimming together

- Ans 1. Shoal
 2. Flock
 3. Bevy
 4. Brood

Question ID : 65497829561
Status : Not Answered
Chosen Option : --

Q.6 Select the most appropriate option that can substitute the underlined segment in the given sentence. If there is no need to substitute it, select 'No substitution required'.

The condition of the house had been so deteriorated from lack of maintenance that nobody wanted to purchase it.

- Ans 1. No substitution required
 2. had so deteriorated
 3. was deteriorating
 4. was so deteriorated

Question ID : 65497829572
Status : Not Answered
Chosen Option : --

Q.7 Select the most appropriate option that can substitute the underlined word in the given sentence.

Besides generating revenue, tourism brings a break from the ceremony of daily life.

- Ans 1. symphony
 2. company
 3. monotony
 4. scrutiny

Question ID : 65497829559
Status : Not Answered
Chosen Option : --

Q.8 Select the most appropriate meaning of the given idiom.

Tickled pink

- Ans 1. Very pleased
 2. Very sensitive
 3. Easily teased
 4. Fond of pink

Question ID : 65497829560
Status : Not Answered
Chosen Option : --

Q.9 Select the most appropriate ANTONYM of the given word.

Spellbound

- Ans 1. Captivated
 2. Disenchanted
 3. Enthralled
 4. Amazed

Question ID : 65497829569
Status : Not Answered
Chosen Option : --

Q.10 Select the most appropriate ANTONYM of the given word.

Fictitious

- Ans 1. False
 2. Imaginative
 3. Subjective
 4. Factual

Question ID : 65497829566
Status : Not Answered
Chosen Option : --

Q.11 Select the most appropriate option to fill in the blank.

My sister bought the _____ watch.

- Ans 1. antipathy
 2. antilocal
 3. antique
 4. colloquial

Question ID : 65497829570
Status : Not Answered
Chosen Option : --

Q.12 Select the INCORRECTLY spelt word.

- Ans 1. Tunnel
 2. Wistle
 3. Rustle
 4. Cereal

Question ID : 65497829563
Status : Not Answered
Chosen Option : --

Q.13 Select the option that can be used as a one-word substitute for the given group of words.

One who collects coins

- Ans 1. Numismatist
 2. Fatalist
 3. Anthropologist
 4. Philatelist

Question ID : 65497829567
Status : Not Answered
Chosen Option : --

Q.14 Select the most appropriate meaning of the given idiom.

To be on the same page

- Ans 1. To read a book together
 2. To understand what the other says
 3. To be published together
 4. To agree on something

Question ID : 65497829571
Status : Not Answered
Chosen Option : --

Q.15 Select the most appropriate option to fill in the blank.

She _____ why I had not sent her an invitation.

- Ans 1. granted
 2. enquired
 3. denied
 4. desired

Question ID : 65497829564
Status : Not Answered
Chosen Option : --

Q.16 The following sentence has been split into four segments. Identify the segment that contains a grammatical error.

I wish / I am / the Principal / of the school!

- Ans 1. of the school
 2. I am
 3. I wish
 4. the Principal

Question ID : 65497829565
Status : Not Answered
Chosen Option : --

Q.17 Select the most appropriate SYNONYM of the given word.

Ample

- Ans 1. Scarce
 2. Sufficient
 3. Limited
 4. Sparse

Question ID : 65497829575
Status : Not Answered
Chosen Option : --

Q.18 Select the correctly spelt word.

- Ans 1. Philianthropist
 2. Bureaucracy
 3. Peadeatrician
 4. Asassisnation

Question ID : 65497829568
Status : Not Answered
Chosen Option : --

Q.19 Select the most appropriate option to fill in the blank.

The government should take steps to _____ pollution.

- Ans 1. convey
 2. conduct
 3. control
 4. consume

Question ID : 65497829562
Status : Not Answered
Chosen Option : --

Q.20 The following sentence has been split into four segments. Identify the segment that contains a grammatical error.

We'll look at / your pet / when you go / on a vacation.

- Ans 1. when you go
 2. your pet
 3. on a vacation
 4. We'll look at

Question ID : 65497829574
Status : Not Answered
Chosen Option : --

Comprehension:

In the following passage, some words have been deleted. Read the passage carefully and select the most appropriate option to fill in each blank.

Writing is a form (1)_____, and neat handwriting is important when writing (2)_____ that will be read by someone else. We (3)_____ by the quality of our handwriting, and (4)_____ our handwriting is poor, we (5)_____ to be lazy or incompetent.

SubQuestion No : 21

Q.21 Select the most appropriate option to fill in blank no. 1.

- Ans 1. in expression
 2. to expressing
 3. of expression
 4. for expression

Question ID : 65497829578

Status : Not Answered

Chosen Option : --

Comprehension:

In the following passage, some words have been deleted. Read the passage carefully and select the most appropriate option to fill in each blank.

Writing is a form (1)_____, and neat handwriting is important when writing (2)_____ that will be read by someone else. We (3)_____ by the quality of our handwriting, and (4)_____ our handwriting is poor, we (5)_____ to be lazy or incompetent.

SubQuestion No : 22

Q.22 Select the most appropriate option to fill in blank no. 2.

- Ans 1. each thing
 2. anything
 3. everything
 4. nothing

Question ID : 65497829579

Status : Not Answered

Chosen Option : --

Comprehension:

In the following passage, some words have been deleted. Read the passage carefully and select the most appropriate option to fill in each blank.

Writing is a form (1)_____, and neat handwriting is important when writing (2)_____ that will be read by someone else. We (3)_____ by the quality of our handwriting, and (4)_____ our handwriting is poor, we (5)_____ to be lazy or incompetent.

SubQuestion No : 23

Q.23 Select the most appropriate option to fill in blank no. 3.

- Ans 1. are often judged
 2. judged often
 3. should be often judged
 4. have been often judged

Question ID : 65497829580

Status : Not Answered

Chosen Option : --

Comprehension:

In the following passage, some words have been deleted. Read the passage carefully and select the most appropriate option to fill in each blank.

Writing is a form (1)_____, and neat handwriting is important when writing (2)_____ that will be read by someone else. We (3)_____ by the quality of our handwriting, and (4)_____ our handwriting is poor, we (5)_____ to be lazy or incompetent.

SubQuestion No : 24

Q.24 Select the most appropriate option to fill in blank no. 4.

- Ans 1. when
 2. while
 3. where
 4. as

Question ID : 65497829581

Status : Not Answered

Chosen Option : --

Comprehension:

In the following passage, some words have been deleted. Read the passage carefully and select the most appropriate option to fill in each blank.

Writing is a form (1)_____, and neat handwriting is important when writing (2)_____ that will be read by someone else. We (3)_____ by the quality of our handwriting, and (4)_____ our handwriting is poor, we (5)_____ to be lazy or incompetent.

SubQuestion No : 25

Q.25 Select the most appropriate option to fill in blank no. 5.

- Ans 1. expose
 2. look
 3. appear
 4. see

Question ID : 65497829582

Status : Not Answered

Chosen Option : --

Section : Part D Hindi

Q.1 र थान की पूति के लिए सबसे उपयु विक का चयन कर।

म को रोगी पर _____ आ गई।

- Ans 1. दया
 2. अनुकंपा
 3. मा
 4. कृपा

Question ID : 65497829602

Status : Answered

Chosen Option : 1

Q.2 दिए गए वांश के लिए एक श दीजिए।

रिश्ता बना या निवेदन करने वाला

- Ans
- 1. सुति
 - 2. भजन
 - 3. भव ल
 - 4. रिश्ता

Question ID : 65497829583
Status : Answered
Chosen Option : 4

Q.3 'विशाल' का विलोम श होगा-

- Ans
- 1. लघु
 - 2. गणिक
 - 3. विकराल
 - 4. विराट

Question ID : 65497829600
Status : Answered
Chosen Option : 2

Q.4 दिये गये वांश के किस भाग म सुटि है?

मने सारा माल उसके हाथ म बेच दिया है।

- Ans
- 1. बेच
 - 2. दिया है।
 - 3. मने सारा माल
 - 4. उसके हाथ म

Question ID : 65497829599
Status : Answered
Chosen Option : 4

Q.5 दिए गए वांश म रेखांकित खंड को रिश्ता थापित करने के लिए सबसे उपयु विक का चयन कर।
यदि इसे रिश्ता थापित करने की आव कता नहीं है, तो विक 'किसी बदलाव की आव कता नहीं है'
का चयन कर।

रात दस बजे से दिी म जं न से हम क रीर मेल म सवार ए।

- Ans
- 1. रात दस बजे तक दिी म जं न से हम
 - 2. रात दस बजे, दिी के जं न से हम
 - 3. रात दस बजे से, दिी के जं न से हम
 - 4. किसी बदलाव की आव कता नहीं है।

Question ID : 65497829588
Status : Answered
Chosen Option : 2

Q.6 दिए गए श का समानाथ श चुन-

यु

- Ans
- 1. संल
 - 2. यु
 - 3. जुड़ा आ
 - 4. उपाय

Question ID : 65497829595
Status : Answered
Chosen Option : 4

Q.7 दिए गए श का समानाथ श बताइए-

कोयल

- Ans
- 1. कोकिला
 - 2. काक
 - 3. शिखी
 - 4. कीर

Question ID : 65497829585
Status : Answered
Chosen Option : 1

Q.8 दिये गये वा म रेखांकित अंश को ति थापित करने के लिए सबसे उपयु विक का चयन कर।

उसे ाकरण का अ ा बोध है।

- Ans
- 1. समझ
 - 2. ा न
 - 3. भान
 - 4. आभास

Question ID : 65497829596
Status : Answered
Chosen Option : 2

Q.9 र थान की पूति के लिए सबसे उपयु श का चयन कर-

रोगी ने चिकि क से _____ लिया।

- Ans
- 1. परामश
 - 2. अनुदान
 - 3. आा
 - 4. मं णा

Question ID : 65497829586
Status : Answered
Chosen Option : 1

Q.10 'ऊपर की ओर जाने वाला' वा श के लिए एक श होगा-

- Ans 1. अधोगामी
 2. तिगामी
 3. आगामी
 4. ऊ गामी

Question ID : 65497829601
Status : Answered
Chosen Option : 4

Q.11 सही वतनी वाले श का चयन कर।

- Ans 1. वन ती
 2. बन ती
 3. वना ती
 4. वन ति

Question ID : 65497829589
Status : Answered
Chosen Option : 4

Q.12 सही वतनी वाले श का चयन कर।

- Ans 1. लहाद
 2. हलाद
 3. पहलाद
 4. ाद

Question ID : 65497829590
Status : Answered
Chosen Option : 2

Q.13 र थान की पूति के लिए सबसे उपयु श का चयन कर-

वह वृ की _____ डाली काट रहा था।

- Ans 1. सामा
 2. सुखी
 3. सखी
 4. सूखी

Question ID : 65497829597
Status : Answered
Chosen Option : 4

Q.14 'आग म कूदना' मुहावरे का सही अथ है-

- Ans 1. जान जोख म म डालना
 2. मूख होना
 3. पा ताप करना
 4. मदद करना

Question ID : 65497829597
Status : Answered
Chosen Option : 1

Q.15 उस विक का चयन कर जो नि मुहावरे का अथ करता है।

कलेजा ठंडा होना

- Ans 1. िय होना
 2. मन म शा होना
 3. धीरज रखना
 4. ब त दुखी होना

Question ID : 65497829592
Status : Answered
Chosen Option : 2

Q.16 चं मा के समान मुखवाला - वा ंश के लिए एक श लिख ए-

- Ans 1. दसमुख
 2. गदाधर
 3. लौहपु ष
 4. चं मुख

Question ID : 65497829598
Status : Answered
Chosen Option : 4

Q.17 दिए गए श का विलोम चुन।

निमल

- Ans 1. मलिन
 2. गंदा
 3. मैला
 4. विमल

Question ID : 65497829591
Status : Answered
Chosen Option : 4

Q.18 दिए गए वा का वह भाग त कर जिसम कोई ुटि है। यदि कोई ुटि नहीं है, तो 'कोई ुटि नहीं है' चुन।

कई रेलवे के(1)/ कमचार यों की(2)/ गिर ारी ई।(3)/ कोई ुटि नहीं है।(4)

- Ans 1. 4
 2. 1
 3. 3
 4. 2

Question ID : 65497829594
Status : Answered
Chosen Option : 2

Q.19 दिए गए वाक्य में रेखांकित खंड को प्रतिस्थापित करने के लिए सबसे उपयुक्त विकल्प का चयन करें।
यदि इसे प्रतिस्थापित करने की आवश्यकता नहीं है, तो विकल्प 'किसी बदलाव की आवश्यकता नहीं है'
का चयन करें।

भाई साहब को मुझे एक पत्र पढ़ाया है।

- Ans
- 1. किसी बदलाव की आवश्यकता नहीं है।
 - 2. भाई साहब ने
 - 3. भाई साहब ने
 - 4. भाई साहब

Question ID : 65497829593

Status : Answered

Chosen Option : 3

Q.20 दिए गए वाक्य का वह भाग चुनिए जिसमें कोई त्रुटि है। यदि कोई त्रुटि नहीं है, तो 'कोई त्रुटि नहीं है'
चुनें।

शकीला भोपाली (1) सिनेट में (2) गायकी (3) कोई त्रुटि नहीं है (4)

- Ans
- 1. 1
 - 2. 2
 - 3. 3
 - 4. 4

Question ID : 65497829584

Status : Answered

Chosen Option : 3

Comprehension:

भारतवर्ष (1) _____ है और देश में भाषाएं चाहे जितनी भी हों, लेकिन उन सबके भीतर भारत की एक ही (2) _____ अपने को (3) _____ करती है। एक ही गंगा का जल है जो अनेक नदियों में बह रहा है, एक ही सूर्य का (4) _____ है जो अनेक पौधों में जगमगा रहा है और एक ही (5) _____ है जो अनेक छंदों में फूट रहा है। वेद, उपनिषद्, रामायण और महाभारत – ये ही वे घाट हैं जहां पर हमारी सभी भाषाएं पानी पीती हैं।

निम्नलिखित वाक्यों के उचित उत्तरों का चयन के आधार पर दीजिए।

SubQuestion No : 21

Q.21 गंगा के रक्षक के रूप में (1) के लिए सर्वाधिक उपयुक्त शब्द होगा-

- Ans
- 1. एक
 - 2. अनेक
 - 3. भी
 - 4. एक

Question ID : 65497829604

Status : Answered

Chosen Option : 4

Comprehension:

भारतवर्ष (1) _____ है और देश में भाषाएं चाहे जितनी भी हों, लेकिन उन सबके भीतर भारत की एक ही (2) _____ अपने को (3) _____ करती है। एक ही गंगोत्री का जल है जो अनेक नदियों में बह रहा है, एक ही सूर्य का (4) _____ है जो अनेक पौधों में जगमगा रहा है और एक ही (5) _____ है जो अनेक छंदों में फूट रहा है। वेद, उपनिषद्, रामायण और महाभारत – ये ही वे घाट हैं जहां पर हमारी सभी भाषाएं पानी पीती हैं।

निम्नलिखित वाक्यों के उचित उत्तरों का चयन के आधार पर दीजिए।

SubQuestion No : 22

Q.22 वाक्यों के उचित उत्तरों का चयन (2) के लिए सवाधिक उपयुक्त चयन होगा-

- Ans 1. निरा
 2. आर्त
 3. तिर्यक
 4. परमात्मा

Question ID : 65497829605

Status : Answered

Chosen Option : 2

Comprehension:

भारतवर्ष (1) _____ है और देश में भाषाएं चाहे जितनी भी हों, लेकिन उन सबके भीतर भारत की एक ही (2) _____ अपने को (3) _____ करती है। एक ही गंगोत्री का जल है जो अनेक नदियों में बह रहा है, एक ही सूर्य का (4) _____ है जो अनेक पौधों में जगमगा रहा है और एक ही (5) _____ है जो अनेक छंदों में फूट रहा है। वेद, उपनिषद्, रामायण और महाभारत – ये ही वे घाट हैं जहां पर हमारी सभी भाषाएं पानी पीती हैं।

निम्नलिखित वाक्यों के उचित उत्तरों का चयन के आधार पर दीजिए।

SubQuestion No : 23

Q.23 वाक्यों के उचित उत्तरों का चयन (3) के लिए सवाधिक उपयुक्त चयन होगा-

- Ans 1. अपित
 2. अभि
 3. दक्षिण
 4. संशोधित

Question ID : 65497829606

Status : Answered

Chosen Option : 2

Comprehension:

भारतवर्ष (1) _____ है और देश में भाषाएं चाहे जितनी भी हों, लेकिन उन सबके भीतर भारत की एक ही (2) _____ अपने को (3) _____ करती है। एक ही गंगोत्री का जल है जो अनेक नदियों में बह रहा है, एक ही सूर्य का (4) _____ है जो अनेक पौधों में जगमगा रहा है और एक ही (5) _____ है जो अनेक छंदों में फूट रहा है। वेद, उपनिषद्, रामायण और महाभारत – ये ही वे घाट हैं जहां पर हमारी सभी भाषाएं पानी पीती हैं।

निम्नलिखित वाक्यों के उचित उत्तरों का चयन के आधार पर दीजिए।

SubQuestion No : 24

Q.24 वाक्यों के उचित उत्तरों का चयन (4) के लिए सवाधिक उपयुक्त चयन होगा-

- Ans 1. रस
 2. बिम्ब
 3. चिह्न
 4. दपण

Question ID : 65497829607

Status : Answered

Chosen Option : 2

Comprehension:

भारतवष (1) _____ है और देश म भाषाएं चाहे जितनी भी हों, लेकिन उन सबके भीतर भारत की एक ही (2) _____ अपने को (3) _____ करती है। एक ही गंगो का जल है जो अनेक नदियों म बह रहा है, एक ही सूय का (4) _____ है जो अनेक पो ' म जगमगा रहा है और एक ही (5) _____ है जो अनेक छंदों म फूट रहा है। वेद, उपनिषद, रामायण और महाभारत – ये ही वे घाट ह जहां पर हमारी सभी भाषाएं पानी पीती ह।

नि ो 'के उ रउपरो गा 'श के आधार पर दीजिए।

SubQuestion No : 25

Q.25 ग ंश के र थान (5) के लिए सवाधिक उपयु श होगा-

Ans 1. अथ

2. भाव

3. नाम

4. बल

Question ID : 65497829608

Status : Answered

Chosen Option : 2