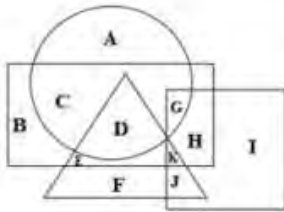


Exam Date	16/11/2021
Exam Time :	9:00 AM - 10:30 AM
Subject	Constable GD 2021

Section : Part A General Intelligence and Reasoning

Q.1 निम्नलिखित वेन आरेख में, वृत्त, 'सब्जियों' को निरूपित करता है, त्रिभुज, 'जड़ों' को निरूपित करता है, वर्ग 'कठोर मृदा' को निरूपित करता है, और आयत 'गर्मियों' को निरूपित करता है। निम्नलिखित में से कौन-सा अक्षर उन जड़ वाली सब्जियों को निरूपित करता है जो गर्मियों में उगती हैं, लेकिन कठोर मृदा में नहीं उगती हैं?



- Ans
- 1. G
 - 2. K
 - 3. E
 - 4. D

Question ID : 65497828356
Status : Answered
Chosen Option : 4

Q.2 उस विक का चयन कर, जो तीसरे पद से वही संबंध है, जो दूसरे पद का पहले पद से है।

BLOCK : LBPKC :: MARGIN : ?

- Ans
- 1. OBHQHL
 - 2. OHQHBL
 - 3. OHBHQH
 - 4. OHHQBL

Question ID : 65497828361
Status : Answered
Chosen Option : 4

Q.3 दिए गए पैटन का अनुपात अ यन कर और उस सं का चयन कर, जो इसम वाचक चि (?) के धान पर आ सकती है।

13 26 39
30 42 ?
17 16 15

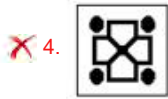
- Ans
- 1. 40
 - 2. 54
 - 3. 45
 - 4. 60

Question ID : 65497828341
Status : Answered
Chosen Option : 2

Q.4 दिए गए चित्र में कागज के एक टुकड़े को मोड़ने का क्रम और मुड़े हुए टुकड़े को काटने की विधि दर्शाई गई है। यह कागज खोलने पर कैसा दिखेगा?



Ans



Question ID : 65497828343

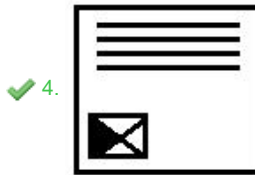


Status : Answered

Chosen Option : 3

Q.5 दिए गए विकल्पों में से उस आकृति का चयन कीजिए जो निम्नांकित आकृति श्रृंखला में प्रश्नवाचक चिह्न (?) के स्थान पर आ सकती है।



Ans



Question ID : 65497828352

Status : Answered

Chosen Option : 4

Q.6 पांच मि , P, Q, R, S और T, दि ण दिशा की ओर मुख करके एक पं म बैठे ह। Q, म थान पर बैठा है। P प मि सिरे पर बैठा है। T और R, Q के एक ही ओर बैठे ह। P और R के बीच दो बैठे ह। Q और P के बीच म कौन बैठा है?

- Ans 1. Q
 2. T
 3. S
 4. R

Question ID : 65497828355
Status : Answered
Chosen Option : 3

Q.7 एक का निक गणितीय णाली म, चि '-' का अथ जोड़ है, चि '+' का अथ भाग है, चि 'x' का अथ घटाना है, और चि '÷' का अथ गुणा है। गणित के अ सभी नियम मौजूदा णाली के समान ह। नि लिख त णक का मान। त कीजिए।

$$240 \times 72 + 8 \div 24 - 6$$

- Ans 1. 19
 2. 26
 3. 36
 4. 30

Question ID : 65497828346
Status : Answered
Chosen Option : 4

Q.8 दिए गए कथनों और नि ष को णनपूर्वक पढ़। कथनों म दी गई जानकारी को स मानते ए विचार कर, भले ही वह सामा प से। त त णों से भि तीत होती हो, और बताएं कि दिए गए नि ष म से कौन से, ताकिक प से कथनों का पालन करते ह?

कथन:
सभी नीले सफेद ह।
कुछ सफेद ेटी ह।

नि ष:
I. सभी ेटी सफेद ह।
II. सभी ेटी नीले ह।

- Ans 1. केवल नि. ष। पालन करता है।
 2. न तो नि. ष। और न ही नि. ष II पालन करता है।
 3. दोनों ही नि. ष पालन करते ह।
 4. केवल नि. ष II पालन करता है।

Question ID : 65497828340
Status : Answered
Chosen Option : 2

Q.9 उस विक का चयन कर, जिसका तीसरे श से वही संबंध है, जो दूसरे श का पहले श से है।

भुवने र : ओडिशा :: आइज़ोल : ?

- Ans 1. मिज़ोरम
 2. मेघालय
 3. मणिपुर
 4. िपुरा

Question ID : 65497828354
Status : Answered
Chosen Option : 1

Q.10 किसी निम्नलिखित कूट भाषा में, 'ARROW' को 'FOOSE' लिखा जाता है और 'GERM' को 'THOR' लिखा जाता है। उसी भाषा में 'MOWER' को किस प्रकार लिखा जाएगा?

- Ans
- 1. SHORE
 - 2. ROSHE
 - 3. HORSE
 - 4. RSEHO

Question ID : 65497828339
Status : Answered
Chosen Option : 4

Q.11 उस विक का चयन कर जिसका तीसरी संख्या से वही संबंध है, जो दूसरी संख्या का पहली संख्या से है।

31 : 90 :: 43 : ?

- Ans
- 1. 125
 - 2. 102
 - 3. 130
 - 4. 75

Question ID : 65497828345
Status : Answered
Chosen Option : 1

Q.12 अक्षरों के उस संयोजन का चयन कर, जिसे दी गई श्रेणी के रक्तथानों पर क्रमिक रूप से रखने पर श्रेणी पूरा हो जाएगी।

C 2 _ X 2 C C _ X X 2 _ C 2 _ X _ C

- Ans
- 1. C2X2X
 - 2. XCX2C
 - 3. AXX2C
 - 4. X2CX2

Question ID : 65497828350
Status : Answered
Chosen Option : 4

Q.13 जब किसी संख्या को उसके 5 के गुणज और उसके वगम जोड़ा जाता है, तो इन तीनों संख्याओं का योग 911 होता है। संख्या का मान क्या है?

- Ans
- 1. 6
 - 2. 9
 - 3. 11
 - 4. 7

Question ID : 65497828342
Status : Answered
Chosen Option : 4

Q.14 नि लिख त चार अ र-समूहों म से तीन किसी तरह से संगत ह और एक असंगत है। उस अ र-समूह का चयन कर, जो असंगत है।

- Ans
- 1. QRS
 - 2. NMP
 - 3. HIJ
 - 4. DEF

Question ID : 65497828357
Status : Answered
Chosen Option : 2

Q.15 एक विशि कूट भाषा म, 'India is my country' का अथ '8573' है, 'Sam is my friend' का अथ '8634' है, 'My country' का अथ '73' और 'Team India' का अथ '59' है। उस कूट भाषा म 'Country' के लिए यु कूट 1 है?

- Ans
- 1. 3
 - 2. 7
 - 3. 8
 - 4. 5

Question ID : 65497828358
Status : Answered
Chosen Option : 2

Q.16 उस विकल्प का चयन करें जिसमें दी गई आकृति अंतर्निहित है (घुमाने की अनुमति नहीं है)।



Ans

- 1.
- 2.
- 3.
- 4.

Question ID : 65497828348
Status : Answered
Chosen Option : 2

Q.17 दिए गए विकल्पों में से उस अक्षर-समूह का चयन कीजिए, जो दी गई संख्यात्मक वाचक चिह्न (?) के स्थान पर आ सकता है।

SKH, PMG, MOF, JQE, ?

- Ans
- 1. HSD
 - 2. SDF
 - 3. GSD
 - 4. GTD

Question ID : 65497828353

Status : Answered

Chosen Option : 3

Q.18 उस सही विकल्प का चयन कर, जो दिए गए शब्दों के उस श्रेणी को दर्शाता है, जिस में मूल अव्ययों का क्रम मौजूद होता है।

1. Prestige
2. Pristine
3. Prescribe
4. Prepaid
5. Premium

- Ans
- 1. 5, 4, 3, 1, 2
 - 2. 5, 3, 4, 1, 2
 - 3. 4, 5, 3, 2, 1
 - 4. 4, 5, 3, 1, 2

Question ID : 65497828349

Status : Answered

Chosen Option : 1

Q.19 किसी कूट भाषा में, 'CIRCLE' को 'DLWAHY' लिखा जाता है। उसी कूट भाषा में 'SQUARE' को किस प्रकार लिखा जाएगा?

- Ans
- 1. TNZYVY
 - 2. TNPYVY
 - 3. TTPNKY
 - 4. TTZYNY

Question ID : 65497828362

Status : Answered

Chosen Option : 4

Q.20 दिए गए विकल्पों में से उस संख्या का चयन कीजिए, जो निम्नलिखित श्रेणी में अगला चिह्न (?) के स्थान पर आएगी।

19, 23, 32, 48, 73, ?

- Ans
- 1. 111
 - 2. 109
 - 3. 108
 - 4. 103

Question ID : 65497828351

Status : Answered

Chosen Option : 2

Q.21 दिए गए विकल्पों में से उस संख्या का चयन कर, जो निम्नलिखित संख्या श्रृंखला में खाली जगह (?) के स्थान पर आ सकती है।

24, 40, 64, 104, ?, 312

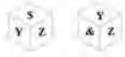
- Ans
- 1. 168
 - 2. 176
 - 3. 228
 - 4. 154

Question ID : 65497828359

Status : Marked For Review

Chosen Option : 1

Q.22 X, S, Y, &, Z और @ अक्षरों/प्रतीकों द्वारा चिह्नित एक ही पासे की दो विभिन्न स्थितियाँ दर्शाई गई हैं। उस अक्षर/प्रतीक का चयन करें जो S प्रतीक दर्शाने वाले फलक के विपरीत फलक पर होगा।



- Ans
- 1. Z
 - 2. X
 - 3. @
 - 4. &

Question ID : 65497828347

Status : Answered

Chosen Option : 4

Q.23 'R+S' का अर्थ है - 'R, S की पुत्री' है। 'R-S' का अर्थ है - 'R, S का पिता है'। 'R x S' का अर्थ है - 'R, S का भाई है'। यदि 'T x V + Z' है, तो निम्नलिखित में से कौन-सा विकल्प सही है?

- Ans
- 1. T, Z का पिता है।
 - 2. T, Z का पुत्र है।
 - 3. T, Z का चाचा/ताऊ/मामा/भौसा/फूफा है।
 - 4. T, Z का भाई है।

Question ID : 65497828363

Status : Answered

Chosen Option : 2

Q.24 दिए गए संयोजन के सही दर्पण प्रतिबिम्ब का चयन करें जब दर्पण को निम्नलिखित चित्रानुसार 'PQ' पर रखा गया है।



- Ans
- 1. M8VIGJCVF
 - 2. LAJGIA8M
 - 3. M8VIGJCVF
 - 4. LAJGIA8M

Question ID : 65497828360

Status : Answered

Chosen Option : 4

Q.25 आठ मि , A, B, C, D, E, F, G और H, सभी एक सीधी रेखा म उ र की ओर मुख करके बैठे ह। F, D और G के बीच बैठा है। B, H और A के बीच बैठा है। E, G के बाईं ओर तीसरे थान पर है। G एक सिरे पर बैठा है। H, C के बाईं ओर तीसरे थान पर है। A और E के बीच कौन बैठा है?

- Ans
- 1. D
 - 2. B
 - 3. C
 - 4. H

Question ID : 65497828344
Status : Answered
Chosen Option : 3

Section : Part B General Knowledge and General Awareness

Q.1 की य शि I मी ने 5 सितंबर 2020 को _____ नामक एक निःशु मोबाइल ऐप लॉ किया।

- Ans
- 1. Duolingo (डुओलिंगो)
 - 2. EnglishPro (ईं शो)
 - 3. Hello Talk (हेलो टॉक)
 - 4. Beelinguapp (बिलिंगुऐप)

Question ID : 65497828387
Status : Not Answered
Chosen Option : --

Q.2 α कण _____ के ि आवेशित (Doubly Charged) आयन होते ह।

- Ans
- 1. बेरीलियम
 - 2. हाइडोजन
 - 3. हीलियम
 - 4. लीथियम

Question ID : 65497828369
Status : Answered
Chosen Option : 2

Q.3 2011-2012 म की गई गणनाओं के अनुसार, I मीण भारत के _____ यों के लिए गरीबी रेखा _____ ति माह तय की गई थी।

- Ans
- 1. ₹816
 - 2. ₹752
 - 3. ₹687
 - 4. ₹1,000

Question ID : 65497828372
Status : Answered
Chosen Option : 2

Q.4 भारतीय संविधान का कौन सा अनु ेद सहकारी समितियों (co-operative societies) के संवधन से संबंधित है?

- Ans
- 1. 31B
 - 2. 43B
 - 3. 43A
 - 4. 31A

Question ID : 65497828376
Status : Answered
Chosen Option : 2

Q.5 नवंबर 2020 म दिवंगत, फकीर चंद कोहली को ' _____ ' के प म जाना जाता था।

- Ans 1. भारतीय सॉ वेयर (IT) उद्योग के जनक
 2. भारतीय सिविल सेवा के जनक
 3. भारतीय अंतराष्ट्रीय कायदा के जनक
 4. भारतीय ऐतिहासिक काल के जनक

Question ID : 65497828380
Status : Not Answered
Chosen Option : --

Q.6 राजा टोडर मल, निम्नलिखित में से किस मुगल साम्राज्य के शासनकाल के दौरान राजा मीर थे?

- Ans 1. मारुत
 2. शाहजहाँ
 3. जहांगीर
 4. अकबर

Question ID : 65497828384
Status : Answered
Chosen Option : 4

Q.7 मराठों, और अफगानिस्तान के शासक अहमद शाह दुरानी के बीच पानीपत की तीसरी लड़ाई किस वर्ष हुई थी?

- Ans 1. 1851
 2. 1781
 3. 1761
 4. 1831

Question ID : 65497828374
Status : Answered
Chosen Option : 3

Q.8 निम्नलिखित में से कौन सा वह साधारण उपकरण है जिसका उपयोग विद्युत पर पथ को वियोजित करने, या इसे पूर्ण करने के लिए किया जाता है?

- Ans 1. चूक
 2. टॉर्ज़र
 3. संधार
 4. तिरोध

Question ID : 65497828373
Status : Answered
Chosen Option : 1

Q.9 निम्नलिखित में से किन देशों ने मालाबार नौसेना अंतराष्ट्रीय 2020 में भाग लिया?

- Ans 1. भारत, ऑस्ट्रेलिया, जापान और अमेरिका
 2. भारत, इजराइल और अमेरिका
 3. भारत, जापान और अमेरिका
 4. भारत, ऑस्ट्रेलिया, इजराइल और अमेरिका

Question ID : 65497828375
Status : Answered
Chosen Option : 1

Q.10 पानी के एक अणु म, हाइड्रोजन और ऑक्सीजन के मानों का अनुपात कितना होता है?

- Ans
- 1. 1 : 4
 - 2. 1 : 8
 - 3. 1 : 16
 - 4. 1 : 2

Question ID : 65497828370
Status : Answered
Chosen Option : 2

Q.11 _____ को विटीक चर (viticulture) के रूप में जाना जाता है।

- Ans
- 1. सब्जियाँ, फूल और फल उगाने
 - 2. मछली पालन
 - 3. रेशमकीट का पालन करने
 - 4. अंगूर की खेती

Question ID : 65497828382
Status : Answered
Chosen Option : 4

Q.12 निम्नलिखित में से कौन तीरंदाजी में भारत का प्रतिनिधि करता है?

- Ans
- 1. सौजीत घोष
 - 2. मनिका बा
 - 3. नीरज चोपड़ा
 - 4. दीपिका कुमारी

Question ID : 65497828367
Status : Answered
Chosen Option : 4

Q.13 'संवाद कौमुदी' नामक अखबार की स्थापना निम्नलिखित में से किसने की?

- Ans
- 1. ईरचंदा वि. सागर
 - 2. रास बिहारी बोस
 - 3. राजा राम मोहन राय
 - 4. शिशिर कुमार घोष

Question ID : 65497828366
Status : Answered
Chosen Option : 1

Q.14 नवंबर 2020 में, भारतीय क्रिकेट कंट्रोल बोर्ड (BCCI) ने _____ को 2023 तक के लिए भारतीय टीम का क्रिकेट संचालक घोषित किया है।

- Ans
- 1. ओपपो (Oppo)
 - 2. एम.पी.एल. स्पोर्ट्स (MPL Sports)
 - 3. बाईजूस (Byju's)
 - 4. नाइकी (Nike)

Question ID : 65497828381
Status : Answered
Chosen Option : 3

Q.15 भारत मिशन (I मीण) के चरण 2 की शुरुआत किस वर्ष से हुई?

- Ans 1. 2021-22
 2. 2020-21
 3. 2018-19
 4. 2019-20

Question ID : 65497828388
Status : Answered
Chosen Option : 1

Q.16 टीम 'केरल ब्लास्टर' (Kerala Blasters) निम्नलिखित में से किस खेल से संबंधित है?

- Ans 1. कबड्डी
 2. फुटबॉल
 3. बैडमिंटन
 4. फुटबॉल

Question ID : 65497828383
Status : Answered
Chosen Option : 4

Q.17 26 जनवरी 2019 को, भारतीय संविधान ने अपने अद्यतन के 69 वष पूण किए। इन वष म, इसम (12 जनवरी 2019 तक) जानकारी के अनुसार) _____ बार संशोधन किए गए ह।

- Ans 1. 103
 2. 109
 3. 100
 4. 106

Question ID : 65497828386
Status : Answered
Chosen Option : 1

Q.18 सरयू नदी किस नदी की सहायक नदी है?

- Ans 1. पिंडर
 2. टोंस
 3. शारदा
 4. भागीरथी

Question ID : 65497828364
Status : Answered
Chosen Option : 2

Q.19 निम्न में से कौन सा मिज़ो लोगों का परंपरागत बांस नृत्य (bamboo dance) है?

- Ans 1. उदोहो (Udoho)
 2. मोयशाई (Moyashai)
 3. चेरॉव (Cheraw)
 4. आलुयट्टू (Aaluyattu)

Question ID : 65497828378
Status : Answered
Chosen Option : 3

Q.20 _____, सारा ही कला (eclectic art) के उ र को दशाता है, जिसम 7वीं और 8वीं शता पी म चालु वंश के अधीन उ री और द णी भारत की वा कलाओं का सुमेलित मि ण आ है।

- Ans
- 1. कोणाक
 - 2. प दकल
 - 3. भीमबेटका
 - 4. को

Question ID : 65497828368
Status : Answered
Chosen Option : 1

Q.21 नि लिख त म से कौन अपने 'ययाति' और 'तुगलक' नामक नाटकों के लिए सि है?

- Ans
- 1. वीजू खोटे
 - 2. मोह द ज र ख ाम
 - 3. पी राम लागू
 - 4. गिरीश कनाड

Question ID : 65497828371
Status : Not Answered
Chosen Option : --

Q.22 नि लिख त म से किस सं थान ने नवंबर 2020 म 'टीम हेलो (Team Halo)' नामक पहल की शु आत की थी?

- Ans
- 1. संयु रा
 - 2. वि ापार संगठन
 - 3. वि ा संगठन
 - 4. वि बक

Question ID : 65497828377
Status : Answered
Chosen Option : 3

Q.23 विी य वष 2019-20 म नि लिख त म से कौन सा रा भारत का शीष ापार क भागीदार था?

- Ans
- 1. चीन
 - 2. जापान
 - 3. अमेर का
 - 4. मॉरीशस

Question ID : 65497828365
Status : Answered
Chosen Option : 3

Q.24 भारत के पंजाब से निकलने वाली पांच नदियां पाकि ान म मिथनकोट म _____ नदी म मिल जाती ह।

- Ans
- 1. पु
 - 2. गंगा
 - 3. सिंधु
 - 4. यमुना

Question ID : 65497828379
Status : Answered
Chosen Option : 3

Q.25 1708 म गु गोविंद सिंह जी की मृत्यु के बाद, खालसा ने _____ के नेतृत्व में मुगल साम्राज्य के खिलाफ विद्रोह किया।

- Ans
- 1. गु नानक देव
 - 2. गु अमर दास
 - 3. गु अंगद
 - 4. बंदा बहादुर

Question ID : 65497828385
Status : Answered
Chosen Option : 4

Section : Part C Elementary Mathematics

Q.1 $45 - 3 \times (4 \text{ of } 6 + 12 \div 3 \times 6 - 4 \times 5) + 6$ का मान ज्ञात कीजिए।

- Ans
- 1. -30
 - 2. -45
 - 3. -33
 - 4. -135

Question ID : 65497828408
Status : Answered
Chosen Option : 3

Q.2 36 m पट्टा (जूट) बेचने पर, एक दुकानदार 12 m पट्टा (जूट) के विक्रय मूल्य के बराबर राशि का लाभ अर्जित करता है। उसके लाभ का प्रतिशत ज्ञात कीजिए।

- Ans
- 1. 45%
 - 2. 40%
 - 3. 55%
 - 4. 50%

Question ID : 65497828409
Status : Answered
Chosen Option : 4

Q.3 कक्षा IX और कक्षा X में छात्रों की संख्या क्रमशः 42 और 45 है। कक्षा IX और X में लड़कों और लड़कियों की संख्याओं का अनुपात क्रमशः 9 : 5 और 8 : 7 है। दोनों कक्षाओं में मिलाकर लड़कों की कुल संख्या और लड़कियों की कुल संख्या का अंतर ज्ञात कीजिए।

- Ans
- 1. 11
 - 2. 17
 - 3. 12
 - 4. 15

Question ID : 65497828411
Status : Answered
Chosen Option : 4

Q.4 12% of 4% of 7% of 2×10^6 का मान कितना होगा?

- Ans
- 1. 121
 - 2. 583
 - 3. 672
 - 4. 386

Question ID : 65497828403
Status : Answered
Chosen Option : 3

Q.5 112 cm \times 44 cm \times 25 cm विमाओं वाले एक ठोस धातु के बने आयताकार ब्लॉक को पिघलाया जाता है और 35 cm त्रिज्या वाले एक बेलन के रूप में ढाला जाता है। बेलन के वक्र पृष्ठ का क्षेत्रफल (cm^2 में) ज्ञात कीजिए।
($\pi = \frac{22}{7}$ लीजिए)

- Ans
- 1. 6160
 - 2. 6600
 - 3. 7040
 - 4. 7260

Question ID : 65497828413
Status : Answered
Chosen Option : 3

Q.6 साधारण ब्याज की एक निश्चित वार्षिक दर पर एक धनराशि पर प्राप्त मिश्रधन 4 वर्ष बाद ₹13200 और 8 वर्ष बाद ₹16400 होता है। उसी धनराशि पर 10% वार्षिक ब्याज की दर से $3\frac{1}{5}$ वर्ष में प्राप्त साधारण ब्याज (₹ में) ज्ञात कीजिए।

- Ans
- 1. 3200
 - 2. 2500
 - 3. 3500
 - 4. 4000

Question ID : 65497828392
Status : Answered
Chosen Option : 1

Q.7 एक बल्लेबाज ने 124 रन बनाए, जिसमें 6 चौके और 10 छक्के शामिल थे। उसके कुल स्कोर में से कितने प्रतिशत रन विकेटों के बीच दौड़कर बनाए गए?

- Ans
- 1. $28\frac{19}{31}\%$
 - 2. $35\frac{3}{31}\%$
 - 3. $24\frac{1}{31}\%$
 - 4. $32\frac{8}{31}\%$

Question ID : 65497828390
Status : Answered
Chosen Option : 4

Q.8 एक व्यक्ति 1600 m लंबे मार्ग को 4 मिनट में पार करता है। उसकी चाल (km/h में) कितनी है?

- Ans
- 1. 22
 - 2. 14
 - 3. 24
 - 4. 20

Question ID : 65497828398

Status : Answered

Chosen Option : 3

Q.9 रवि और सुमित के वेतनों का अनुपात 4 : 5 है। यदि उनमें से प्रत्येक के वेतन में ₹6000 की वृद्धि होती है, तो उनके वेतनों का नया अनुपात 35 : 40 हो जाता है। सुमित का बड़ा हुआ वेतन ज्ञात कीजिए।

- Ans
- 1. ₹16,000
 - 2. ₹26,000
 - 3. ₹36,000
 - 4. ₹1,60,000

Question ID : 65497828399

Status : Answered

Chosen Option : 1

Q.10 जब विक्रय मूल्य में ₹132.60 की वृद्धि होती है, तो $10\frac{1}{2}\%$ की हानि $11\frac{3}{5}\%$ के लाभ में परिवर्तित हो जाती है। वस्तु का क्रय मूल्य (₹ में) ज्ञात करें।

- Ans
- 1. 800
 - 2. 500
 - 3. 750
 - 4. 600

Question ID : 65497828391

Status : Answered

Chosen Option : 4

Q.11 725 m लंबी एक ट्रेन 235 m लंबी सुरंग को 48 सेकंड में पार करती है। ट्रेन की चाल ज्ञात करें।

- Ans
- 1. 42 km/h
 - 2. 36 km/h
 - 3. 100 km/h
 - 4. 72 km/h

Question ID : 65497828405

Status : Answered

Chosen Option : 4

Q.12 P, Q और R किसी कार्य को अकेले करते हुए क्रमशः 10 दिन, 20 दिन और 30 दिन में पूरा कर सकते हैं। यदि Q और R, एक-एक दिन छोड़कर P की सहायता करते हैं, तो उस कार्य को कितनी जल्दी पूरा किया जा सकता है?

- Ans
- 1. 5 दिन
 - 2. $6\frac{1}{2}$ दिन
 - 3. $7\frac{1}{17}$ दिन
 - 4. 9 दिन

Question ID : 65497828410
Status : Answered
Chosen Option : 2

Q.13 एक निश्चित धनराशि 12% वार्षिक ब्याज की दर से $2\frac{1}{2}$ वर्षों में ₹9,982.50 हो जाती है, जबकि ब्याज की गणना 10-मासिक चक्रवृद्धि आधार पर की जाती है। धनराशि (₹ में) ज्ञात कीजिए।

- Ans
- 1. 8,000
 - 2. 8,500
 - 3. 7,500
 - 4. 7,800

Question ID : 65497828412
Status : Marked For Review
Chosen Option : 2

Q.14 एक कुर्सी अंकित मूल्य पर 10% की छूट के बाद ₹720 में बेची जाती है। कुर्सी का क्रय मूल्य ₹640 है। यदि इसे अंकित मूल्य पर बेचा जाए, तो लाभ प्रतिशत क्या होगा?

- Ans
- 1. 20%
 - 2. 18%
 - 3. 25%
 - 4. 30%

Question ID : 65497828407
Status : Answered
Chosen Option : 3

Q.15 $89563x87y$ एक नौ अंकीय संख्या है जो 72 से विभाज्य है। $\sqrt{7x-3y}$ का मान कितना होगा?

- Ans
- 1. 5
 - 2. 6
 - 3. 4
 - 4. 8

Question ID : 65497828389
Status : Answered
Chosen Option : 3

Q.16 वह बड़ी से बड़ी संख्या ज्ञात कीजिए, जिससे 398, 437 और 5425 को विभाजित करने पर क्रमशः 7, 12 और 2 शेष बचता है।

- Ans
- 1. 17
 - 2. 15
 - 3. 19
 - 4. 11

Question ID : 65497828393
Status : Answered
Chosen Option : 1

Q.17 A और B के वेतन का अनुपात 6 : 7 है। यदि B के वेतन में $5\frac{1}{2}\%$ की वृद्धि होती है, तो उसका कुल वेतन ₹1,47,700 हो जाता है। A का वेतन (₹ में) ज्ञात कीजिए।

- Ans
- 1. 1,35,000
 - 2. 1,20,000
 - 3. 1,40,000
 - 4. 1,10,000

Question ID : 65497828395
Status : Answered
Chosen Option : 2

Q.18 ₹2760 की धनराशि को इस प्रकार दो भागों में विभाजित कीजिए, कि जब उन्हें 5% वार्षिक साधारण ब्याज की दर पर क्रमशः 2 और 4 वर्षों के लिए निवेशित किया जाता है, तो उन पर प्राप्त होने वाले मिश्रधन बराबर होते हैं। निवेश किए गए दूसरे भाग की राशि ज्ञात कीजिए।

- Ans
- 1. 1,320
 - 2. 1,440
 - 3. 1,500
 - 4. 1,100

Question ID : 65497828396
Status : Answered
Chosen Option : 1

Q.19 $3 \times 7 + 5 - 6 \div 3 - 9 + 45 \div 5 \times 4 - 45$ का मान ज्ञात कीजिए।

- Ans
- 1. 36
 - 2. 9
 - 3. 6
 - 4. 7

Question ID : 65497828397
Status : Answered
Chosen Option : 3

Q.20 अनु किसी कार्य को करने में बिन्नी से चार गुना कार्यकुशल है। वे एक साथ मिलकर किसी कार्य को 7 घंटे में पूरा करती हैं। अनु अकेले उसी कार्य को कितने घंटों में पूरा करेगी?

- Ans
- 1. $31/4$
 - 2. 24
 - 3. $35/4$
 - 4. 22

Question ID : 65497828404
Status : Answered
Chosen Option : 3

Q.21 एक समबाहु त्रिभुज का परिमाण $36\sqrt{3}$ cm है। तो उसकी ऊंचाई ज्ञात कीजिए।

- Ans
- 1. 18 cm
 - 2. 6 cm
 - 3. 9 cm
 - 4. 10 cm

Question ID : 65497828400
Status : Answered
Chosen Option : 1

Q.22 यदि दो संख्याओं का औसत 13 है और उनके गुणनफल का वर्गमूल 12 है, तो संख्याओं के बीच का अंतर ज्ञात कीजिए।

- Ans
- 1. 18
 - 2. 10
 - 3. 12
 - 4. 8

Question ID : 65497828394
Status : Answered
Chosen Option : 2

Q.23 10 प्रेक्षणों का औसत 46 है। बाद में यह ज्ञात हुआ कि एक प्रेक्षण को 142 के स्थान पर गलती से 42 पढ़ा गया था। सही औसत ज्ञात करें।

- Ans
- 1. 56
 - 2. 46
 - 3. 52
 - 4. 58

Question ID : 65497828401
Status : Answered
Chosen Option : 1

Q.24 एक टेलीविज़न ₹14,500 में उपलब्ध था। दिवाली की सेल के दौरान उसकी कीमत घटकर ₹11,890 हो गई। छूट प्रतिशत ज्ञात करें।

- Ans
- 1. 17.6%
 - 2. 19%
 - 3. 18%
 - 4. 19.56%

Question ID : 65497828402
Status : Answered
Chosen Option : 3

Q.25 एक दुकानदार एक वस्तु को 20% लाभ पर बेचता है। यदि उसने इसे इसके मूल क्रय मूल्य से 20% कम मूल्य पर खरीदा होता और इसे ₹10 कम मूल्य पर बेचता, तो उसे 25% का लाभ होता। वस्तु का क्रय मूल्य ज्ञात कीजिए।

- Ans
- 1. ₹60
 - 2. ₹50
 - 3. ₹40
 - 4. ₹45

Question ID : 65497828406
Status : Answered
Chosen Option : 2

Section : Part D English

Q.1 Select the most appropriate meaning of the given idiom.

Play for time

- Ans
- 1. To make excuses or do things to gain time
 - 2. To play music in the time provided
 - 3. To play something for the sake of old times
 - 4. To do something in the stipulated time

Question ID : 65497828428
Status : Not Answered
Chosen Option : --

Q.2 Select the most appropriate option to fill in the blank.

The doctor _____ her to stop eating fried food.

- Ans
- 1. advised
 - 2. expressed
 - 3. arranged
 - 4. considered

Question ID : 65497828421
Status : Not Answered
Chosen Option : --

Q.3 Select the option that can be used as a one-word substitute for the given group of words.

One who examines a company's financial records

- Ans 1. Conductor
 2. Auditor
 3. Instructor
 4. Author

Question ID : **65497828424**
Status : **Not Answered**
Chosen Option : --

Q.4 Select the option that can be used as a one-word substitute for the given group of words.

A person who knows everything

- Ans 1. Omniscient
 2. Omnipresent
 3. Intelligent
 4. Naive

Question ID : **65497828420**
Status : **Not Answered**
Chosen Option : --

Q.5 Select the most appropriate ANTONYM of the given word.

Vital

- Ans 1. Crucial
 2. Critical
 3. Manual
 4. Trivial

Question ID : **65497828423**
Status : **Not Answered**
Chosen Option : --

Q.6 Select the most appropriate SYNONYM of the given word.

Threat

- Ans 1. Attention
 2. Risk
 3. Proof
 4. Suggestion

Question ID : **65497828432**
Status : **Not Answered**
Chosen Option : --

Q.7 The following sentence has been divided into parts. One of them may contain an error. Select the part that contains the error from the given options. If you don't find any error, mark 'No error' as your answer.

She left / hers umbrella / at the office.

- Ans 1. at the office
 2. She left
 3. No error
 4. hers umbrella

Question ID : 65497828414
Status : Not Answered
Chosen Option : --

Q.8 Select the most appropriate option that can substitute the underlined segment in the given sentence. If there is no need to substitute it, select 'No substitution required'.

I'm sure he will grab the chance to earn some extra money.

- Ans 1. to earns
 2. No substitution required
 3. of earns
 4. to earned

Question ID : 65497828429
Status : Not Answered
Chosen Option : --

Q.9 Select the most appropriate ANTONYM of the given word.

Precarious

- Ans 1. Safe
 2. Perilous
 3. Uncertain
 4. Dangerous

Question ID : 65497828426
Status : Not Answered
Chosen Option : --

Q.10 Select the most appropriate option that can substitute the underlined word in the given sentence.

Microwave ovens heat food quickly, anxiously and safely, but do not brown or bake food in the way that conventional ovens do.

- Ans 1. beautifully
 2. angrily
 3. accidentally
 4. efficiently

Question ID : 65497828416
Status : Not Answered
Chosen Option : --

Q.11 Select the most appropriate synonym of the given word.

Visible

- Ans 1. Secret
 2. Hidden
 3. Vague
 4. Apparent

Question ID : 65497828415
Status : Not Answered
Chosen Option : --

Q.12 Select the option that can be used as a one-word substitute for the given group of words.

Anything that leads to death

- Ans 1. Scary
 2. Serious
 3. Ominous
 4. Fatal

Question ID : 65497828433
Status : Not Answered
Chosen Option : --

Q.13 The following sentence has been split into four segments. Identify the segment that contains a grammatical error.

Neither the manager / nor the employees was / aware of the / shortage of raw materials.

- Ans 1. Neither the manager
 2. shortage of raw materials
 3. aware of the
 4. nor the employees was

Question ID : 65497828431
Status : Not Answered
Chosen Option : --

Q.14 The following sentence has been split into four segments. Identify the segment that contains a grammatical error.

Mohan told to / Sagar that he / was looking / very pale.

- Ans 1. Sagar that he
 2. was looking
 3. very pale
 4. Mohan told to

Question ID : 65497828422
Status : Not Answered
Chosen Option : --

Q.15 Select the INCORRECTLY spelt word.

- Ans 1. Voluntary
 2. Stationary
 3. Dictionary
 4. Delivery

Question ID : 65497828425
Status : Not Answered
Chosen Option : --

Q.16 Select the INCORRECTLY spelt word.

- Ans 1. Response
 2. Congratulations
 3. Felicitate
 4. Aniversary

Question ID : 65497828418
Status : Not Answered
Chosen Option : --

Q.17 Select the most appropriate meaning of the given idiom.

To breathe one's last

- Ans 1. To make a plot
 2. To give final verdict
 3. To die
 4. To take a major decision

Question ID : 65497828417
Status : Not Answered
Chosen Option : --

Q.18 Select the most appropriate option that can substitute the underlined segment in the given sentence. If there is no need to substitute it, select 'No substitution required'.

You need to get the cholesterol from out of your system.

- Ans 1. No substitution required
 2. out of your system
 3. out your system
 4. from out off your system

Question ID : 65497828430
Status : Not Answered
Chosen Option : --

Q.19 Select the most appropriate option to fill in the blank.

A _____ mind rarely meets a dead end; it continues the search for the answers.

- Ans 1. weird
 2. curious
 3. peculiar
 4. strange

Question ID : 65497828419
Status : Not Answered
Chosen Option : --

Q.20 Select the most appropriate option to fill in the blank.

A dialogue is a _____ between two or more people.

- Ans 1. commission
 2. conversation
 3. conversion
 4. convertible

Question ID : 65497828427

Status : Not Answered

Chosen Option : --

Comprehension:

In the following passage, some words have been deleted. Read the passage carefully and select the most appropriate option to fill in each blank.

When the air is clear, the sunset (1)_____ yellow, because the light from the sun has passed a long distance through air and the blue light (2)_____ scattered away. If the air is polluted with small particles, natural (3)_____ otherwise, the sunset will be more red. Sunsets over the sea may also be orange, (4)_____ salt particles in the air. The sky (5)_____ the sun is seen reddened, as well as the light coming directly from the sun.

SubQuestion No : 21

Q.21 Select the most appropriate option to fill in blank no. 1.

- Ans 1. is
 2. has appeared
 3. appeared
 4. appears

Question ID : 65497828435

Status : Not Answered

Chosen Option : --

Comprehension:

In the following passage, some words have been deleted. Read the passage carefully and select the most appropriate option to fill in each blank.

When the air is clear, the sunset (1)_____ yellow, because the light from the sun has passed a long distance through air and the blue light (2)_____ scattered away. If the air is polluted with small particles, natural (3)_____ otherwise, the sunset will be more red. Sunsets over the sea may also be orange, (4)_____ salt particles in the air. The sky (5)_____ the sun is seen reddened, as well as the light coming directly from the sun.

SubQuestion No : 22

Q.22 Select the most appropriate option to fill in blank no. 2.

- Ans 1. has been
 2. will be
 3. has
 4. was

Question ID : 65497828436

Status : Not Answered

Chosen Option : --

Comprehension:

In the following passage, some words have been deleted. Read the passage carefully and select the most appropriate option to fill in each blank.

When the air is clear, the sunset (1)_____ yellow, because the light from the sun has passed a long distance through air and the blue light (2)_____ scattered away. If the air is polluted with small particles, natural (3)_____ otherwise, the sunset will be more red. Sunsets over the sea may also be orange, (4)_____ salt particles in the air. The sky (5)_____ the sun is seen reddened, as well as the light coming directly from the sun.

SubQuestion No : 23

Q.23 Select the most appropriate option to fill in blank no. 3.

- Ans 1. if
 2. or
 3. but
 4. and

Question ID : 65497828437

Status : Not Answered

Chosen Option : --

Comprehension:

In the following passage, some words have been deleted. Read the passage carefully and select the most appropriate option to fill in each blank.

When the air is clear, the sunset (1)_____ yellow, because the light from the sun has passed a long distance through air and the blue light (2)_____ scattered away. If the air is polluted with small particles, natural (3)_____ otherwise, the sunset will be more red. Sunsets over the sea may also be orange, (4)_____ salt particles in the air. The sky (5)_____ the sun is seen reddened, as well as the light coming directly from the sun.

SubQuestion No : 24

Q.24 Select the most appropriate option to fill in blank no. 4.

- Ans 1. for
 2. due to
 3. because
 4. as

Question ID : 65497828438

Status : Not Answered

Chosen Option : --

Comprehension:

In the following passage, some words have been deleted. Read the passage carefully and select the most appropriate option to fill in each blank.

When the air is clear, the sunset (1)_____ yellow, because the light from the sun has passed a long distance through air and the blue light (2)_____ scattered away. If the air is polluted with small particles, natural (3)_____ otherwise, the sunset will be more red. Sunsets over the sea may also be orange, (4)_____ salt particles in the air. The sky (5)_____ the sun is seen reddened, as well as the light coming directly from the sun.

SubQuestion No : 25

Q.25 Select the most appropriate option to fill in blank no. 5.

- Ans 1. around
 2. across
 3. along
 4. through

Question ID : 65497828439

Status : Not Answered

Chosen Option : --

Q.1 दिए गए वा म रेखांकित खंड को ति थापित करने के लिए सबसे उपयु विक का चयन कर।
यदि इसे ति थापित करने की आव कता नहीं है, तो विक 'किसी बदलाव की आव कता नहीं है'
का चयन कर।

म आपका दशन करने आया ँ।

- Ans
- 1. म आपकी
 - 2. किसी बदलाव की आव कता नहीं है।
 - 3. म आपके
 - 4. म आपसे

Question ID : 65497828453

Status : Answered

Chosen Option : 3

Q.2 दिए गए वा का वह भाग। त कर जिसम कोई ुटि है। यदि कोई ुटि नहीं है, तो 'कोई ुटि नहीं है'
चुन।

धानाचाय ने (1)/ हिंदी अ ापक (2)/ को बुलाये। (3)/ कोई ुटि नहीं है(4)

- Ans
- 1. 4
 - 2. 2
 - 3. 3
 - 4. 1

Question ID : 65497828451

Status : Answered

Chosen Option : 2

Q.3 मुझे मज़ा आती है। - रेखांकित श की ुटि बताइए-

- Ans
- 1. लिंग के कारण
 - 2. वचन के कारण
 - 3. कारक के कारण
 - 4. विशेषण के कारण

Question ID : 65497828456

Status : Answered

Chosen Option : 2

Q.4 दिए गए श का विलोम चुन।

ुत

- Ans
- 1. जड़
 - 2. अँत
 - 3. मंथर
 - 4. वेग

Question ID : 65497828448

Status : Answered

Chosen Option : 3

Q.5 नि लिख त म, दिए गए चार विक णों म से, उस विक का चयन कर, जो मुहावरे का अथ करता है।

कथा के बगन

- Ans
- 1. मन गढ़ंत बात
 - 2. असंभव व ु
 - 3. कृपण
 - 4. केवल दूसरों के लिए उपदेश

Question ID : 65497828449
Status : Answered
Chosen Option : 4

Q.6 'वह बात जो जन साधारण म चलती आ रही है' इस वा णंश के लिए एक साथक श दीजिए।

- Ans
- 1. किंवदंती
 - 2. कूपमंडूक
 - 3. कपोल-क त
 - 4. किकत

Question ID : 65497828440
Status : Answered
Chosen Option : 1

Q.7 र थान भरने के लिए सबसे उपयु श का चयन कर।

_____ से गहने बनते ह।

- Ans
- 1. टीन
 - 2. सोना
 - 3. सोने
 - 4. लोहे

Question ID : 65497828441
Status : Answered
Chosen Option : 3

Q.8 'आँख लगाना' मुहावरे का सही अथ है-

- Ans
- 1. गहरी नींद आना
 - 2. झपकी आना
 - 3. आँख म दद होना
 - 4. गले पड़ना

Question ID : 65497828454
Status : Answered
Chosen Option : 2

Q.9 दिए गए वाक्य का वह भाग तय कर जिसमें कोई त्रुटि है। यदि कोई त्रुटि नहीं है, तो 'कोई त्रुटि नहीं है' विकल्प को चुन।

वैशेषण पढ़ते ही वह फोन कर दिया।

- Ans
- 1. कोई त्रुटि नहीं है
 - 2. वैशेषण पढ़ते ही
 - 3. वह
 - 4. फोन कर दिया

Question ID : 65497828442
Status : Answered
Chosen Option : 3

Q.10 'सामान्य नियम के विरुद्ध बात' वाक्य में शब्दों के लिए एक शब्द होगा-

- Ans
- 1. अपवाद
 - 2. वाद
 - 3. संवाद
 - 4. विवाद

Question ID : 65497828455
Status : Answered
Chosen Option : 1

Q.11 सहायक शब्दों - रेखांकित शब्दों का सही विलोम बताइए-

- Ans
- 1. भाव
 - 2. गुण
 - 3. दुःभाव
 - 4. विचार

Question ID : 65497828457
Status : Answered
Chosen Option : 3

Q.12 रचना भरने के लिए सबसे उपयुक्त शब्दों का चयन कर।

तीनों _____ के नामों में से एक नाम चुनिए जो लोकीनाथ कहलाते हैं।

- Ans
- 1. भुवनों
 - 2. धरती
 - 3. आकाशों
 - 4. भवनों

Question ID : 65497828446
Status : Answered
Chosen Option : 4

Q.13 'गुणदोष का समुच्चय' में 'संयोजक' के लिए एक शब्द लिखिए-

- Ans
- 1. जिज्ञासु
 - 2. शांति
 - 3. शोचनीय
 - 4. समीक

Question ID : 65497828458
Status : Answered
Chosen Option : 4

Q.14 दिए गए वा म रेखांकित खंड को ति थापित करने के लिए सबसे उपयु विक का चयन कर।
यदि इसे ति थापित करने की आव कता नहीं है, तो विक 'किसी बदलाव की आव कता नहीं है'
का चयन कर।

पिताजी मेरे लिए कुछ कपड़े ले आये।

Ans 1. किसी बदलाव की आव कता नहीं है।

2. मेरे के लिए

3. मेरे को

4. मुझे

Question ID : 65497828450

Status : Answered

Chosen Option : 2

Q.15 इस म, एक श चार अलग-अलग कार से लिखा गया है, जिसम से केवल एक को सही ढंग से
लिखा गया है। सही वतनी वाले श का चयन कर।

Ans 1. अनधिकार

2. अनाधीकार

3. अनाधिकार

4. अनधीकार

Question ID : 65497828444

Status : Answered

Chosen Option : 3

Q.16 दिए गए श के समानाथ श का चयन कर।

कमल

Ans 1. अरवि

2. आयतन

3. अमृत

4. अमिय

Question ID : 65497828452

Status : Answered

Chosen Option : 1

Q.17 र थान को भरने के लिए सबसे उपयु विक का चयन कर।

मेरी _____ है कि मुझे चार दिन की छुी दी जाए।

Ans 1. पूजा

2. याचना

3. आथना

4. आराधना

Question ID : 65497828459

Status : Answered

Chosen Option : 3

Q.18 इस म, एक श चार अलग-अलग कार से लिखा गया है, जिसम से केवल एक को सही ढंग से लिखा गया है। सही वतनी वाले श का चयन कर।

- Ans
- 1. मातृहिन
 - 2. मातह न
 - 3. मातहीन
 - 4. मातृहीन

Question ID : 65497828445
Status : Answered
Chosen Option : 4

Q.19 दिए गए श के समानाथ श का चयन कर।

यमुना

- Ans
- 1. आपगा
 - 2. तड़ाग
 - 3. अकजा
 - 4. नि गा

Question ID : 65497828443
Status : Answered
Chosen Option : 4

Q.20 दिए गए वा म रेखांकित खंड को ति थापित करने के लिए सबसे उपयु विक का चयन कर। यदि इसे ति थापित करने की आव कता नहीं है, तो विक 'किसी बदलाव की आव कता नहीं है' का चयन कर।

मेरी गाय को छूने का उ ाह कभी कोई नहीं कर सकता ेकि वह मारती है।

- Ans
- 1. मेरी गाय को छूने का हि त
 - 2. मेरी गाय को छूने का साहस
 - 3. किसी बदलाव की आव कता नहीं है।
 - 4. मेरी गाय को छूने की मेहनत

Question ID : 65497828447
Status : Answered
Chosen Option : 2

Comprehension:

गा श को पढ़कर पूछे गये े के उ र लिख ए-

एक साधु थे। भिा टन से मजे से दिन गुजारते और आनंदपूर्वक भजन करते थे। एक दिन मह ाकां सिर पर चढ़ी, झोपड़ी के चूहों से निपटने के लिए एक बि ी पाली। बि ी के लिए दूध की ज रत पड़ी - तो गाय खरीद कर लाए। गाय को साज-संभाल के लिए महिला की आव कता पड़ी। महिला से शादी कर ली। पर वार बना। संत बनकर लोक क ाण करने का ल कहीं से कहीं चला गया। भौतिक आकां ओं का जाल-जंजाल इतना बढ़ गया कि परमाथ का ल पूरा करने के लिए कुछ भी नहीं बचता था। सारी मता उसी म ख जाती थी। सपनों का जमघट ही शेष रह जाता है। कहने का ता य यह है कि हम हमारे ल की ओर ान देना चाहिए।

SubQuestion No : 21

Q.21 साधु अपना निवाह _____ करके करता था। र थान की पूति कीजिए।

- Ans
- 1. खेती करके
 - 2. ब ों को पढ़ाकर
 - 3. भिा टन करके
 - 4. नौकरी करके

Question ID : 65497828461
Status : Answered
Chosen Option : 3

Comprehension:

गाँव को पढ़कर पूछे गये 'के' उर लिख ए-

एक साधु थे। भिा टन से मजे से दिन गुजारते और आनंदपूर्वक भजन करते थे। एक दिन मह ाकां सिर पर चढ़ी, झोपड़ी के चूहों से निपटने के लिए एक बिी पाली। बिी के लिए दूध की ज रत पड़ी - तो गाय खरीद कर लाए। गाय को साज-संभाल के लिए महिला की आव कता पड़ी। महिला से शादी कर ली। पर वार बना। संत बनकर लोक क ाण करने का ल कहीं से कहीं चला गया। भौतिक आकां ओं का जाल-जंजाल इतना बढ़ गया कि परमाथ का ल पूरा करने के लिए कुछ भी नहीं बचता था। सारी मता उसी म ख जाती थी। सपनों का जमघट ही शेष रह जाता है। कहने का ता य यह है कि हम हमारे ल की ओर ान देना चाहिए।

SubQuestion No : 22

Q.22 'आव कता' के थान पर उचित श लिख ए।

- Ans 1. अव
 2. ज रत
 3. अ लमंद
 4. पर म

Question ID : 65497828462

Status : Answered

Chosen Option : 2

Comprehension:

गाँव को पढ़कर पूछे गये 'के' उर लिख ए-

एक साधु थे। भिा टन से मजे से दिन गुजारते और आनंदपूर्वक भजन करते थे। एक दिन मह ाकां सिर पर चढ़ी, झोपड़ी के चूहों से निपटने के लिए एक बिी पाली। बिी के लिए दूध की ज रत पड़ी - तो गाय खरीद कर लाए। गाय को साज-संभाल के लिए महिला की आव कता पड़ी। महिला से शादी कर ली। पर वार बना। संत बनकर लोक क ाण करने का ल कहीं से कहीं चला गया। भौतिक आकां ओं का जाल-जंजाल इतना बढ़ गया कि परमाथ का ल पूरा करने के लिए कुछ भी नहीं बचता था। सारी मता उसी म ख जाती थी। सपनों का जमघट ही शेष रह जाता है। कहने का ता य यह है कि हम हमारे ल की ओर ान देना चाहिए।

SubQuestion No : 23

Q.23 मह ाकां ा रेखांकित श का उचित अथ लिख ए।

- Ans 1. बलवान होना
 2. उ ति को ा करने की इ ा
 3. दयालु
 4. लायक न होना

Question ID : 65497828463

Status : Answered

Chosen Option : 2

Comprehension:

गाँव को पढ़कर पूछे गये 'के' उर लिख ए-

एक साधु थे। भिा टन से मजे से दिन गुजारते और आनंदपूर्वक भजन करते थे। एक दिन मह ाकां सिर पर चढ़ी, झोपड़ी के चूहों से निपटने के लिए एक बिी पाली। बिी के लिए दूध की ज रत पड़ी - तो गाय खरीद कर लाए। गाय को साज-संभाल के लिए महिला की आव कता पड़ी। महिला से शादी कर ली। पर वार बना। संत बनकर लोक क ाण करने का ल कहीं से कहीं चला गया। भौतिक आकां ओं का जाल-जंजाल इतना बढ़ गया कि परमाथ का ल पूरा करने के लिए कुछ भी नहीं बचता था। सारी मता उसी म ख जाती थी। सपनों का जमघट ही शेष रह जाता है। कहने का ता य यह है कि हम हमारे ल की ओर ान देना चाहिए।

SubQuestion No : 24

Q.24 परमाथ- रेखांकित श का विलोम बताइए।

- Ans 1. लालची
 2. दु
 3. ाथ
 4. ोधी

Question ID : 65497828464

Status : Answered

Chosen Option : 3

Comprehension:

गाँव को पढ़कर पूछे गये लोगों के उत्तर लिखिए-

एक साधु थे। भिन्न से मजे से दिन गुजारते और आनंदपूर्वक भजन करते थे। एक दिन महाकांक्षी सिर पर चढ़ी, झोपड़ी के चूहों से निपटने के लिए एक बिड़ी पाली। बिड़ी के लिए दूध की जरूरत पड़ी - तो गाय खरीद कर लाए। गाय को साज-संभाल के लिए महिला की आवश्यकता पड़ी। महिला से शादी कर ली। पर वार बना। संत बनकर लोक कल्याण करने का लक्ष्य कहीं से कहीं चला गया। भौतिक आकांक्षों का जाल-जंजाल इतना बढ़ गया कि परमात्मा का लक्ष्य पूरा करने के लिए कुछ भी नहीं बचता था। सारी मत्ता उसी मस्ख जाती थी। सपनों का जमघट ही शेष रह जाता है। कहने का तात्पर्य यह है कि हम हमारे लक्ष्यों की ओर ध्यान देना चाहिए।

SubQuestion No : 25

Q.25 झोपड़ी के चूहों से निपटने के लिए साधु ने क्या किया?

Ans 1. बिड़ी पाली

2. कुछ भी नहीं किया

3. दवा डालकर चूहों को मार दिया।

4. कुत्ते को पाला

Question ID : 65497828465

Status : Answered

Chosen Option : 1