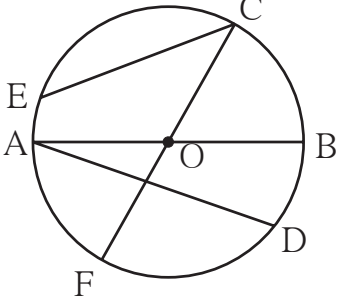




जरा आठवूया.



- शेजारील वर्तुळातील त्रिज्या, जीवा व व्यास ओळखा व त्यांची नावे खालील सारणीत लिहा.

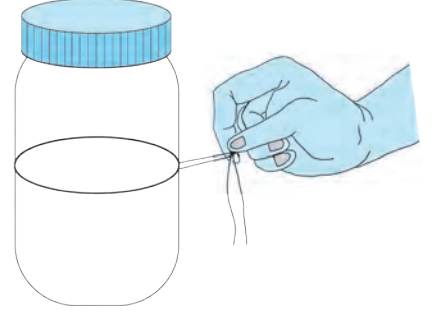
त्रिज्या				
जीवा				
व्यास				

### वर्तुळाचा परीघ (Circumference of a circle)

**कृती I** पाण्याची दंडगोलाकृती बाटली कागदावर ठेवून तळाभोवती वर्तुळ काढा. दोऱ्याच्या साहाय्याने वर्तुळाचा परीघ मोजा.

**कृती II** बांगडीचा परीघ दोऱ्याने मोजा.

**कृती III** कोणत्याही एका वर्तुळाकार वस्तूचा दोऱ्याच्या साहाय्याने परीघ मोजा.



जाणून घेऊया.

### परीघ व व्यास संबंध

**कृती I** खाली दिलेल्या वस्तूंचे परीघ व व्यास मोजून परिघाचे व्यासाशी असणारे गुणोत्तर सारणीत लिहा.

अ. क्र.	वस्तू	परीघ	व्यास	परिघाचे व्यासाशी गुणोत्तर
1.	बांगडी	19 सेमी	6 सेमी	$\frac{19}{6} = 3.16$
2.	वर्तुळाकार पालथी थाळी	.....	.....	.....
3.	बरणीचे झाकण	.....	.....	.....

सारणीवरून परिघाचे व्यासाशी असलेले गुणोत्तर तपासा. आपणांस काय आढळून येते ?

कोणत्याही वर्तुळाच्या परिघाचे त्याच्या व्यासाशी असणारे गुणोत्तर तिपटीपेक्षा किंचित जास्त असून जवळपास स्थिर असते. ही स्थिर संख्या  $\pi$  (पाय) या ग्रीक वर्णाक्षराने दर्शवली जाते. ही संख्या परिमेय संख्या नाही हे थोर गणितज्ञांनी परिश्रमाने सिद्ध केले आहे. व्यवहारामध्ये  $\pi$  ची किंमत  $\frac{22}{7}$  किंवा 3.14 अशी घेतली जाते. उदाहरणात  $\pi$  ची किंमत दिली नसेल तर ती  $\frac{22}{7}$  असे गृहीत धरतात.

त्रिज्या 'r', व्यास 'd' व परीघ 'c' असल्यास  $\frac{\text{परीघ (c)}}{\text{व्यास (d)}} = \pi$  म्हणजेच  $c = \pi d$

पण  $d = 2r$   $\therefore c = \pi \times 2r$  म्हणजेच  $c = 2\pi r$

**उदा.** एका वर्तुळाचा व्यास 14 सेमी आहे, तर त्याचा परीघ काढा.

**उकल :** वर्तुळाचा व्यास :  $d = 14$  सेमी  
वर्तुळाचा परीघ =  $\pi d$   
 $c = \frac{22}{7} \times 14$   
 $\therefore$  वर्तुळाचा परीघ = 44 सेमी

**उदा.** एका वर्तुळाची त्रिज्या 35 सेमी आहे, तर त्याचा परीघ काढा.

**उकल :** वर्तुळाची त्रिज्या :  $r = 35$  सेमी  
वर्तुळाचा परीघ =  $2\pi r$   
 $c = 2 \times \frac{22}{7} \times 35$   
 $\therefore$  वर्तुळाचा परीघ = 220 सेमी

**उदा.** एका वर्तुळाचा परीघ 198 सेमी आहे, तर त्याची त्रिज्या व व्यास काढा.

**उकल :** वर्तुळाचा परीघ,  $c = 2\pi r$   
 $198 = 2 \times \frac{22}{7} \times r$   
 $r = 198 \times \frac{1}{2} \times \frac{7}{22}$   
त्रिज्या = 31.5 सेमी  
 $\therefore$  व्यास =  $2 \times 31.5 = 63$  सेमी

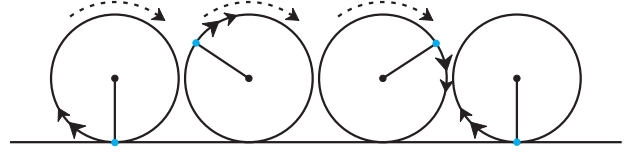
**उदा.** एका वर्तुळाचा परीघ 62.80 सेमी आहे.  $\pi = 3.14$  घेऊन वर्तुळाचा व्यास काढा.

**उकल :** वर्तुळाचा परीघ,  $c = \pi d$   
 $62.80 = 3.14 \times d$   
 $\frac{62.80}{3.14} = d$   
 $20 = d$   
 $\therefore$  व्यास = 20 सेमी

**उदा.** एका वर्तुळाकार जागेची त्रिज्या 7.7 मीटर आहे. त्या जागेस तीन पदरी तारेचे कुंपण घालण्यासाठी प्रतिमीटर 50 रुपये प्रमाणे किती खर्च येईल ?

**उकल :** वर्तुळाकार जागेचा परीघ =  $2\pi r = 2 \times \frac{22}{7} \times 7.7 = 48.4$   
एकपदरी कुंपण घालण्यासाठी लागणाऱ्या तारेची लांबी = 48.4 मी  
एकपदरी कुंपणाचा खर्च = तारेची लांबी  $\times$  प्रतिमीटर दर  
=  $48.4 \times 50$   
= 2420 रुपये  
 $\therefore$  तीनपदरी कुंपणाचा खर्च =  $3 \times 2420 = 7260$  रुपये

उदा. एका बसच्या चाकाचा व्यास 0.7 मी आहे.  
दोन गावांमधील 22 किमी अंतर पूर्ण  
करण्यासाठी चाकाचे किती फेरे होतील ?



उकल : चाकाचा परीघ =  $\pi d$   
 $= \frac{22}{7} \times 0.7$   
 $= 2.2$  मी

सजातीय राशींचे गुणोत्तर काढताना त्यांची  
एकके समान असावी लागतात.  
22 किमी =  $22 \times 1000 = 22000$  मीटर

म्हणजे चाकाचा एक फेरा पूर्ण झाला की 2.2 मी. अंतर पार होते. (1 फेरा = 1 परीघ)

चाकाचे एकूण फेरे =  $\frac{\text{अंतर}}{\text{परीघ}} = \frac{22000}{2.2} = \frac{220000}{22} = 10000$

22 किमी अंतर पूर्ण करण्यासाठी बसच्या चाकाचे 10000 फेरे होतील.

### सरावसंच 42

1. खालील सारणी पूर्ण करा.

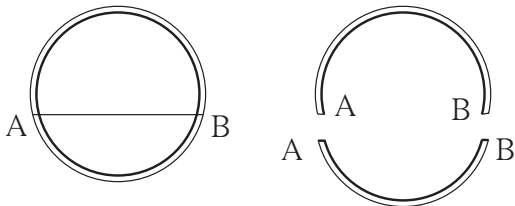
अ.क्र.	त्रिज्या ( $r$ )	व्यास ( $d$ )	परीघ ( $c$ )
(i)	7 सेमी	.....	.....
(ii)	.....	28 सेमी	.....
(iii)	.....	.....	616 सेमी
(iv)	.....	.....	72.6 सेमी

- एका वर्तुळाचा परीघ 176 सेमी आहे. तर त्याची त्रिज्या काढा.
- एका वर्तुळाकार बागेची त्रिज्या 56 मीटर आहे. बागेभोवती तारेचे चार पदरी कुंपण घालण्यासाठी प्रतिमीटर 40 रुपये प्रमाणे किती खर्च येईल ?
- एका बैलगाडीच्या चाकाचा व्यास 1.4 मीटर आहे. त्या बैलगाडीला 1.1 किलोमीटर अंतर पूर्ण करण्यासाठी तिच्या चाकाचे किती फेरे होतील ?



जरा आठवूया.

### वर्तुळकंस (Arc of the circle)



बाजूला एक प्लॉस्टिकची वर्तुळाकार बांगडी दाखवली आहे. समजा ही बांगडी A व B बिंदूपाशी तुटली, तर चित्रातील बांगडीच्या प्रत्येक तुकड्याला वर्तुळाच्या संदर्भात काय म्हणतात ?

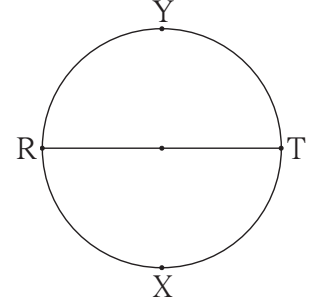
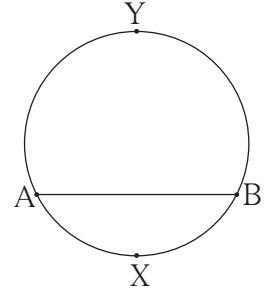


जाणून घेऊया.

सोबतच्या आकृतीमध्ये जीवा AB मुळे वर्तुळाचे दोन भाग झाले आहेत. त्यांपैकी कंस AXB हा लहान आहे, त्याला **लघुकंस** म्हणतात आणि कंस AYB हा मोठा आहे, त्याला **विशालकंस** म्हणतात. लघुकंस AXB हा कंस AB असाही लिहितात.

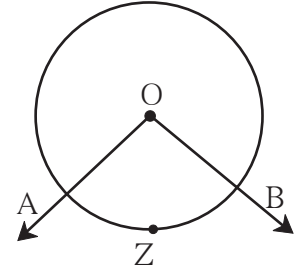
ज्या दोन वर्तुळकंसांचे अंत्यबिंदू सामाईक असतात आणि ते दोन वर्तुळकंस मिळून वर्तुळ पूर्ण होते, ते कंस एकमेकांचे संगतकंस असतात. येथे कंस AYB व कंस AXB हे एकमेकांचे संगतकंस आहेत.

सोबतच्या आकृतीमध्ये जीवा RT हा वर्तुळाचा व्यास आहे. व्यासामुळे वर्तुळाचे दोन्ही कंस समान होतात. त्यांना **अर्धवर्तुळकंस** म्हणतात, हे ध्यानात घ्या.



### केंद्रीय कोन व कंसाचे माप (Central angle and Measure of an arc)

सोबतच्या आकृतीमध्ये, वर्तुळकेंद्र 'O' हा  $\angle AOB$  चा शिरोबिंदू आहे. वर्तुळाचा केंद्रबिंदू हा ज्या कोनाचा शिरोबिंदू असतो. त्या कोनाला **केंद्रीय कोन** म्हणतात. आकृतीतील  $\angle AOB$  हा कंस AZB शी निगडित केंद्रीय कोन आहे. वर्तुळ कंसाचे केलेल्या केंद्रीय कोनाचे माप हे त्या कंसाचे माप मानले जाते.

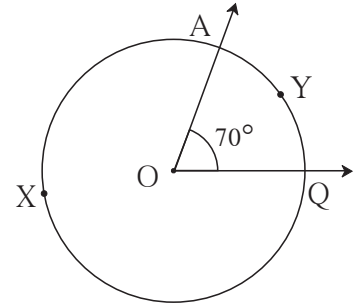


#### ★ लघुकंसाचे माप

शेजारील आकृतीमध्ये  $\angle AOQ$  या केंद्रीय कोनाचे माप  $70^\circ$  आहे.

$\therefore$  लघुकंस AYQ चे माप  $70^\circ$  आहे.

$\therefore m(\text{कंस AYQ}) = 70^\circ$  असे लिहितात.

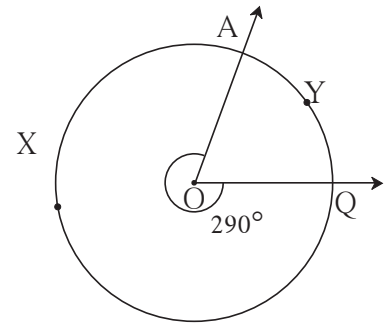


#### ★ विशालकंसाचे माप

विशालकंसाचे माप =  $360^\circ$  - संगत लघुकंसाचे माप

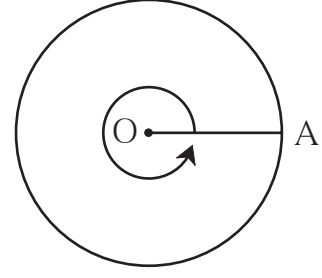
$\therefore$  आकृतीतील विशालकंस AXQ चे माप

$360^\circ - 70^\circ = 290^\circ$  आहे.



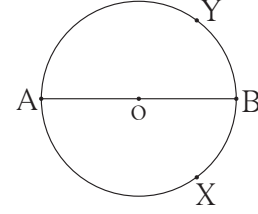
★ वर्तुळाचे माप

आकृतीत दाखवल्याप्रमाणे वर्तुळाची OA ही त्रिज्या घड्याळाच्या काट्याच्या विरुद्ध दिशेने पूर्ण कोनातून फिरते. त्या वेळी होणारा कोन  $360^\circ$  मापाचा आहे. तिचे A हे टोक एक वर्तुळ पूर्ण करते. वर्तुळाने केलेला केंद्रीय कोन  $360^\circ$  आहे.  $\therefore$  पूर्ण वर्तुळाचे माप  $360^\circ$  असते.



★ अर्धवर्तुळकंसाचे माप

आता, आकृतीवरून अर्धवर्तुळ कंस AXB व अर्धवर्तुळकंस AYC यांची मापे ठरवा.



हे मला समजले.

- लघुकंसाचे माप हे त्याच्या संबंधित केंद्रीय कोनाच्या मापाएवढे असते.
- विशालकंसाचे माप =  $360^\circ$  - संगत लघुकंसाचे माप
- अर्धवर्तुळकंसाचे माप  $180^\circ$  असते.

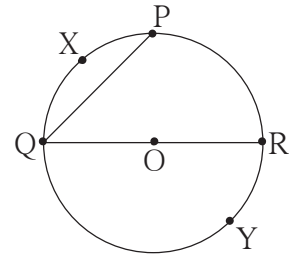
सरावसंच 43

1. अचूक पर्याय निवडा.

जर कंस AXB व कंस AYC हे एकमेकांचे संगतकंस असतील आणि  $m(\text{कंस AXB}) = 120^\circ$  तर  $m(\text{कंस AYC}) =$  किती ?

- (i)  $140^\circ$     (ii)  $60^\circ$     (iii)  $240^\circ$     (iv)  $160^\circ$

2. 'O' केंद्र असलेल्या वर्तुळात काही कंस दाखवले आहेत. त्यांपैकी वर्तुळामधील लघुकंस, विशालकंस व अर्धवर्तुळकंस यांची नावे लिहा.



3. O केंद्र असलेल्या वर्तुळात लघुकंस PXQ चे माप  $110^\circ$  आहे, तर विशालकंस PYQ चे माप काढा.



ICT Tools or Links

Geogebra Software चा उपयोग करून केंद्रीय कोन आणि कंसाची विविध मापे यांचा सहसंबंध move option चा उपयोग करून अनुभवा.